
This is a reproduction of a library book that was digitized by Google as part of an ongoing effort to preserve the information in books and make it universally accessible.

Google™ books

<https://books.google.com>





A propos de ce livre

Ceci est une copie numérique d'un ouvrage conservé depuis des générations dans les rayonnages d'une bibliothèque avant d'être numérisé avec précaution par Google dans le cadre d'un projet visant à permettre aux internautes de découvrir l'ensemble du patrimoine littéraire mondial en ligne.

Ce livre étant relativement ancien, il n'est plus protégé par la loi sur les droits d'auteur et appartient à présent au domaine public. L'expression "appartenir au domaine public" signifie que le livre en question n'a jamais été soumis aux droits d'auteur ou que ses droits légaux sont arrivés à expiration. Les conditions requises pour qu'un livre tombe dans le domaine public peuvent varier d'un pays à l'autre. Les livres libres de droit sont autant de liens avec le passé. Ils sont les témoins de la richesse de notre histoire, de notre patrimoine culturel et de la connaissance humaine et sont trop souvent difficilement accessibles au public.

Les notes de bas de page et autres annotations en marge du texte présentes dans le volume original sont reprises dans ce fichier, comme un souvenir du long chemin parcouru par l'ouvrage depuis la maison d'édition en passant par la bibliothèque pour finalement se retrouver entre vos mains.

Consignes d'utilisation

Google est fier de travailler en partenariat avec des bibliothèques à la numérisation des ouvrages appartenant au domaine public et de les rendre ainsi accessibles à tous. Ces livres sont en effet la propriété de tous et de toutes et nous sommes tout simplement les gardiens de ce patrimoine. Il s'agit toutefois d'un projet coûteux. Par conséquent et en vue de poursuivre la diffusion de ces ressources inépuisables, nous avons pris les dispositions nécessaires afin de prévenir les éventuels abus auxquels pourraient se livrer des sites marchands tiers, notamment en instaurant des contraintes techniques relatives aux requêtes automatisées.

Nous vous demandons également de:

- + *Ne pas utiliser les fichiers à des fins commerciales* Nous avons conçu le programme Google Recherche de Livres à l'usage des particuliers. Nous vous demandons donc d'utiliser uniquement ces fichiers à des fins personnelles. Ils ne sauraient en effet être employés dans un quelconque but commercial.
- + *Ne pas procéder à des requêtes automatisées* N'envoyez aucune requête automatisée quelle qu'elle soit au système Google. Si vous effectuez des recherches concernant les logiciels de traduction, la reconnaissance optique de caractères ou tout autre domaine nécessitant de disposer d'importantes quantités de texte, n'hésitez pas à nous contacter. Nous encourageons pour la réalisation de ce type de travaux l'utilisation des ouvrages et documents appartenant au domaine public et serions heureux de vous être utile.
- + *Ne pas supprimer l'attribution* Le filigrane Google contenu dans chaque fichier est indispensable pour informer les internautes de notre projet et leur permettre d'accéder à davantage de documents par l'intermédiaire du Programme Google Recherche de Livres. Ne le supprimez en aucun cas.
- + *Rester dans la légalité* Quelle que soit l'utilisation que vous comptez faire des fichiers, n'oubliez pas qu'il est de votre responsabilité de veiller à respecter la loi. Si un ouvrage appartient au domaine public américain, n'en déduisez pas pour autant qu'il en va de même dans les autres pays. La durée légale des droits d'auteur d'un livre varie d'un pays à l'autre. Nous ne sommes donc pas en mesure de répertorier les ouvrages dont l'utilisation est autorisée et ceux dont elle ne l'est pas. Ne croyez pas que le simple fait d'afficher un livre sur Google Recherche de Livres signifie que celui-ci peut être utilisé de quelque façon que ce soit dans le monde entier. La condamnation à laquelle vous vous exposeriez en cas de violation des droits d'auteur peut être sévère.

À propos du service Google Recherche de Livres

En favorisant la recherche et l'accès à un nombre croissant de livres disponibles dans de nombreuses langues, dont le français, Google souhaite contribuer à promouvoir la diversité culturelle grâce à Google Recherche de Livres. En effet, le Programme Google Recherche de Livres permet aux internautes de découvrir le patrimoine littéraire mondial, tout en aidant les auteurs et les éditeurs à élargir leur public. Vous pouvez effectuer des recherches en ligne dans le texte intégral de cet ouvrage à l'adresse <http://books.google.com>

1927
A
356

~~III C. 1. Le Clerc~~



Hos. 13. MAI 1922

Pm



A MONSIEUR
MONSIEUR
LE MARQUIS
DE LOUVOIS
Ministre et Secretaire
d'Etat, commandeur
et Chancelier des
ordres du Roy, grand
troussant et grand
maître general des
Departemens de la
Navy, arts et
manufactures de
France
MONSIEUR

s. le Clerc f.

TRAITE'
DE
GEOMETRIE.

PAR SEB. LE CLERC.



A PARIS,
Chez JEAN JOMBERT, près des Augustins,
à l'Image Nostre-Dame.

M. DC. XC.
AVEC PRIVILEGE DU ROY.

Le Clerc, Séb[astien]



1927 a 356



CE Traité de Geometrie est divisé en dix Chapitres.

Le I. contient les Définitions.

Le II. établit des principes que j'appelle Notions, & qui sont des veritez évidemment connues par elles-mêmes, ou par des démonstrations incontestables.

Le III. donne la pratique des Lignes & des Angles, & fait décrire les figures des Plans.

Le IV. enseigne à transfigurer ces mêmes Plans, c'est à dire, à leur donner de nouvelles figures, sans en diminuer ou augmenter le contenu.

Le V. apprend à les diviser.

Le VI. montre comment il les faut assembler, & comment on peut les augmenter ou diminuer de grandeur, selon quelque quantité proposée.

Le VII. enseigne à les mesurer.

Le VIII. contient la Trigonometrie ou la doctrine des Triangles par le calcul.

Le IX. traite des Solides, & particulièrement de leur Toisé.

Le X. enfin, donne la pratique pour le Terrain, où l'on voit comme on leve les Plans, comme on les trace, & comme on mesure les dimensions inaccessibles.



EXTRAIT DU PRIVILEGE DU ROY.

PAR Grace & Privilege du Roy, donné à Versailles le 26. Juillet 1688. & signé par le Roy en son Conseil, LE PETIT ; Il est permis au Sieur Sebastien le Clerc, Désignateur & Graveur ordinaire du Roy, de faire imprimer, vendre, & distribuer par tel Imprimeur ou Libraire qu'il voudra choisir, un Livre par luy composé, intitulé *Traité de Geometrie*, pendant le temps & espace de six années entieres & consecutives, à compter du jour que ledit Livre sera achevé d'imprimer pour la premiere fois; Avec deffences à toutes personnes, de quelque qualité & condition qu'elles soient, de contrefaire ou faire contrefaire ledit Livre, à peine de deux mille livres d'amende, confiscation des exemplaires contrefaits, & de tous dépens, dommages & interests, ainsi qu'il est plus au long contenu audit Privilege.

Registré sur le Livre de la Communauté des Imprimeurs & Libraires de Paris, le 19. Février 1689. à la charge que le débit dudit Livre sera fait par un Imprimeur ou Libraire, suivant l'Edit, Statuts, & Reglemens.

J. B. COIGNARD, Syndic.

Et ledit Sieur le Clerc a cédé son droit du present Privilege à Jean Jombert, Marchand Libraire à Paris, pour en jouir suivant l'accord fait entr'eux.

*Achevé d'imprimer pour la premiere fois le
20. Avril 1690.*

TRAITE

Handwritten decorative text in a cursive script, likely a printer's mark or a decorative flourish.

TRAITE' DE GEOMETRIE.

CHAPITRE PREMIER.

DEFINITIONS

1. *De la Geometrie.*



A Geometrie est une partie des Mathematiques qui a pour objet la quantité qu'on nomme continuë, & qui est étenduë ou en longueur seulement, ou en longueur & largeur, ou en longueur, largeur & profondeur ; ces trois especes de quantité ayant pour termes, des points, des lignes, & des surfaces:

2. *Du Point.*

Le Point est ce qui n'a aucune partie;

3. *De la Ligne.*

La Ligne est une longueur sans largeur.

A

TRAITE' DE GEOMETRIE.

4. De la Ligne droite.

La Ligne droite est celle qui est également comprise entre ses extremittez, *ou bien*, c'est la plus courte qu'on puisse mener d'un point à un autre.




5. De la Ligne courbe.

La Ligne courbe est inégalement comprise entre ses extremittez.



6. Des Lignes paralleles.

Deux Lignes sont paralleles, lorsqu'elles s'accompagnent en égale distance.



7. De l'Angle.

Deux lignes font un angle lorsqu'elles se joignent à un point en s'inclinant l'une vers l'autre, & ces lignes sont appellées jambes.

Ainsi, les lignes AB . CB . sont les jambes de l'Angle ABC .

8. De l'Angle rectiligne, courbeligne & mixtiligne.

L'Angle est nommé rectiligne si les lignes qui le font sont droites, courbeligne, si elles sont courbes, & mixtiligne, si une des lignes est droite & l'autre courbe.



CHAPITRE I.

9. De l'Angle Droit, Aigu & Obtus.

Si une ligne droite rencontrant une autre ligne droite, fait des angles égaux de part & d'autre, ces angles sont droits, mais si elle les fait inégaux, le plus ouvert est obtus, & le moins ouvert est aigu.



A. Angle droit.
B. Angle obtus.
C. Angle aigu.

Il faut observer que l'égalité des angles ne s'entend pas de l'égalité des lignes mais de leurs ouvertures, & que le plus grand angle est celui qui est le plus ouvert & au contraire, & que deux angles sont égaux s'ils sont ouverts également quoiqu'ils aient des jambes inégales.

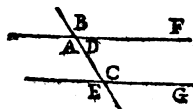
10. De la Perpendiculaire.

La Perpendiculaire est une ligne droite qui tombe ou qui s'élève sur une autre ligne droite faisant des angles droits.



11. De l'Angle alterne, opposé, & de même part.

Une ligne droite comme BE coupant les parallèles BF, EG, l'angle A est alterne au regard de l'angle C, au regard de l'angle B, il est opposé au sommet, mais il est de même part que l'angle E, & les angles A, D, B sont de suite.



A ij

12. *De la Surface.*

La Surface ou Superficie est une quantité étendue en longueur & largeur sans épaisseur ou profondeur.

13. *De la Surface plane.*

La Surface plane ou plate & qu'on appelle Plan, est celle qui est également étendue entre ses extrémités, & sur laquelle une ligne droite peut estre tirée en tous sens.



14. *De la Surface courbe.*

La Surface courbe est appelée convexe si elle est relevée, & concave si elle est creuse & enfoncée.



A. Surface convexe.
B. Surface concave.

15. *De l'assiette des Plans.*

Un Plan est horizontal & de niveau s'il est couché comme le dessus d'une eau calme, vertical & à plomb s'il est dressé comme un mur élevé bien droit, sinon il est incliné, penché & en talu.

16. *Du Terme.*

Le Terme est l'extrémité d'une quantité.

Le Point est un terme de la ligne, & la ligne est un terme de la surface comme la surface est un terme du corps. La ligne commence à un point, finit à un autre; Et la surface est terminée ou d'une seule ligne ou de plusieurs, de même que le corps est terminé ou d'une seule surface ou de plusieurs.

CHAPITRE I.

18. De la Figure.

La figure d'un Plan, est la modification de ses termes ou extremitéz.

19. De la Figure rectiligne.

La figure rectiligne est composée de lignes droites qu'on nomme côtez.

20. Des Poligones.

Toutes figures Planes & rectilignes sont nommées d'un nom general, Poligone, mais chacune en particulier a un nom propre tiré du nombre de ses termes. *On appelle*

Triangle ou Trigone, la figure de 3. côtez.

Quadrilatere ou Tetragone celle de 4.

Pentagone celle de 5.

Exagone celle 6.

Eptagone celle de 7.

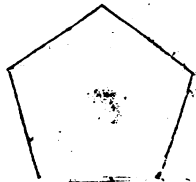
Octogone celle de 8.

Eneagone celle de 9.

Decagone celle de 10.

Ondecagone celle d'11.

Dodecagone celle de 12.



Vn Triangle se distingue d'un autre par la difference de ses angles ou de ses côtez.

21. Du Triangle rectangle.

Le Triangle rectangle est celui qui a un angle droit.

22. Du Triangle ambliگونه.

Le Triangle ambliگونه ou obtus-angle est celui qui a un angle obtus.

A iij

6 TRAITÉ DE GEOMETRIE

23. Du Triangle oxigone.

Le Triangle oxigone a les trois angles aigus.



24. Du Triangle équilatéral.

Le Triangle équilatéral a ses trois côtés égaux.

25. Du Triangle isocèle.

Le Triangle isocèle a seulement deux côtés égaux.

26. Du Triangle scalène.

Le Triangle scalène a ses trois côtés inégaux.




Les Figures de quatre côtés reçoivent aussi des dénominations particulières de la qualité de leurs angles & du rapport de leurs côtés.

27. Du Carré.

Le Carré est une figure de quatre côtés égaux & de quatre angles droits.

28. Du Rectangle.

Le Rectangle ou carré long a ses angles droits & seulement ses côtés opposés égaux.



O. Carré.
P. Rectangle.

29. *Du Parallelogramme.*

Le Parallelogramme a ses côtez opposez paralleles.

30. *Du Rhombe.*

Le Rhombe ou Lozange est un parallelogramme qui a ses quatre côtez égaux, mais seulement les angles opposez égaux, deux étant obtus & les deux autres aigus.

31. *De la Diagonale.*

La ligne AC. menée d'un angle à son opposez est appellée Diagonale.



32. *Du Trapeze regulier.*

Le Trapeze regulier a deux côtez égaux & les deux autres inégaux mais paralleles. L'irregulier a ses quatre côtez inégaux.

33. *De la Base.*

La Base est particulièrement le côté sur lequel la figure se repose, comme le côté BC.



34. *Du Cercle.*

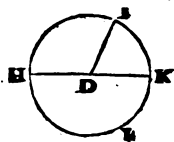
Le Cercle est un Plan terminé d'une seule ligne appellée Circonference, laquelle est par tout égale.

8 **TRAITE DE GEOMETRIE**
 ment éloignée d'un point qui en fait le milieu, &
 qu'on nomme Centre,

Par Cercle on entend aussi quelquefois la seule Circonférence suivant l'usage du vulgaire.

35. *Du Diametre & du Rayon.*

Toutes lignes droites qui passent par le centre du Cercle & qui se terminent à la Circonférence, sont nommées Diametres & leurs moitiées Rayons ou Demidiametres.



H I K. Circonférence.
 D. Centre.
 H K. Diametre.
 D I. Rayon.

36. *Des Degrez, Minutes, secondes, &c.*


La Circonférence du Cercle se divise ordinairement en 360 parties égales ou degrez, & par conséquent, la demicirconférence en 180, & le quart en 90. Chaque degré se soudivise en 60 minutes, chaque minute en 60 secondes, & chaque seconde en 60 tierces, &c.

37. *De l'Arc.*

L'Arc est une partie de la Circonférence d'un Cercle.

38. *De la Corde.*

La Corde est une ligne droite qui joint un Arc par ses extremitéz.

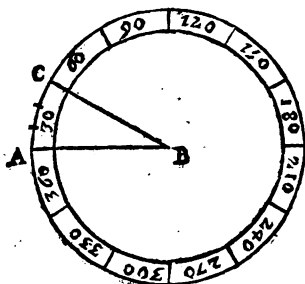


T. Arc.
 V. Corde.

CHAPITRE I.

39. De la mesure de l'Arc & de l'Angle.

Les degrez & leurs parties sont la mesure de l'Arc, & l'Arc est la mesure de l'Angle.



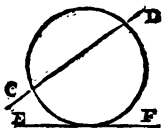
Par exemple, supposé que le point B soit le Centre du Cercle ACD. on jugera de la grandeur de l'Arc AC. par le nombre des degrez & des minutes qu'il contient, comme on jugera de l'ouverture de l'Angle ABC. par la grandeur de l'Arc AC.

40. De la ligne Tangente.

La ligne Tangente est celle qui touche un Cercle sans le couper, & sans le pouvoir couper ou traverser même estant continuée.

41. De la Secante.

La Ligne Secante, croise, coupe & traverse le Cercle.



42. Du Demy cercle.

Le Demy cercle est terminé par le diametre & la demicirconference.

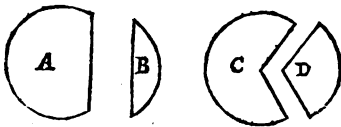


43. *De la Portion de Cercle.*

Si on coupe un Cercle en deux inégalement par une ligne droite, les parties sont appellées Portions ou Segments.

44. *Des Secteurs.*

Que si un Cercle est coupé en deux inégalement par deux rayons, les parties sont dites Secteurs.



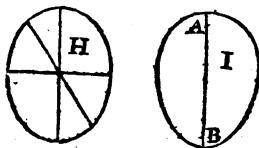
A. Grande portion.
B. Petite portion.
C. Grand Secteur.
D. Petit Secteur.

45. *De l'Ovale.*

L'Ovale est un Plan borné d'une seule ligne-courbe qui se décrit de plusieurs centres & que tous les diametres divisent en deux également.

46. *De l'Elipse.*

L'Elipse est aussi un plan terminé d'une ligne-courbe, mais en figure d'œuf, & qu'un seul diametre divise en deux parties égales.



H. Ovale.
I. Elipse.

47. *De la figure reguliere.*

La figure Reguliere à ses parties opposées semblables & égales.

48. *De l'Irreguliere.*

La figure irreguliere est composée d'angles & de côtez inégaux.

49. *De la figure Equiangle.*

La figure Equiangle a tous ses angles égaux, & deux figures sont equiangles, si les angles de l'une (quoy qu'inégaux entr'eux) sont égaux aux angles de l'autre.



La figure C est equiangle à la figure D.

50. *De la figure Equilaterale.*

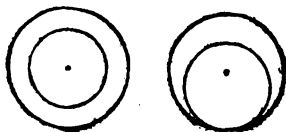
La figure Equilaterale a tous ses côtez égaux.

51. *Des figures Concentriques.*

Les figures Concentriques sont celles qui ont un même centre.

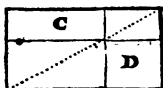
52. *Des Excentriques.*

Les Excentriques dépendent de plusieurs centres.



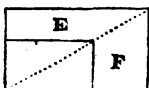
53. *Des Suplements.*

Quand un parallelogramme est divisé en quatre autres par un point de sa diagonale, les deux C, & D, que la diagonale ne coupe pas, sont appellez Suplements ou Complements.



54. *Du Gnomon.*

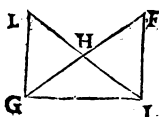
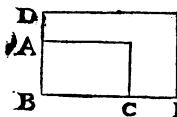
Gnomon est la difference de deux Rectangles, ou bien, c'est l'excez d'un Rectangle par dessus un autre Rectangle, les deux Rectangles ayant un angle commun & une même diagonale.



E F. Gnomon, ou Equiere.

55. *Des parties communes.*

Une partie est commune lors qu'elle appartient à plusieurs quantitez.



Par exemple, on dit que l'angle ABC qui appartient au rectangle DE, comme au rectangle AC, est commun :

que le triangle GHI est commun aux deux triangles GIL, GIE, parce qu'il fait partie de l'un comme il fait partie de l'autre. Ce triangle GHI peut aussi estre appelle commun de ce qu'il est joint au triangle GHL, de même qu'au triangle HIF.

56. *De la grandeur d'une quantité.*

Une quantité est dite grande ou petite par la comparaison qu'on en fait avec une autre de même espece.

57. *De la Raison de deux quantitez.*

Quand on compare deux quantitez entr'elles; ce que l'une est à l'égard de l'autre est appellé Raison.


Par exemple, comparant une ligne de deux pieds à une de 3. on dit que la raison de l'une à l'autre est de 2 à 3. Ou que la premiere est à la deuxieme en raison de 3 à 4. si la premiere est de trois pieds & la deuxieme de quatre.

58. *Des Termes de la raison.*

Les Termes de la Raison sont les quantitez comparées.

59. *Des Termes antecedents & consequents.*

Comparant la ligne A à la ligne B, la ligne A est le terme antecedent & la ligne B le terme consequent.



60. *Des Raisons semblables & égales.*

Deux Raisons sont semblables & égales, lors que les termes de la premiere sont entr'eux comme les termes de la seconde.

La raison d'A à B est semblable & égale à celle de C à D; parce que comme 2 est moitié de 4, 3 est moitié de 6.

$$\begin{array}{cc} A, B. & C, D. \\ 2, 4. & 3, 6. \end{array}$$

61. *Des Termes proportionnels.*

Si deux raisons sont semblables, leurs termes sont proportionnels.

Par exemple, 4 estant deux tiers de 6, comme 2 sont deux tiers de 3, nous disons que les quatre termes ou quantitez 2, 3, 4, 6, sont proportionnels.

62. *De la Proportion.*

La Proportion est un rapport de Raisons.

63. *Des Termes de la Proportion.*

La proportion ne peut avoir moins de trois termes.

Lorsque la Proportion n'a que trois termes, celui du milieu est pris pour deux, comme si on dit qu'A est à B, comme B à C. 2 à 4, comme 4 à 8.

A, B, C.

2, 4, 8.

64. *Des Termes moyens & extremes.*

Dans la Proportion de trois termes, celui du milieu est appellé moyen & les deux autres extremes.

65. *Des Termes en proportion continuée.*

Les Termes sont continuellement proportionnels, lors que ceux du milieu sont pris pour antecedents & pour consequents.

Comme si on dit qu'A est à B, comme B à C, & B à C, comme C à D.

A, B, C, D.

2, 4, 8, 16.

66. *De la Raison doublée & triplée.*

Lors que quatre termes sont continuellement proportionnels le premier est en raison doublée avec le troisiéme, & en raison triplée avec le quatriéme.

C'est à dire que la raison d'A à C, est doublée de celle d'A à B, & que celle d'A à D est triplée de la même raison d'A à B.

A, B, C, D.

1, 3, 9, 27.

67. De la Raison converse.

La Raison converse, est une comparaison du conséquent à l'antecedent.

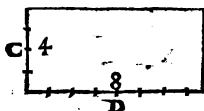
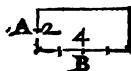
Comme si la raison d'A à B, estant la même que de C à D, on infere que B est à A, comme D à C.

$$A, B ; C, D.$$

$$2, 4 ; 4, 8.$$

68. De la Raison alterne.

La raison alterne ou par échange est celle où la comparaison se fait du conséquent au conséquent de même que de l'antecedent à l'antecedent.



Comme si A estant à C, comme B à D ; on conclut qu'A est à B, comme C à D.

69. De la proportion d'égalité.

La Proportion d'égalité est un rapport des termes extremes d'une suite de raisons, ou bien, c'est un rapport de raisons qui resulte de quelque cercle de raisons semblables.

Comme si après avoir comparé G à H, comme I à K ; & I à K comme L à M ; & L à M, comme N à O ; on conclut, donc N est à O, comme G à H.

$$GH. IK. LM. NO.$$

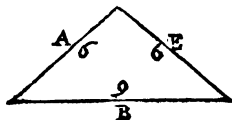
$$2\ 4. 3\ 6. 4\ 8. 5\ 10.$$

$$G\ 2, H\ 4.$$

$$I\ 3, K\ 6. N\ 5, O\ 10.$$

$$L\ 4, M\ 8.$$

Ou bien si y ayant même raison d'A à B, que de C à D ; & de B à E, que de D à F ; on tire cette consequence, donc A est à E, comme C à F.



70. De la Proportion de composition.

La proportion de composition est celle où nous comparons plusieurs termes pris ensemble à plusieurs autres aussi pris ensemble de même qu'un seul à un seul, ou bien, celle où la comparaison se fait de plusieurs termes à un seul comme de plusieurs autres à un seul.

Comme si A estant à C de même que B à D, & B à D comme E à F; nous tirons cette conséquence que les trois termes A, B, E, pris ensemble, sont aux trois termes C, D, F, aussi pris ensemble, comme le seul E au seul F.

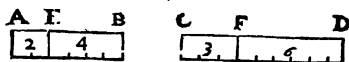
Ou que les trois termes A, B, E pris ensemble, sont au seul E, comme les trois termes C, D, F, pris aussi ensemble sont au seul F.

A, 6.	C, 4.
B, 9.	D, 6.
E, 3.	F, 2.
18.	12.

71. De la Proportion de division.

La Proportion de division est quand dans une raison ainsi que dans une autre, l'excez de l'antecedent par dessus le consequent, est comparé au même consequent.

Comme si AB estant à BE en même raison que CD à DF, on conclut que AE est à BE, comme CF à DF.



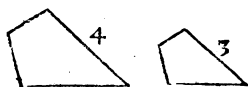
72. Des figures semblables.

Deux figures sont semblables quand elles ont les angles égaux & les côtez proportionnels.

C'est à dire que deux figures sont semblables (quoy qu'inégales) si les angles de l'une estant égaux aux angles de l'autre, leurs côtez sont en mêmes raisons.

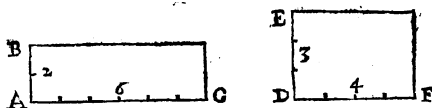
73. *Des termes Homologues.*

Dans les figures semblables, les côtes semblables sont dits homologues. Comme les côtes 3 & 4.



74. *Des termes reciproques.*

Deux figures ont leurs côtes reciproques, si leurs côtes sont proportionnels dans un ordre alternatif, c'est à dire, si les comparant alternativement l'un à l'autre, l'antecedent de la premiere raison, & le consequent de la seconde, se trouvent dans une même figure.



Par exemple, si AB est à DF , comme DE à AC ; ou si AB est à DE , comme DF à AC : ces deux rectangles BC , EF , sont dits avoir les côtes reciproques.

75. *Des plans égaux.*

Les Plans égaux contiennent également & peuvent estre semblables & dissemblables.

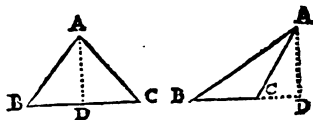
76. *De la convenance des plans.*

On dit que deux plans conviennent, lors qu'étans posez l'un sur l'autre, ils ne se surpassent en aucun endroit, les extremités de l'un, se trouvant précisément sur les extremités de l'autre.

B

77. De la hauteur des Plans.

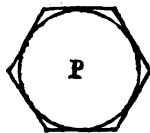
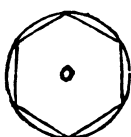
La hauteur d'un plan, est la perpendiculaire abaissée du sommet à la base.



Ainsi la perpendiculaire AD est la hauteur du triangle ABC.

78. Des figures inscrites & circonscrites au cercle.

Une figure rectiligne est inscrite dans un cercle, si elle le touche de tous ses angles; mais elle est circonscrite, lors que tous ses côtes joignent & touchent le cercle autour duquel elle est décrite.



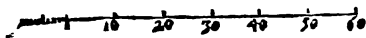
O. Figure inscrite.
P. Figure circonscrite.

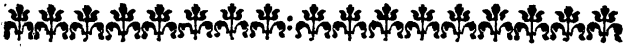
79. De l'Aire d'une figure.

L'aire d'une figure est toute l'étendue comprise entre ses termes.

80. De l'Echelle.

L'Echelle est une ligne droite, divisée en plusieurs petites parties égales, qu'on fait valoir certaines mesures, comme des pieds; des toises; des perches; &c.



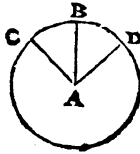


CHAPITRE SECOND.

NOTIONS.

I.

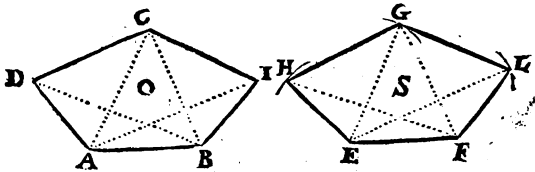
Les Rayons d'un Cercle sont égaux , de même que des lignes droites sont égales , lors qu'on les a coupées d'une même ouverture de compas.



2.

Les Plans qui conviennent entr'eux , sont égaux & semblables.

Par exemple , on conclura naturellement que les plans O , S , sont égaux & semblables s'ils conviennent entr'eux ; c'est à dire, si estant posez l'un sur l'autre , ils se trouvent avoir une même étendue , par l'égalité de toutes leurs parties.



3.

Les Quantitez qui sont égales à une même , sont égales entr'elles.

Les quantitez A & C qui sont égales à la quantité B , sont égales entr'elles.

A. B. C.
8. 8. 8.

B ij

4.

Si on ajoute des quantitez égales, à d'autres quantitez égales; celles qui en seront composées seront aussi égales.

Les quantitez égales A, jointes aux égales B, produisent les égales C.

A.	4.	4.	4.
B.	3.	3.	3.
C.	7.	7.	7.

5.

Si de plusieurs quantitez égales, on ôte des quantitez égales, celles qui resteront seront aussi égales.

Restant les quantitez égales B, des égales A, restent les égales C.

A.	6,	6,	6.
B.	2,	2,	2.
C.	4,	4,	4.

6.

Les quantitez qui sont moitiées, double ou triples d'une même, ou de plusieurs égales, sont égales: ou bien, Des quantitez sont égales, si elles sont en même raison avec une même, ou avec plusieurs égales: Et une même ou plusieurs égales, sont en raison pareille avec des quantitez égales.

Par exemple, les nombres B, C, qui sont chacun double du nombre A, sont égaux, 4 estant égal à 4: De plus le nombre A est au nombre B comme au nombre C, puisqu'il est sousdouble de l'un, comme il est sousdouble de l'autre.

A,	A,	B,	C.
2,	2,	4,	4.

7.

Des quantitez sont égales, lorsqu'elles en font d'é-
gales avec une même.

Le nombre *A* vaut dix avec le nombre *B* de même qu'avec la
nombre *C*, parce que les nombres *B* & *C*, sont égaux.

<i>B</i>	<i>A</i>	<i>C</i>
8.	2.	8.

8.

La Proportion converse.

Si quatre quantitez sont proportionnelles, la pre-
miere étant à la seconde, comme la troisième à la
quatrième; il y aura même raison de la seconde à la
premiere, que de la quatrième à la troisième.

La premiere quantité *A* est moitié de la seconde *B*, comme la
troisième *C*, est moitié de la quatrième *D*: aussi la seconde est
double de la premiere, comme la quatrième est double de la troi-
sième.

<i>A</i> ,	<i>B</i> .		<i>C</i> ,	<i>D</i> .
2,	4.		3,	6.

9.

La Proportion alterne.

Si quatre quantitez de même espece sont pro-
portionnelles, elles le feront encore estant prises al-
ternativement.

C'est à dire, s'il y a même raison de la premiere quantité,
à la deuxiè.me, que de la troisième à la quatrième; il y aura
aussi même raison de la premiere à la troisième, que de la deu-
xième à la quatrième; ce qui est évident, car *A*, estant deux
tiers de *B*, & *C* deux tiers de *D*; *A* est double de *C*, comme
B est double de *D*.

<i>A</i> ,	<i>B</i> ;		<i>C</i> ,	<i>D</i> .
8,	12;		4,	6.

B iij

La Proportion d'égalité.

Six quantitez estant proportionnelles, tellement que la première soit à la deuxième, comme la troisième à la quatrième ; & la troisième à la quatrième comme la cinquième à la sixième : la première sera à la deuxième, comme la cinquième à la sixième. *ou bien.* Si trois quantitez sont entr'elles ainsi que trois autres, la première sera à la troisième, comme la quatrième à la sixième.

1. Comme A à B , C à D ; & C à D comme E à F : aussi A à B , 2 à 4, comme E à F , 5 à 10.

2. Les quantitez G , H , I , sont entr'elles comme les quantitez K , L , M ; & comme G à I , 1 à 3 ; K à M , 2 à 6 ; puis que 1 est le tiers de 3, comme 2 est le tiers de 6.

$A, B ; C, D ; E, F.$ 2, 4 ; 3, 6 ; 5, 10.	<table style="margin-left: auto; margin-right: auto;"> <tr> <td style="padding: 0 10px;">GHI</td> <td style="padding: 0 10px;">KLM</td> </tr> <tr> <td style="padding: 0 10px;">1 2 3</td> <td style="padding: 0 10px;">2 4 6</td> </tr> </table>	GHI	KLM	1 2 3	2 4 6
GHI	KLM				
1 2 3	2 4 6				

II.

La Proportion de composition.

Si plusieurs quantitez ou termes sont proportionnels, un antecédent sera à son conséquent ; comme tous les antécédents pris ensemble, à tous les conséquents aussi pris ensemble. Et un antécédent sera à tous les antécédens pris ensemble, comme son conséquent, à tous les conséquents aussi pris ensemble.

1. Les termes 3, 9 ; 2, 6 ; 1, 3 ; sont proportionnels, aussi comme l'antécédent A est au conséquent B , 3 à 9 ; les trois antécédents $A C E$ pris ensemble, sont aux trois conséquents $B D F$, aussi pris ensemble ; 6 étant le tiers de 18, comme 3 est le tiers de 9.

2. L'antécédent E est aux trois antécédents $A C E$, 1 à 6 ;

Comme le consequent F, aux trois consequents B D F, 3 à 18 : un estant six fois en six, comme 3 est six fois en 18.

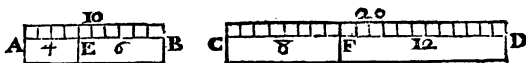
A, 3	B, 9
C, 2	D, 6
E, 1	F, 3
6	18

12.

La Proportion de Division.

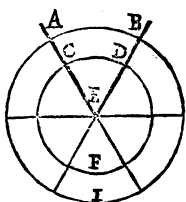
Les quantitez qui font proportionnelles estant composées, le font encore estant divisées.

La raison de AB à BE, 10 à 6, est pareille à celle de CD à DF, 20 à 12; Aussi y a-t'il même raison d'AE à BE, 4 à 6, que de CF à DF, 8 à 12.



13.

Les Arcs qui mesurent un même angle, ou des angles égaux, font en même raison avec leurs cercles; & contiennent même nombre de degrez.

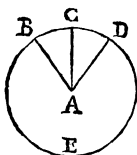


Supposé les angles égaux AEB, CED, posez l'un sur l'autre, comme n'en faisant qu'un seul: les cercles ABI, CDF estant décrits du point E, il est évident que si par exemple l'arc AB est de 60 degrez, sixième partie de 360, & que la veste du cercle soit divisé de 60 en 60 degrez, par des lignes menées au centre E; le petit cercle sera divisé comme le grand en six parties égales: & que comme l'arc AB qui mesure l'angle AEB, sera la sixième partie de son cercle ABI, l'arc CD qui mesure l'angle CED, sera aussi de 60 degrez, sixième partie de son cercle CDF.

B iiij

14.

Dans les angles égaux, les arcs décrits d'une même ouverture de compas, sont égaux : & si les arcs sont égaux, les angles le sont aussi.

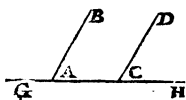


Si par exemple, les angles BAC , CAD sont égaux, ils sont mesurez par des arcs BC , CD , qui ont même raison avec leur cercle ; de sorte que si l'arc BC est de 40 degrés ; CD est aussi de 40 degrés (suivant la précédente) & ces degrés estant les parties égales d'un même cercle BDE , l'arc BC est égal à l'arc CD .

De plus il s'ensuit avec évidence, que ces arcs estant égaux les angles BAC , CAD qui en sont mesurez sont aussi égaux.

15.

Lors que deux lignes droites & parallèles se terminent sur une autre ligne droite, les angles qu'elles font de même part sont égaux.



On connoist naturellement que les lignes AB , CD , estant parallèles, elles sont inclinées l'une comme l'autre sur la ligne GH ; & que les angles qu'elles font de même part, par exemple les angles A & C , sont égaux ; & que si ces angles estoient inégaux, les lignes AB , CD seroient inclinées diversement & ne seroient pas parallèles. Il s'ensuit que

16.

Les lignes qui tombent sur une autre faisant les angles de même part égaux, sont parallèles.

17.

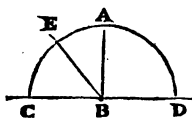
Deux costez d'un triangle pris ensemble, sont toujours plus grands que le troisième.



Le plus court passage d'un point à un autre, est la ligne droite ; ainsi les costez AC , CB qui font un angle, sont plus grands pris ensemble, que la seule base AB .

18.

Une ligne qui tombe sur une autre fait avec elle deux angles, lesquels pris ensemble, valent deux droits, c'est à dire, 180 degrez.

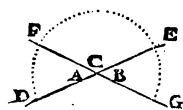


1. Si la ligne AB est perpendiculaire sur CD , les deux angles CBA , ABD . sont droits (par la 10 du 1.)

2. Supposé la ligne BE , les deux angles CBE , EBD , qui ont un demi cercle pour mesure, c'est à dire 180 degrez (suivant la 36 du 1.) sont égaux pris ensemble aux deux angles droits CBA , ABD , qui sont mesurez par les mêmes 180 degrez.

19.

Quand deux lignes droites se coupent, les angles oppozés au sommet sont égaux.

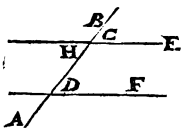


Les lignes DE , FG se coupent, je fais donc voir que les angles A & B , oppozés au sommet sont égaux.

L'angle C vaut deux angles droits avec l'angle A comme avec l'angle B (suivant la precedente) donc les angles A , & B son égaux (suivant la 7.)

20.

Une ligne droite qui coupe deux paralleles, fait les angles alternes égaux.



La ligne AB coupant les paralleles HE , DF , nous disons que les angles alternes D , H sont égaux.

L'angle C est égal à l'angle D (par la 15.) il est aussi égal à l'angle H son oppozé au sommet (par la precedente) Donc (par la 3) l'angle D est égal à l'angle H son alterne.

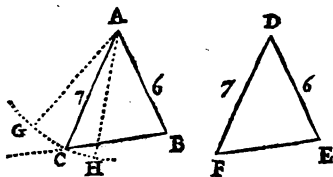
De cette notion se conclud la suivante.

21.

Deux lignes droites sont paralleles, si une troi-

S'il se trouve dans un triangle, un angle & deux côtés égaux à un angle & deux côtés pris en même ordre dans un autre triangle, les deux triangles sont égaux & semblables; c'est à dire que les côtés & les angles de l'un, sont égaux aux côtés & aux angles de l'autre.

Premièrement, que les côtés AB, AC du triangle ABC soient égaux aux côtés DE, DF du triangle DEF , & que l'angle CAB soit aussi égal à l'angle D , je dis que les deux triangles sont égaux & semblables.



Si l'angle D étoit posé sur l'angle CAB qui luy est égal, les jambes DE, DF tomberoient sur leurs égales AB, AC , & la base EF se trouveroit sur la base BC , ainsi les deux triangles ABC, DEF ,

convien droient entr'eux. Donc ils sont égaux & semblables, (suivant la 2.)

2. Supposé les côtés AB, AC égaux aux côtés DE, DF , & l'angle B égal à l'angle E , je dis encore, que les deux triangles sont égaux & semblables. Que l'arc GH soit décrit du point A & de l'intervalle AC , ou DF son égal.

Si l'angle E étoit posé sur l'angle B , les lignes AB, DE étant égales, le point D , seroit sur le point A , & la ligne DF tomberoit précisément sur son égale AC , car plus haut comme en AG elle ne joindroit pas la base BC , ou en seroit coupée si elle se trouvoit plus bas comme en AH : ainsi les trois points D, E, F se trouveroient sur les trois points A, B, C . Donc les deux triangles sont égaux & semblables.

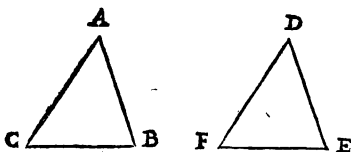
Deux triangles qui ont les côtés égaux, sont équiangles, semblables & égaux.

Que les côtés du triangle ABC soient égaux aux côtés du

CHAPITRE II.

27

triangle DEF, je dis premierement que les deux triangles ont aussi les angles égaux, c'est à dire que les angles de l'un sont égaux aux angles de l'autre, & je le démontre.



Si on suppose seulement les côtes AB, AC égaux aux côtes DE, DF; mais l'angle A égal à l'angle D; il s'ensuivra par la précédente que la base B

C sera égale à la base EF: Or les bases BC, EF, sont établies égales; donc les angles A & D sont égaux. Et la même démonstration se fera des autres angles.

2. Ces triangles ayant leurs côtes & leurs angles égaux, ils conviendront en toutes leurs parties si on les pose l'un sur l'autre; Donc ils sont équiangles, égaux & semblables.

De cette notion on tire la suivante.

24.

Dans les triangles égaux & semblables, les angles égaux sont opposés aux côtes égaux.

25.

Dans le triangle isocèle, les angles opposés aux côtes égaux, sont égaux.

Le triangle ABC est isocèle, j'ay donc à faire voir que les angles A & B, opposés aux côtes égaux AC, BC, sont égaux.



Que la base AB soit divisée en deux également par la ligne DC les deux triangles E, F, seront équiangles (par la 23) car les côtes de l'un seront égaux aux côtes de l'autre. Donc (par la précédente) les angles A & B opposés au côté commun DC, sont égaux.

D'où il s'ensuit que

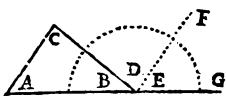
26.

Si deux lignes AC, BC, s'inclinent l'une vers l'autre par des angles égaux sur une troisième, elles font un triangle isocèle.

27.

Le côté prolongé d'un triangle, fait un angle extérieur qui est égal aux deux intérieurs opposés.

Que la base AB du triangle ABC soit prolongée vers G , je dis que l'angle CBG qu'on appelle extérieur, est égal aux deux intérieurs opposés A & C .



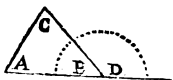
J'ay tiré EF parallèle à AC , ainsi l'angle E est égal à l'angle A , (par la 15) & (par la 20) l'angle D , l'est à son alterne C . Donc le seul CBG est égal aux intérieurs opposés A & C . Il s'ensuit que

28.

L'angle extérieur d'un triangle, est toujours plus grand que l'un ou l'autre des intérieurs opposés.

29.

Les trois angles d'un triangle valent deux angles droits ou 180 degrés.



Les angles A & C pris ensemble sont égaux à l'angle extérieur D , (par la 27), les angles B, D , valent deux angles droits ou 180 degrés (par la 18 :) Donc les angles B, A, C , valent aussi deux angles droits ou 180 degrés.

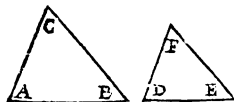
Il s'ensuit que

30.

1. Les trois angles d'un triangle valent autant pris ensemble, que les trois angles d'un autre triangle.

31.

2. Si deux triangles ont deux angles égaux, ils sont équiangles.



C'est à dire par exemple, que si les angles A & B du triangle ABC sont égaux aux angles D & E du triangle DEF , l'angle C est aussi égal à l'angle F .

32.

3. Si un triangle a un angle droit ou obtus, les deux autres sont aigus.

33.

Le plus grand angle d'un triangle, est opposé au plus grand côté.

Le côté AB du triangle ABC , étant plus grand que le côté BC , je fais voir que l'angle ACB , est plus grand que l'angle A .



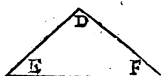
J'ay coupé BD égale au côté BC , ainsi le triangle BCD , est isocèle, & les angles C, D , sont égaux (par la 25.) Or l'angle D qui est extérieur eu égard au triangle ADC ,

est plus grand que son opposé intérieur A , (par la 28) & l'angle C qui est égal à l'angle D , ne fait que partie de l'angle ACB . Donc l'angle ACB est plus grand que l'angle A .

34.

Un triangle qui a un côté & deux angles égaux à ceux d'un autre, luy est égal en toutes ses parties.

Premièrement, supposez qu'on trouve dans le triangle A , les angles B, C égaux aux angles E, F , du triangle D ; on conclut (par la 31) que les deux triangles sont équiangles.

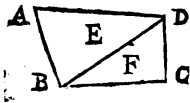


2. Si l'un des côtés, par exemple la base BC , est égale à la base EF , il est évident que les deux triangles con-

viendront ensemble étant posés l'un sur l'autre; car supposez la base BC sur la base EF , les côtés AB, AC , se trouveront aussi sur les côtés DE, DF ; autrement les triangles ne seroient pas équiangles. Donc le triangle A est en toutes ses parties, égal au triangle D (suivant la 2.)

35.

Dans une figure de quatre côtés, les quatre angles pris ensemble, sont égaux à quatre droits.

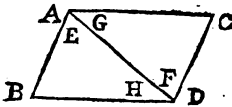


Supposé la diagonale BD , les angles du quadrilatere AC , sont composez de ceux des triangles E, F , lesquels pris ensemble valent quatre drois (par la 29.)

36.

Les lignes qui en conjoignent deux autres égales & paralleles, sont égales & paralleles, faisant ensemble un parallelogramme.

Par exemple, que les lignes AB, CD soient égales & paralleles, je trouve qu' AC, BD qui les conjoignent, sont aussi égales & paralleles.



1. Supposé la ligne AD . les angles alternes E, F , sont égaux (par la 20.) & les jambes de l'angle E estant égales à celle de l'angle F , les triangles ACD, ABD sont égaux & semblables (par la 22.) Les li-

gnes AC, BD sont donc égales, par la 24.

2. Puisque les triangles ACD, ABD , sont semblables, ils ont (suivant la 24) les angles G, H , égaux ; lesquels estant alternes, AC, BD sont paralleles (par la 21) & le plan $ABCD$ est un parallelogramme (suivant la 29. du 1.)

Il s'enluit que

37.

Un parallelogramme est coupé en deux également par sa diagonale.

38.

Un parallelogramme a ses angles & ses côtez oppo-
sez égaux.



Je dis que les angles oppo-
sez A, D ; B, C ; du parallelogramme AD sont égaux:
comme aussi ses côtez oppo-
sez AB, CD ; AC, BD . Que le côté CD , soit pro-
longé vers F , & AB vers E .

1. Les lignes AB, CD, AC, BD estant paralleles, l'angle E est égal à son alterne D , (par la 20) il est aussi égal à l'angle A qui est de même part (par la 15.) Donc, (par la 3) les angles A, D , sont égaux. De plus, l'angle D est égal à l'angle de même

CHAPITRE II.

39

part F; comme à l'angle E son alterne; ainsi les angles E, F, sont égaux: les angles C, F valent deux angles droits, de même que les deux angles B, E, (par la 18;) Donc (par la 5) les angles opposés, B, C, sont aussi égaux.

2. Si la ligne AC couloit d'une même ouverture d'angles entre les parallèles CD, AB; il est évident que le point A, n'arriveroit pas plus tost sur le point B, que toute la ligne AC, se trouveroit sur sa parallèle BD; & que le point C, auroit fait autant de chemin dans la ligne CD, que le point A, en auroit fait dans la ligne AB. Donc les lignes AB, CD sont égales, & (par la 36) AC, BD, le sont aussi. Il s'ensuit que

39.

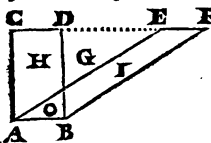
Un plan de quatre angles est parallélogramme si ses côtez opposés sont égaux.

40.

Les Parallélogrammes qui sont sur une même base, & entre les mêmes parallèles, sont égaux.

Les parallélogrammes BC, AF, sont sur une même base AB, & entre les mêmes parallèles AB, CF; j'ay donc à faire voir qu'ils sont égaux.

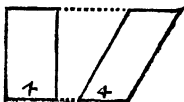
Dans les parallélogrammes, les côtez opposés sont égaux (suivant la 38) ainsi les lignes AC, AE sont égales aux lignes BD, BF; & AB l'est à CD, de même qu'à EF; de plus CD, l'est à EF (par la 3) & CE à DF (par la 4.)



Les lignes ACCE, AE, étant donc égales aux lignes BD, DF, FB; les triangles ACE, BDF, sont égaux (par la 23) desquels si on ôte le commun G, le quadrilatere H, restera égal au quadrilatere I (par la 5;) Mais si à ces quadrilateres on redonne le petit triangle O, le parallélogramme ABCD; sera égal au parallélogramme ABEF. De cette notion on conclut la suivante.

41.

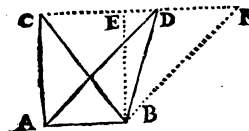
Les Parallélogrammes de même hauteur, faits sur des bases égales, sont égaux.



42.

Les triangles décrits sur une même base, & entre les mêmes parallèles, sont égaux.

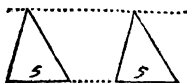
Les triangles ABC , ABD , sont sur une même base AB , & se terminent entre les mêmes parallèles CF , AB ; Ainsi il faut prouver leur égalité; Pour cela, qu'on suppose EE parallèle à AC , & BF parallèle à AD .



Les parallélogrammes $ABCE$, $ABDF$, sont égaux (par l. 40) les triangles proposés ABC , ABD , sont leurs moitiés (suivant la 37.) Donc ils sont égaux (par la 6.) De plus il est évident que

43.

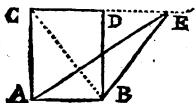
Les triangles de même hauteur faits sur des bases égales sont égaux.



44.

Si un parallélogramme & un triangle sont sur une même base & entre mêmes parallèles, le parallélogramme est double du triangle.

Par exemple, que les lignes AB , CE , soient parallèles, nous disons que le parallélogramme $ABCD$, est double du triangle ABE . Tirez la diagonale BC ou la supposez.



Les triangles ABC , ABE sont égaux (par la 42) le parallélogramme $ABCD$ est double du triangle ABC (par la 37.) Donc il est double de son égal ABE .

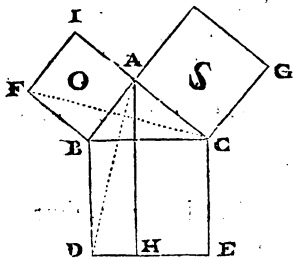
45.

Au triangle rectangle, le carré du côté opposé à l'angle droit, est égal aux quarrés des deux autres côtés.

Et

Et la perpendiculaire abaissée de l'angle droit coupe le carré opposé, en deux rectangles qui sont entr'eux comme les deux autres quarrés, chaque rectangle estant égal à son quarré.

L'angle BAC estant droit, on dit que le quarré BE est égal aux deux quarrés O, S ; & suppose la perpendiculaire AH , je prouve premierement que le rectangle BH est égal au quarré O . Tirez les lignes CF, AD .



Les triangles BFC, BDA sont égaux (par la 22.) Ils ont les côtés $FB, BC; AB, BD$ égaux; comme aussi leurs angles FBC, ABD ; lesquels sont chacun composé d'un angle droit & du commun ABC .

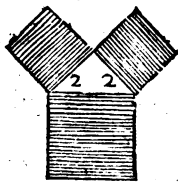
Le quarré O , est double du triangle BFC , & le rectangle BH est double du triangle BAD (par la précédente.) Donc le quarré O , est égal au rectangle BH (par la 6.)

On fera voir de même, que le quarré S , est égal au rectangle CH . Donc le quarré DC est égal aux deux O, S , & ces deux quarrés sont entr'eux comme les deux rectangles BH, CH .

Il s'ensuit que

46.

Si un triangle rectangle est isocèle, le quarré du côté opposé à l'angle droit, est double de chacun des quarrés faits sur les côtés égaux.

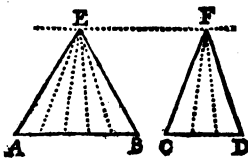


47.

Les triangles de hauteurs égales, sont entr'eux comme leurs bases.

C

Supposé EF parallèle à AD , on dit que le triangle ABE , est au triangle CDF , comme la base AB est à la base CD : c'est à dire, que si par exemple, la base AB est double ou triple de la base CD , le triangle ABE , est double ou triple du triangle CDF .

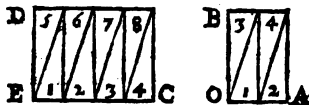


ABE en contiendra cinq, & le deuxième CDF trois; donc les triangles ABE , CDF , sont entr'eux, en raison de 5 à 3, comme leurs bases AB , CD .

Supposé que la base AB soit de 5 pieds, la base CD de 3, & que de ces parties on ait mené des lignes aux angles E , F ; ces lignes diviseront les triangles proposez en huit petits triangles qui seront égaux (suivant la 43.) Le premier

48.

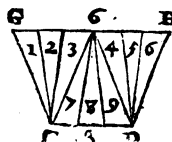
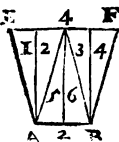
Les parallelogrammes de même hauteur, sont en même raison que leurs bases.



Le parallelogramme CD , composé de huit triangles égaux, est double du parallelogramme AB , composé de quatre; comme la base CE , de quatre parties égales, est double de la base AO de 2.

49.

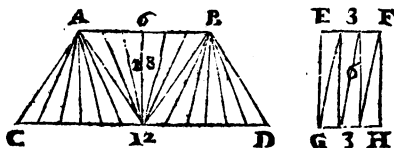
Les trapezes de hauteurs égales, sont entr'eux comme leurs bases, quand leurs bases sont en même raison, que les côtesz paralleles qui leurs sont opposez.



Les bases AB , CD sont entr'elles comme leurs côtesz opposez paralleles EF , GH ; car comme 4 à 6, 2 à 3; aussi le premier trapeze de six triangles, est au deuxième de neuf, comme la base AB , à la base CD , 2 à 3; six étant deux tiers de neuf, comme deux sont deux tiers de trois.

50.

Les trapezes de même hauteur, dont les bases se trouvent paralleles à leurs côtez opposez, sont entr'eux, comme les sommes de leurs côtez paralleles.

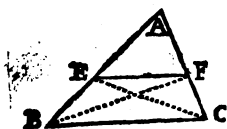


La somme des côtez paralleles AB, CD , est 18, celle des côtez paralleles EF, GH , est 6; & comme 18 est triple de 6, aussi le trapeze AD composé de 18 triangles, est triple du trapeze EF , composé de 6.

51.

Si dans un triangle, une ligne est parallele à un des côtez, elle divise les deux autres proportionnellement.

Que la ligne EF , soit parallele au côté BC , on prouve que le côté AB , est coupé en E ; comme le côté AC , l'est en F ; c'est à dire, que la raison d' AE , à EB , est semblable à celle d' AF , à FC . Supposé les lignes CE, BF .



Les triangles EFB, EFC , sont égaux (par la 41.) & (par la 47.) Comme AE est à BE , le triangle AEF est au triangle BEF ou CEF so. égal; de plus, comme le triangle AEF au triangle CEF , AF est à FC . Donc (par la 10) c'est à dire par la proportion d'égalité, il y a même raison d' AE à EB , que d' AF à FC .

Il s'enfuit que

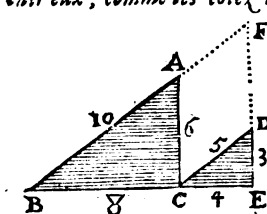
52.

La ligne qui divise proportionnellement deux côtez d'un triangle, est parallele au troisieme.

C ij

Les triangles équiangles, ont les côtez proportionnels.

Si les triangles ABC , DCE sont équiangles, ils ont les côtez proportionnels; c'est à dire, que les côtez du premier sont entr'eux, comme les côtez du deuxiême, je le démontre.



Que les bases BC , CE ne fassent qu'une ligne droite; les angles A , BC , DCE étant égaux; de même que les angles ACB , DCE ; les côtez AB , CD , sont parallèles; comme aussi les côtez AC , DE : (par la 16) & BA , ED , étant prolongés en F ; $ACDF$ est un parallélogramme qui a les côtez AF , FD , égaux à leurs oppozés CD , CA , (par la 38.) Cela établi, venons à nostre démonstration.

1. Dans le triangle BEF , CD est parallèle à BF . Donc (par la 51) il y a même raison de DE à DF ou CA son égale, que de CE , à CB : & par échange (c'est à dire par la 9) DE est à CE , comme AC à BC .

2. La ligne AC est parallèle à EF ; ainsi, il y a même raison d' AB , à AF , ou CD son égale; que de CB à CE : & par échange BA est à BC , comme CD à CE .

Et enfin par égalité (c'est à dire par la 10) AB est à AC , comme DC à DE : Donc les triangles équiangles ont les côtez proportionnels. Il s'ensuit que

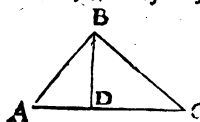
Les triangles qui ont les côtez proportionnels, sont équiangles. De plus

Les triangles qui ont les angles égaux, ou les côtez proportionnels, sont semblables.

Le triangle rectangle se divise en deux autres qui

Iuy sont semblables, par la perpendiculaire tirée de l'angle droit sur le côté opposé.

Supposé que la ligne BD tirée de l'angle droit ABC , soit perpendiculaire au côté opposé AC , je prouve que les triangles ABD , BCD sont semblables au triangle rectangle ABC .



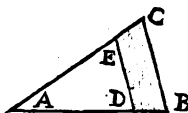
1. Les triangles ABC , ABD ont l'angle A commun, & leurs angles ABG , ADB sont droits : donc (par la 31) ils sont équiangles & semblables (par la 55.)

2. Les triangles ABC , BCD , sont aussi semblables par la même raison, ils ont l'angle C commun, & chacun un angle droit.

57.

Deux triangles sont semblables quand ils ont un angle commun, & les côtés opposés à cet angle, parallèles.

Que DE , soit parallèle à BC , je dis que les triangles ADE , ABC sont semblables.



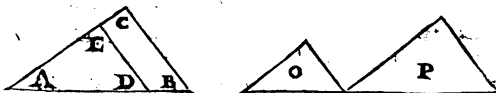
Puisque les lignes BC , DE sont parallèles, l'angle D est égal à l'angle B ; l'angle E , l'est à l'angle C , (par la 15) l'angle A est commun ; ainsi les triangles ABC , ADE ont les angles égaux, &

sont semblables (par la 55)

58.

Deux triangles qui ont un angle égal, & les côtés de cet angle proportionnels, sont semblables.

Si AB est à AD , comme AC à AE , les triangles ABC , ADE sont semblables, je le prouve.



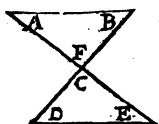
Par la division de raison (c'est à dire par la 12) AD est à DB , ainsi qu' AE à EC ; Donc DE est parallèle à BC (suivant la 52) & les triangles sont semblables (par la précédents.)

La même chose doit s'entendre des triangles séparés O , & P .

C iij

Deux lignes qui se croisent entre deux parallèles, font deux triangles semblables; & si une des croisées est coupée en deux également par l'autre, ou que les deux parallèles soient égales, les triangles sont semblables & égaux.

1 Les lignes AE , BD se coupant entre les parallèles AB , DE ; je dis que les triangles ABF , CDE , sont semblables.



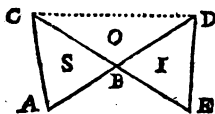
Les angles opposés C, F , sont égaux (par la 19) les alternes A, E , le sont aussi, de même que les alternes B, D ; (par la 20) Donc (par la 33) les triangles ABF, CDE sont semblables.

2 Si AE est coupée en deux également par BD , ou BD par AE , ou qu' AB soit égale à sa parallèle DE ; les deux triangles sont semblables & égaux (par la 34.)

66.

Si deux triangles égaux, ont un angle égal; les côtés qui font cet angle sont reciproques.

Les triangles S, I , étant égaux; & leurs angles au point B égaux; on prouve qu' AB , base du premier triangle, est à DB côté du second, comme BE base du second, est à BC côté du premier. Que AD, CE soient deux lignes droites, & qu'elles fassent avec la ligne CD , le triangle O .



Puis que les triangles S, I , sont égaux, il ont même raison au triangle O , c'est à dire qu'il y a même raison du triangle S au triangle O , que du triangle I , au même triangle O ; & ces triangles étant entr'eux comme leurs bases (suivant la 47.) AB , base du triangle S , est à BD , base du triangle O ; comme BE , base du triangle I , est à BC , base du même triangle O . Donc les triangles opposés S, I , ont les côtés reciproques (suivant la 75 du 1.) Il s'ensuit que

61.

Deux triangles sont égaux, s'ils ont un angle é-

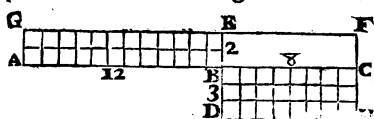
gal, & les côtez de cet angle, reciproques.

62.

Quatre lignes estant proportionnelles, le rectangle compris sous les extrêmes, est égal au rectangle compris sous les moyennes.

Qu' AB soit à BC , comme BD à BE ; le rectangle AE compris sous les extrêmes AB , BE ; est égal au rectangle BH , compris sous les moyennes BC , BD : je le fais voir.

Que les lignes ABC fassent une ligne droite, de même que les lignes DBE ; & que BF soit un rectangle produit par la continuité des lignes GE , HC .



Il y a même raison du rectangle AE au rectangle BF ; que de la base AB à la base BC ; Et au rectangle

BH au rectangle BF , que de la base BD à la base BE (par la 48.) La raison de la base AB à la base BC , 12 à 8; est comme celle de la base BD à la base BE , 3 à 2: Ainsi, il y a même raison du rectangle AE au rectangle BF , que du rectangle BH , au même rectangle BF . Donc (par la 6) les rectangles AE , BH sont égaux. Aussi contiennent-ils chacun vingt-quatre petits quarrés égaux.

63.

Les rectangles égaux, ont les côtez reciproques.

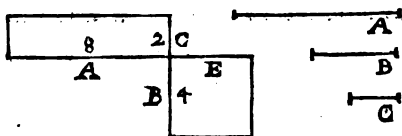
Les rectangles AE , DC sont égaux, nous l'avons prouvé: comme AB à BC , 12 à 8; BD à BE , 3 à 2; ou ce qui est la même chose, comme AB à BD , 12 à 3; BC à BE , 8 à 2: ainsi l'antecedent de la première raison, & le consequent de la seconde, se trouvent dans le premier rectangle AE : Donc les rectangles égaux AE , BH ont les côtez reciproques (suivant la 74 du 1.)

64.

Trois lignes estant proportionnelles, le rectangle compris sous les extrêmes, est égal au carré fait sur la moyenne. Et si le carré est égal au re-
C iiij.

40 TRAITÉ DE GEOMETRIE.
 d'angle, les lignes sont proportionnelles.

1. Que les lignes A, B, C , soient proportionnelles, le rectangle BC , compris sous les extrêmes A, C ; est égal au carré BE fait sur la moyenne B , je le prouve.



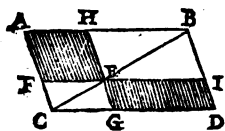
Comme A à B ou E son égale, ainsi B à C : Donc (par la 62) le rectangle AC est égal au carré BE .

2. Le carré & le rectangle estant égaux, ils ont les côtes reciproques (par la 63.) Ainsi comme A à E ou B son égale, B à C .

65.

Les complemens ou supplemens d'un parallelogramme sont égaux.

Que les supplemens FH, GI , soient égaux, je le démontre.



Les trois parallelogrammes AD, HI, FG , sont coupés chacun en deux triangles égaux par la diagonale BC (suivant la 37.) Donc si des triangles égaux ABC, BCD , on soustrait les égaux $BHE, BIE; CEF, CEG$:

Les supplemens FH, GI , resteront égaux (par la 5.)

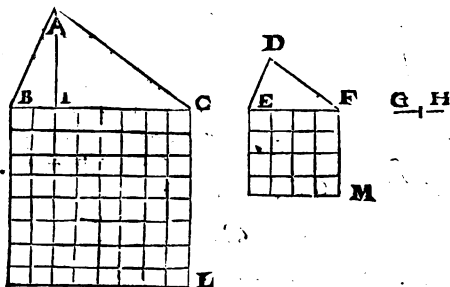
66.

Les triangles semblables sont en raison doublée, ou ce qui est la même chose, ils sont entr'eux comme les quarrés de leurs côtes homologues.

Supposé les triangles semblables ABC, DEF , on dit qu'ils sont en raison doublée de leurs côtes homologues BC, EF ; de sorte que si une ligne GH est à EF , comme EF à BC ; ABC sera au triangle DEF , comme la base BC , à la troisième proportionnelle GH . Que BI soit coupée égale à GH .

Les angles B, E , sont égaux, puisque les triangles ABC, DEF sont semblables; & AB est à DE comme BC à EF (par la 31.) De plus, comme BC à EF , EF à GH ou BI son égale;

ainsi, comme AB à DE , EF à BI (par la 10.) Les triangles ABI , DEF ont donc les côtes reciproques autour des angles égaux B, E ; & (par la 61) ils sont égaux. Mais le triangle ABC a même raison à ABI , que BC à BI ou GH son égale (par la 47.) Donc ABC est à ABI ou DEF son égal, comme BC à GH ; de sorte que si BC estoit double, moisié ou triple de GH ; le triangle ABC seroit double, moisié, ou triple du triangle DEF : BC est quadruple de GH , donc ABC est quadruple du triangle DEF , de même que le carré BL est quadruple du carré EM .

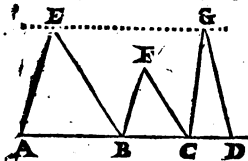


Les 16 petits quarrés égaux compris dans le quarré EM , & le 64 compris dans le quarré BL ; font voir que le quarré BL est quadruple du quarré EM , 16 estant le quart de 64.

67.

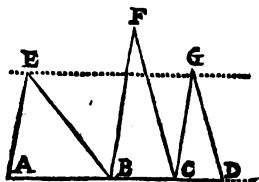
Si trois triangles ont leurs bases proportionnelles, & que le premier & le troisiéme soient de même hauteur; le deuxiéme sera égal au dernier s'il est semblable au premier; mais au contraire, s'il est semblable au dernier, il sera égal au premier.

Supposé les trois bases proportionnelles ABC, D , & les triangles ABE, CDG de même hauteur; je dis premierement que le triangle F construit sur la moyenne, est égal au triangle G , parce qu'il est semblable au triangle E .
Puis que les triangles ABE, BCE sont semblables, ils sont en raison doublée de leurs bases, c'est à dire, qu'il y a même raison du trian-



gle ABE au triangle BCF, que de la base AB à la troisième proportionnelle CD (suivant la précédente.) Or il y a même raison du triangle ABE au triangle CDG, que de la base AB à la base CD (par la 47.) Ainsi le triangle ABE, a même raison au triangle BCF, qu'au triangle CDG. Donc (par la 6) les triangles BCF, CDG sont égaux.

Secondement je prouve que le triangle F, qui est semblable au triangle G, est égal au triangle E.



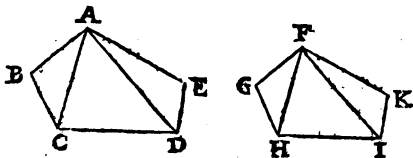
Le triangle CDG est à son semblable BCF, comme sa base CD à la troisième proportionnelle AB; & comme CD à AB, le triangle CDG au triangle ABE (suivant la 47.) Donc le triangle G a même raison au triangle F, qu'au triangle E; Donc les

triangles ABE, BCF sont égaux.

68.

Les Polygones semblables, se divisent en des triangles semblables.

Que les polygones BE, GK soient semblables, je dis que les triangles de l'un, sont semblables aux triangles de l'autre.



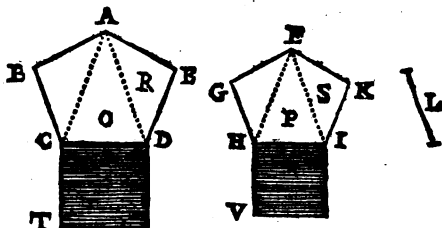
Les polygones estant semblables, les angles B, G sont égaux; & AB est à BC, comme FG à GH (suivant la 72 du 1.) Donc les triangles ABC, FGH sont semblables (par la 58) & AC est à CB comme FH à GH. De plus comme BC à CD, GH à HI; donc par égalité, comme AC à CD, FH à HI; & les angles égaux BCA, GHF, estant soustraits des égaux BCD, GHI; les angles ACD, FHI, restent égaux. Donc les triangles ACD, FHI sont encore semblables, (par la même 58.) Et par conséquent, comme AD à DC, FI à IH; mais comme GD à DE, HI à IK; donc par égalité

comme AD à DE , FI à IK ; & les angles ADE , FIK étant égaux, puisqu'ils restent des égaux CDE , HIK , lesquels sont soustraits les égaux ADC , FIH ; les triangles ADE , FIK sont aussi semblables.

69.

Les polygones semblables sont en raison doublée, ou ce qui est le même, il sont entr'eux comme les quarrés de leurs côtez homologues.

Les Polygones $ABCDE$, $FGHIK$ sont semblables, il faut donc prouver qu'il sont en raison doublée de leurs côtez homologues, par exemple de leurs bases CD , HI . Que la ligne L , soit à IF , comme IF à DA .



Les triangles O , R , sont semblables aux triangles P , S (par la précédente.) Les triangles R , S , étant semblables, ils sont en raison doublée de leurs côtez homologues ; c'est à dire, que le triangle R est au triangle S , comme son côté AD est à la troisième proportionnelle L (par la 66.) Par la même raison le triangle O est au triangle P , comme le même côté AD est à la même troisième proportionnelle L . Il y a donc même raison du triangle R au triangle S , que du triangle O au triangle P ; & en composant, comme le triangle O est au triangle P , les deux triangles O , R , c'est à dire, le quadrilatere $ACDE$, est aux deux triangles P , S , c'est à dire au quadrilatere $FGHIK$ (par la 11.)

La même démonstration se fera des quadrilateres $ABCD$, $FGHI$, & enfin (par la même 11) on conclura que les polygones BE , GK , sont entr'eux comme les triangles O , P , lesquels étant en raison doublée de leurs bases CD , HI ; les polygones BE , GK , sont aussi en raison doublée des mêmes bases.

De plus les quarrés DT , IV , sont entr'eux comme les trian-

44 **TRAITE' DE GEOMETRIE.**
 gles O, P, (par la 66.) Donc les polygones BE, GK qui sont
 entr'eux comme ces triangles, sont entr'eux comme les quarez.

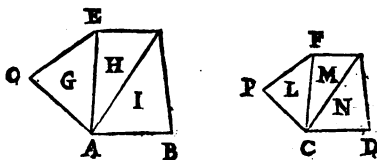
70.

Les parties d'un polygone sont entr'elles, comme
 les parties d'un autre polygone semblable.

Les polygones BO, DP sont semblables, ja dis donc que les
 triangles G, H, I, du premier sont entr'eux comme sont les
 triangles du deuxieme, L, M, N.

Puisque les polygones sont semblables, leurs triangles sont aus-
 si semblables; ainsi les triangles G, L, sont en raison doublee
 de leurs cotex homologues AE, CF (suivant la 66 :) les trian-
 gles H, M, sont aussi en raison doublee des memes cotex AE,
 CF; Donc il y a meme raison du triangle G au triangle L, que
 du triangle H au triangle M; & (par echange) le triangle
 G est au triangle H, comme le triangle L au triangle M. Par la
 meme raison le triangle H, est au triangle I, comme le trian-
 gle M au triangle N.

De plus (par egalite) G est à I, comme L à N; & (en com-
 posant) comme le triangle G est au quadrilatere HI, le triangle
 L est au quadrilatere MN.



71.

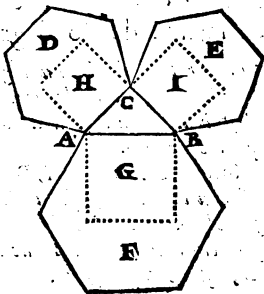
Si on décrit des polygones semblables sur les cô-
 tez d'un triangle rectangle le plus grand, c'est à
 dire, celui qui aura pour base le côté opposé à l'an-
 gle droit sera égal aux deux autres.

L'angle C, du triangle ABC est droit, ainsi j'ay à prouver
 que le polygone F, est égal aux deux polygones D, E, qui luy
 sont semblables.

Les polygones semblables D, E, F, sont entr'eux comme les
 quarez de leurs bases ou cotex homologues AB, BC, CA,

CHAPITRE II.

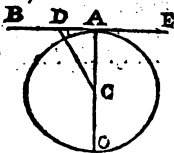
(par la 69) le plus grand carré G , est égal aux deux petits H , I (par la 45.) Donc le plus grand polygone F , est égal aux deux petits D , E .



72.

Une ligne droite touche un cercle & ne le coupe pas, si elle est perpendiculaire à l'extrémité du diamètre.

La droite AB étant perpendiculaire à l'extrémité du diamètre AO , il est évident qu'elle touche le cercle, mais qu'elle ne le coupe pas, même étant continuée vers E , c'est ce qu'il faut faire voir; & pour cela qu'on prenne dans cette ligne AB , un point comme on voudra, par exemple, le point D , & qu'on tire, au centre, la ligne droite CD .



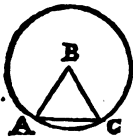
Puisque l'angle BAC est droit, l'angle ADC sera aigu (par la 32) & la ligne CD opposée à l'angle droit, sera plus grande que le rayon AC opposé à l'angle aigu, (par la 33.) Donc le point D a été pris hors le cercle (suivant la 1.) Or la même démonstration se fera de tous autres points de la touchante BE , si près qu'on le puisse prendre du point A : Donc la droite BE , n'entre pas dans le cercle. De plus il s'enfuit que

73.

Le cercle n'est touché d'une ligne droite qu'à un seul point, & la perpendiculaire tirée de ce point passe par le centre du cercle.

Le rayon divise la circonférence du cercle en six parties égales, chacune de 60 degrés.

Que la ligne AC soit tirée égale au rayon BC , je dis que l'arc AC , sera la sixième partie de la circonférence du cercle : c'est à dire qu'il sera de 60 degrés, sixième partie de 360.



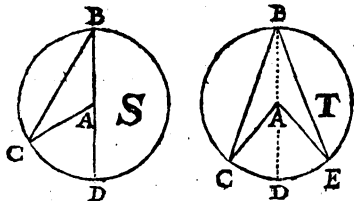
Supposé le rayon AB . Le triangle ABC est équilateral, & ses trois angles qui pris ensemble valent 180 degrés (suivant la 29) sont chacun de 60 : Donc l'arc AC qui est la mesure de l'angle B , est de 60 degrés.

L'angle du centre est double d'un angle de la circonférence qui a le même arc pour base.

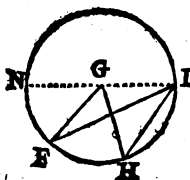
1. Dans le cercle S , l'angle du centre CAD , & l'angle CBD de la circonférence, ont un même arc CD pour base; j'ay donc à prouver que le premier est double du deuxième.

Les droites AB , AC sont égales, ainsi le triangle ABC est isocèle, & ces angles B , C , sont égaux (par la 25.) l'angle A est égal aux deux B & C (par la 27.) Donc il est double du seul B .

2. Dans le cercle T , l'angle CAE est encore double de l'angle CBE , car supposé la ligne BAD traversant le centre A , l'angle CAD est double de CBD , & DAE l'est de l'angle DBE , par le cas précédent.



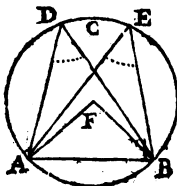
Enfin l'angle du centre FGH est aussi double de l'angle



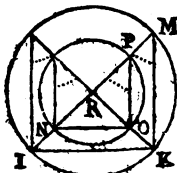
FIH, qui est à la circonférence, car supposez la ligne *IGN*, l'angle *NGH* sera double de l'angle *NIH*; & l'angle *NGF* le sera de l'angle *NIF*; (par le premier cas) si donc vous ôtez l'angle *NGF* de l'angle *NGH*, & l'angle *NIF* de l'angle *NIH*; restera l'angle *FGH* double de l'angle *FIH*.

76.

Les angles qui sont dans un même segment de cercle, ou dans des segments égaux ou semblables, sont égaux.



Les angles *ADB*, *AEB* compris dans le même segment *ACB* sont chacun moitié de l'angle du centre *AFB*, (par la précédente.) Donc ils sont égaux (par la 6.) Et la même chose est évidente à l'égard des angles qui sont dans des segments égaux.

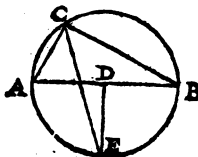


Mais supposez les deux cercles concentriques *IKM*, *NOP*; les arcs *NO*, *IK*; estans compris dans l'angle commun *IRK*, le premier est à son cercle, ce que le deuxième est au sien: (par la 13.) Ainsi les segments décrits sur les deux cordes *IK*, *NO* sont semblables quoy qu'inégaux.

Or, que les angles qui sont dans le grand segment *IMK*, comme ceux qui sont dans le petit *NPO*, soient égaux; il est évident (par la 6) puisque chacun de ces angles, est moitié de l'angle *R* qui est au centre.

77.

L'angle inscrit dans le demicercle est droit.



L'angle *ACB* est dans un demi-cercle, je dis donc qu'il est droit & je le prouve. Que la ligne *DE* soit abaissée perpendiculairement du centre *D*, les angles au point *D* seront droits.

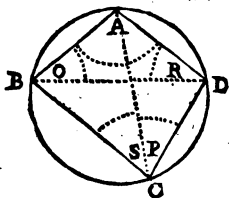
L'angle droit *ADE* est double de l'angle *AEC*; l'angle droit *BDE*, est aussi

48. TRAITE' DE GEOMETRIE.

doublé de l'angle BCE (par la 75.) Donc les angles ACE, BCE sont chacun demi droit, & l'angle ACB qui en est composé est droit.

78.

Un quadrilatere inscrit dans un cercle, a ses angles oppozes égaux à deux droits.



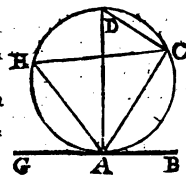
Que les angles oppozes BAD, BCD du quadrilatere ABCD soient égaux à deux droits, Voicy comme on le démo tre.

Supposé les lignes droites AC, BD; l'angle P est égal à l'angle O; & l'angle S, l'est à l'angle R. (par la 76.) L'angle BAD, vaut deux angles droits avec les angles O, R

(par la 29.) Donc il vaut deux angles droits avec leurs égaux S, P, ou le seul BCD.

79.

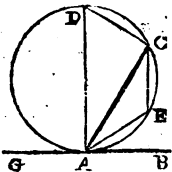
La tangente & la secante font au point de l'atouchement, des angles égaux à ceux des segments alternes.



1. Que la ligne GB, touche le cercle au point A, on prouve que l'angle BAC fait de la touchante AB & de la secante AC, est égal à l'angle du segment alterne AHC. Supposé le diametre AD, il sera perpendiculaire à la touchante AB (suivant la 73.)

L'angle ACD est droit, (par la 77)

& l'angle DAC qui avec l'angle D vaut un droit (par la 29,) vaut aussi un droit avec l'angle BAC; puisque AD est perpendiculaire sur AB: Donc l'angle BAC est égal à l'angle D (suivant la 7.) & par consequent à l'angle H qui est égal à l'angle D (par la 76.)



2. Je prouve que l'angle GAC, est aussi égal à l'angle du segment alterne AEC.

L'angle D avec l'angle E, vaut deux angles droits (par la 78) de même que l'angle BAC avec l'angle CAG (par la 18.) Les angles ADC, BAC, sont égaux, nous venons de le prouver: donc

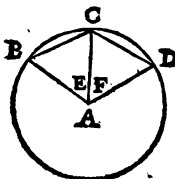
les angles GAC, AEC, le sont aussi:

80.

80.

Les arcs égaux, ont des cordes égales.

Les arcs BC , CD , sont supposés égaux, je dis donc que leurs cordes qui sont les droites BC , CD sont égales. Soit tiré du centre A les rayons AB , AC , AD .

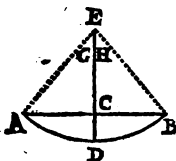


Puis que les arcs BC , CD sont égaux; les angles E , F , faits au centre du cercle sont égaux (par la 14.) Les rayons AB , AC , AD sont aussi égaux; Donc les triangles ABC , ACD ont les côtés égaux (par la 22) & (par la 24.) Les cordes BC , CD , sont égales, ce qui étoit à prouver.

81.

Le rayon qui coupe une corde en deux également, coupe l'arc de même.

Si le point E étant le centre de l'arc ADB , le rayon DE coupe la corde AB en deux parties égales; je dis qu'il coupe aussi l'arc en deux également en D , & je le fais voir.



Supposé les rayons AE , BE , les côtés du triangle ACE , sont égaux aux côtés du triangle BCE ; Les triangles ACE , BCE , sont donc semblables (par la 23) & ont les angles G , H , égaux (par la 24.) Donc les arcs AD , BD qui sont leurs mesures sont égaux.

Il s'ensuit aussi que

82.

La ligne qui coupe en deux également l'arc & la corde, est un rayon du cercle.

83.

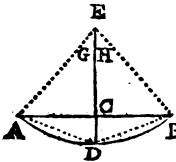
La perpendiculaire qui coupe une corde en deux également, passe par le centre de l'arc.

Si la perpendiculaire CE coupe la corde AB en deux parties

D

80 **TRAITE' DE GEOMETRIE,**
*égales, je ais qu'elle passe par le centre de l'arc AB. Tirez
 les droites AD, BD.*

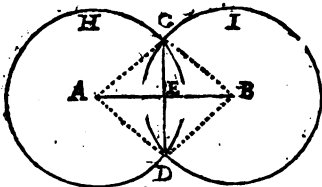
*Les lignes AC, CB, estant égales; CD commune; les
 angles au point C, droits; les triangles ACD, BCD,
 sont égaux & semblables (par la 22,)
 ainsi les cordes AD, BD sont égales,
 & ont leurs arcs égaux (par la 80.)
 Donc l'arc ADB est coupé en deux par-
 ties égales, de même que sa corde AB,
 & la perpendiculaire DE passe par le
 centre de l'arc (suivant la 82.)*



84.

Si deux cercles égaux se croisent, la ligne droi-
 te menée par les points communs de leurs circon-
 ferences, coupera en deux également & par des
 angles droits, la droite menée d'un centre à l'autre.

*Que les points A, B, soient les centres des cercles égaux H,
 I; je prouve que la droite CD, coupe la droite AB en deux
 parties égales & à angles égaux.*



*Les triangles ACD,
 BCD, ont les côtés AC,
 AD, BC, BD, égaux,
 & CD commun; donc ils
 sont semblables (par la 23)
 & leurs angles ACD,
 BCD, sont égaux (par
 la 24.) De plus les rayons
 AC, CB estant égaux, &*

*la ligne CE commune aux angles égaux ACE, BCE;
 les triangles ACE, BCE sont aussi égaux en toutes leurs
 parties (par la 22.) Donc AE, EB sont égales; & les an-
 gles en E sont égaux (par la 24) & droits (par la 9. du 1.)*

Pour venir à la pratique, il faut d'abord avoir une Regle, un Com-
 pas, & un Rapporteur, qui est un demicercle de cuivre ou de corne,
 divisé en 180 degrés.





CHAPITRE TROISIÈME.

P R A T I Q U E,
Des Lignes, des Angles, & des Figures.

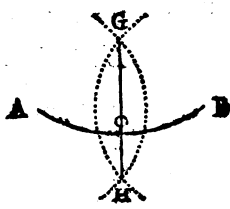
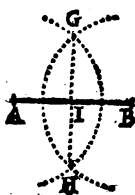
PROPOSITION I.

Couper une ligne droite en deux parties égales.

La ligne AB est proposée pour estre coupée.

D Es points A & B comme de deux centres, & d'une même ouverture de compas, décrivez des arcs qui se coupent.

Par leurs coupes G, H, menez une ligne droite, elle coupera la donnée en deux parties égales. (suivant la 84 du 2.)



PROP. II.

Couper un Arc en deux également.

L'Arc AOB est proposé.

D Es points A & B, & d'une même ouverture de compas, décrivez deux arcs qui se coupent, & par leurs coupes G, H, menez la droite GH, elle coupera l'arc proposé en deux également en O.

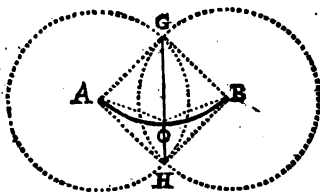
Que la droite GH coupe l'arc AB en deux également en O.

D ij

je le prouve. Tirez les droites AG, BG, BH, AH, AO, BO.

Les triangles GAH, GBH, ont le côté GH commun, & les côtés AG, BG; AH, BH, égaux; (par la 1. du 2) ainsi ces deux triangles sont semblables (par la 23 du 2 ;) & (par la 24 du 2) leurs angles au point G sont égaux.

Or les lignes AG, BG, étant égales, les angles AGO, BGO égaux, & la droite GO commune; les triangles A GO, BGO sont aussi égaux & semblables (par la 22 du 2.) Donc les cordes AO, BO, sont égales, & (par la 80 du 2) les arcs AO, BO, sont égaux. Ce qui estoit à prouver.



PROP. III.

Couper un angle rectiligne en deux également.

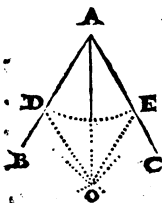
L'Angle BAC est proposé.

DU point A, pris comme centre, décrivez à volonté l'arc DE.

Des points D, E, & d'une même ouverture de compas, décrivez les petits arcs qui se coupent en O.

Menez la ligne AO, elle coupera l'angle en deux également.

Tirez les lignes DO, EO.



Les lignes AD, AE sont égales; DO, EO, le sont aussi (par la 1 du 2.) AO est commune aux deux triangles ADO, AEO; & (par la 23 du 2,) ces triangles sont semblables. (Par la 24 du 2,) leurs angles au point A, opposés aux côtés égaux DO, EO, sont égaux. Donc l'angle proposé est coupé en deux également.

PROP. IV.

D'un point donné dans une ligne droite, élever une perpendiculaire.

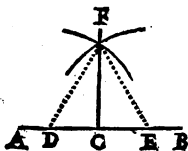
On veut élever au point C, une ligne perpendiculaire sur AB.

Posez une des pointes du compas en C, & de l'autre coupez comme il vous plaira, les parties égales CD, CE.

Des points D, E, faites la section F, je veux dire, de ces points D E, comme de deux centres & d'une même ouverture de compas, décrivez les arcs qui se coupent en F.

Menez CF, elle sera perpendiculaire sur AB.

Tirez DF, EF.



Les lignes CD, CE, sont égales; DF, EF, le sont aussi; CF, est commun; donc (par la 23 du 2.) les triangles CDF, CEF, sont semblables, & ont les angles au point C égaux & droits (par la 9 du 1.) Donc (suivant la 10 du 1.) la ligne CF est perpendiculaire.

PROP. V.

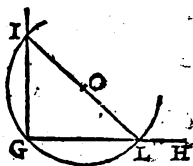
Élever une perpendiculaire à l'extrémité d'une ligne.

La ligne droite GH estant proposée, on veut élever une perpendiculaire à son extrémité G.

Marquez à volonté un point O, au dessus de GH,

De ce point, & de l'intervalle OG, faites le demi cercle IGL.

Menez LOI, puis la requise GI.



L'angle IGL est décrit dans le demicercle IGL, donc il est droit (par la 27 du 2.)

PROP. VI.

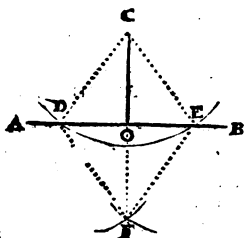
Abaïsser une perpendiculaire sur une ligne droite;

On veut abaïsser du point C , une perpendiculaire sur la droite AB .

Mettez une des pointes du compas au point C , & de l'autre décrivez un arc qui coupe la ligne AB , par exemple, en D , E .

De ces points D , E , faites la section F .

Menez la requise CO , vers le point F .



Supposé les lignes CD , CE , DF , EF , OF . Les triangles CDF , CEF sont équiangles (par la 23 du 2,) & les angles au point C , sont égaux (par la 24 du 2.) De plus les triangles OCD , OCE sont aussi équiangles étant semblables (par la 22 du 2;) car les lignes CD , CE , sont égales; CO , est commune, & les angles au point C sont égaux. Donc (par la 24 du 2) les angles COD , COE sont égaux & droits, & la ligne CO est perpendiculaire. (suivant la 10 du 1.)

PROP. VII.

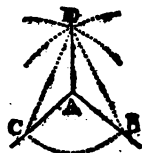
Elever sur un angle rectiligne, une ligne droite qui fasse des angles égaux de part & d'autre.

L'angle A est proposé.

DU point A , décrivez comme il vous plaira, l'arc BC .

Des points B , C , faites la section D .

Tirez la demandée AD ,



Les triangles ACD , ABD sont équiangles (par la 23 du 2.) Donc les angles CAD , BAD sont égaux.

PROP. VIII.

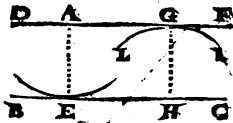
Par un point proposé, mener une ligne parallèle à une autre.

On veut mener par le point *A*, une ligne qui soit parallèle à la ligne *BC*.

DU point *A*, prenez avec le compas, la distance *AE*, en décrivant un arc qui rase la ligne *BC*.

De la même ouverture de compas & d'un autre point comme *H* pris à volonté dans la ligne *BC*, décrivez l'arc *LI*.

Menez la demandée *DF*, de manière que passant par le point proposé *A*, elle touche l'arc *LI* sans le couper.



Que la ligne *DF* soit parallèle à la ligne *BC*, il est évident (par la 1. du 2.)

PROP. IX.

Faire un angle égal à un autre.

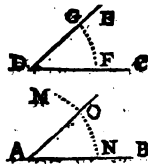
On veut faire sur la ligne *AB*, & au point *A*, un angle égal à l'angle *CDE*.

DE l'angle *D*, décrivez à la première ouverture de compas, l'arc *FG*.

De la même ouverture de compas, & du point *A*, décrivez aussi l'arc *NM*.

Coupez l'arc *NO* égal à l'arc *FG*.

Menez *AO*, & l'angle *BAO* sera égal au proposé *CDE* (suivant la 14. du 2.)



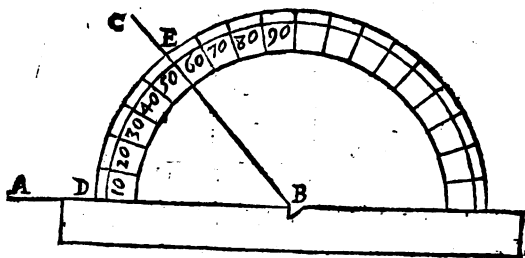
C iiiij.

PROP. X.

Trouver la valeur d'un angle , par le moyen d'un Rapporteur ou demi cercle.

L'angle ABC est proposé à mesurer.

A Ppliquez sur AB , la règle du Rapporteur, en sorte que le centre du demicercle se trouve précisément sur la pointe de l'angle B , & le nombre des degrez qui se trouveront compris dans l'arc DE , sera la valeur de l'angle ABC .



PROP. XI.

Faire un angle de tel nombre de degrez qu'on voudra , par exemple ,

Soit proposé de faire un angle de 50 degrez sur AB , & au point B .

A Ppliquez le Rapporteur ou demicercle, comme je viens de dire dans la Proposition precedente, & à 50 degrez, à compter du point D , marquez le point E ; puis menez BE , qui fera l'angle demandé ABC .

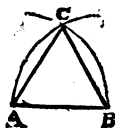
PROP. XII.

Décrire un triangle équilatéral sur une base donnée.

On propose pour base la ligne A B.

D Es points A & B , décrivez les arcs AC , B C.

Menez les droites AC , BC , & vous aurez le requis. (*par la 1. du 2.*)



PROP. XIII.

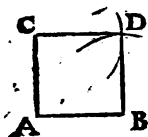
Construire un carré sur une base donnée.

On propose pour base la ligne A B.

E Levez la perpendiculaire AC (*par la 5,*) & la coupez égale à AB.

Des points B & C , & de l'intervale AB , faites la section D.

Menez les lignes CD , BD , & vous aurez un carré.



Les quatre côtés ont été coupez égaux , & ils sont parallèles (par la 39 du 2.) L'angle A est fait droit , & son opposé D l'est aussi (par la 38 du 2.) De même , les angles B , C , sont égaux & droits , les quatre angles A , B , C , D , valant quatre droits (par la 35 du 2.) Donc (suivant la 27 du 1) C B est un carré parfait.

PROP. XIV.

Inscrire un triangle équilatéral dans un cercle.

Le cercle A F est proposé.

D U point A , pris à volonté dans la circonférence , & de l'intervale du rayon AB , décrivez l'arc CBD.

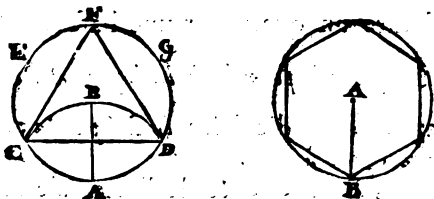
Menez la droite CD , elle fera la base du triangle demandé.

L'arc AC est une sixième partie de la circonférence (suivant la 74 du 2.) & le double CAD en est le tiers.

PROP. XV.

Inscrire un Exagone regulier.

Prenez le demi diamètre AB , il divisera la circonférence du cercle en six parties égales (suivant la 74. du 2.)



PROP. XVI.

Inscrire un Quarré.

Tirez par le centre O , le diamètre BD .
Des points B, D , décrivez deux arcs FG, EH , qui se coupent.

Par leurs coupes ou sections, menez la droite AC , qui passera par le centre O en faisant quatre angle droits avec le diamètre BD , (suivant la 84 du 2.)

Décrivez le quarré $ABCD$, il aura les quatre côtez égaux, & les quatre angles droits.

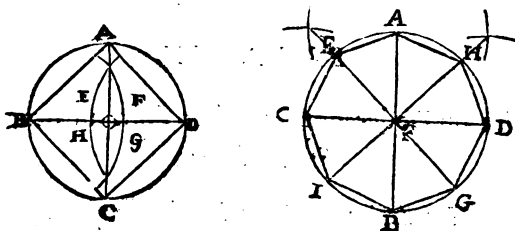
Les arcs AB, BC, CD, DA , sont égaux (suivant la 14 du 2;) ainsi (par la 80 du 2) le quarré a ses quatre côtez égaux; & ses quatre angles sont droits (par la 77 du 2.)

PROP. XVII.

Inscrire un octogone regulier.

Tirez les diametres AB , CD , coupant le cercle en quatre parties égales (*par la precedente.*)
 Coupez chaque quart de cercle en deux également (*par la 2,*) & tirez les côtez de l'octogone AEC , &c.

L'égalité des côtez est évidente (par la 80 du 2) & celle des angles (par la 76 du même 2.)

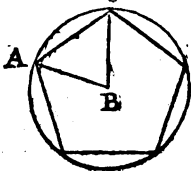


PROP. XVIII.

Inscrire tel Poligone regulier qu'on voudra, par le moyen du Rapporteur.

On veut inscrire un Pentagone dans le cercle ABC.

Divisez le nombre des degrez du cercle entier par le nombre des côtez du poligone; c'est à dire, divisez 360 par 5, & le quotient 72, sera l'angle du centre ABC que vous ferez (*par la 11*) pour avoir un arc dont la corde AC , soit un des côtez du Pentagone demandé.



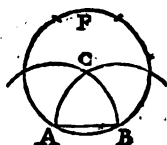
PROP. XIX.

Construire un Exagone regulier sur une base donnée.

La base AB est donnée.

DEs points A, B, décrivez les arcs BC, AC.

Du point C, faites le cercle ABF, il contiendra six fois AB (suivant la 74. du 2.)



PROP. XX.

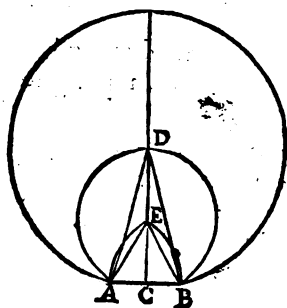
Décrire un Dodecagone regulier dont un des côtez est proposé.

La droite AB est le côté proposé.

DU milieu d'AB, élevez la perpendiculaire CD (par la 4.)

Du point B, décrivez l'arc AE, & du point E l'arc AD.

Le point D sera le centre du Dodecagone.



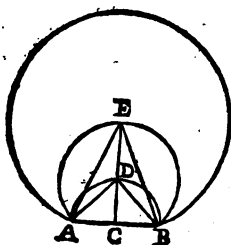
L'angle ADB est moisié de l'angle AEB (par la 75 du 2.) AEB est l'angle du centre d'un Exagone (par la precedente.) Donc l'angle ADB est l'angle du centre d'un Dodecagone; car l'angle AEB estant de 60 degrez, l'angle ADB est de 30, & douze fois 30, font 360, valeur de toute la circonference du cercle.

PROP. XXI.

Sur une base donnée décrire un Octogone.

La base AB est donnée.

Coupez AB en deux au point C (par la 1.)
 Elevez la perpendiculaire CE (par la 4.)
 Du point C, décrivez le demicercle ADB.
 Du point D, décrivez le cercle AEB, & du
 point E, le cercle demandé qui contiendra huit
 fois AB.



L'angle ADB est droit (par la 77 du 2) & l'angle AEB est demi-droit (suivant la 75 du 2.) L'angle droit vaut 90 degrez (suivant la 18 du 2 ;) & le demi droit 45, qui est la valeur de l'angle au centre d'un Octogone , huit fois 45 faisant 360.

PROP. XXII.

Sur une base donnée décrire tel Poligone regulier qu'on voudra.

On veut faire un Pentagone regulier sur la base AB.

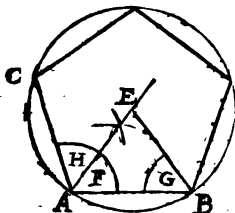
Divisez 360, par le nombre des côtez du Poligone à faire, c'est à dire par 5 ; & le quotient 72 sera la valeur de l'angle , au centre d'un Pentagone , (suivant la 18.)

Tirez ce nombre 72 de 180 , restera 108 pour angle de la figure BAC , que vous ferez par la Pratique II.

Coupez cet angle BAC en deux, par la ligne AE (prop. 3.)

52 TRAITE' DE GEOMETRIE.

Faites l'angle ABE égal à l'angle BAE (par la 9^s) & le point E sera le centre du cercle dans lequel vous ferez le Pentagone demandé.



Les angles F, G , sont faits égaux : donc (par la 26 du 2) les lignes AE, BE sont égales ; & le cercle décrit du point E , & de l'intervalle EA , passe par le point B . Cela connu, je n'ay qu'à faire voir comme l'angle AEB est de 72. de grez.

L'angle G qui est égal à l'angle F , est aussi égal à l'angle H ; Les deux angles H, F , ou le seul CAB a esté fait de 108 degrez ; ainsi les deux F, G , valant 108 degrez ; lesquels soustraits de 180 que valent tous les trois angles du triangle ABE , (par la 29 du 2) reste 72 pour l'angle AEB .

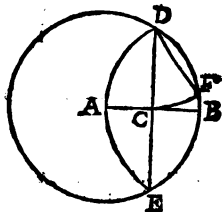
PROP. XXIII.

Inscrire un Eptagone dans un cercle.

Le cercle BDE est proposé.

Menez le rayon AB , & du point B , décrivez l'arc DAE .

Tirez la droite DE , & la moitié CD ou son égale DF , sera à peu près la longueur d'un des côtez de l'Eptagone.



Nous voyons cette Proposition & les deux suivantes au Chapitre 3.

PROP. XXIV.

Inscrire un Eneagone.

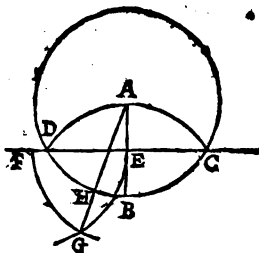
Menez le rayon AB . De l'extrémité B , & de l'intervalle BA , décrivez l'arc DAC .

Tirez la droite CD , & la prolongez vers F .

Coupez EF égale à AB .

Du point E , décrivez l'arc FG , & du point F , l'arc EG .

Menez AG , & l'arc DH , fera à peu près la neuvième partie de la circonférence du cercle.



PROP. XXV.

Sur une base donnée, décrire un Enegone regulier.

La ligne AB est une base proposée.

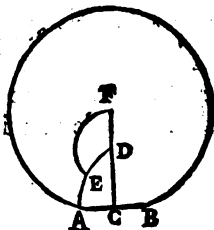
Coupez AB en deux également au point C .

Elevez la perpendiculaire CF .

Du point B , décrivez l'arc AD .

Coupez l'arc AD en deux parties égales en E .

Du point D , décrivez l'arc EF ; & le point F , sera à peu près le centre de l'Enegone.



PROP. XXVI.

Décrire un Triangle semblable & égal à un autre.

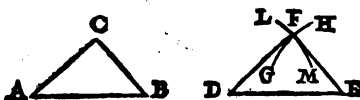
On veut faire un triangle égal & semblable au triangle $A.B.C$.

Tirez DE , égale à la base AB .

Du point D , & de l'intervalle AC , décrivez l'arc LM .

64 TRAITÉ DE GEOMETRIE.
 Du point E, & de l'intervale BC, décrivez
 l'arc GH.

De la section F, menez les lignes DF, EF, &
 vous aurez le requis (*par la 23 du 2*)

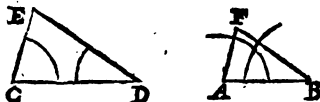


PROP. XXVII.

Décrire sur une base donnée, un triangle semblable
 à un autre.

*On propose à faire sur AB, un triangle semblable
 au triangle CDE.*

Faites l'angle A égal à l'angle C, & l'angle B
 égal à l'angle D (*par la 9.*) Le troisieme F sera
 égal au troisieme E (*par la 31 du 2,*) & (*par la 55
 du 2*) les deux triangles seront semblables.



PROP. XXVIII.

Décrire une figure rectiligne égale & semblable à
 une autre.

On veut faire une figure comme la proposée O.

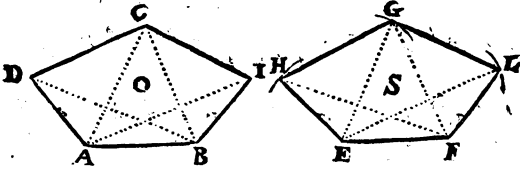
Tirez EF égale à la base AB.
 Faites le triangle EFH semblable au triangle
 ABD (*par la 26.*)

Faites

CHAPITRE III.

Faites de même, le triangle EFG, semblable au triangle ABC, & tirez GH.

Enfin, faites le triangle EFL semblable au triangle ABI, & ayant tiré GL, la figure S, sera égale & semblable à la figure O.



Les triangles EFH, EFG, sont faits égaux & semblables aux triangles ABD, ABC; ainsi étant des angles égaux DAB, HEF, les égaux BAC, FEG; les angles DAC, HEG, restent égaux; & puisque les côtes AD, AC sont égaux aux côtes EH, EG, les triangles ADC, EHG sont aussi égaux & semblables (par la 22 du 2.)

Par la même raison les triangles ACI, BIC, sont égaux & semblables aux triangles EGL, FLG. Donc les figures O, S sont égales & semblables, (par la 68 du 2.)

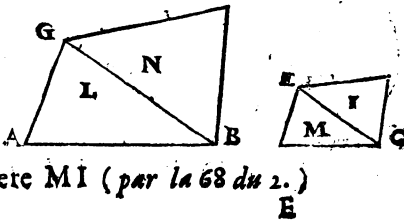
PROP. XXIX.

Décrire sur une base donnée, une figure semblable à une autre.

On veut faire sur AB une figure semblable à la figure MI.

Menez la diagonale CE, & faites sur la base AB, le triangle L semblable au triangle M (par la 27.)

Faites aussi sur BG, le triangle N, semblable au triangle I. Et le quadrilatere LN fera sembla-



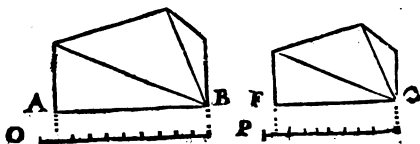
ble au quadrilatere MI (par la 68 du 2.)

PROP. XXX.

Construire une figure semblable à une autre, par le moyen d'une échelle.

On veut faire avec l'échelle O , une figure semblable à la figure FC , qui a été mesurée par l'échelle P .

LA base FC contient 9 parties de son échelle P . Prenez aussi 9 parties sur l'échelle O , & les donnez à la base AB , ainsi du reste (suivant la 28.)



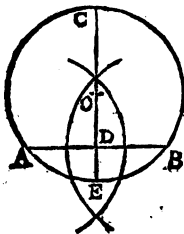
PROP. XXXI.

Trouver le centre d'un cercle.

On propose de trouver le centre du cercle ABC .

Tirez comme il vous plaira la droite AB , & la coupez en deux également par la perpendiculaire CE (suivant la 1.)

Coupez CE aussi en deux parties égales, & le milieu O , sera le centre du cercle.



La perpendiculaire CE passe par le centre du cercle (suivant la 83 du 2.) & le centre ne peut être ailleurs qu'au point O , milieu de cette ligne.

CHAPITRE III.

PROP. XXXII.

Achever un cercle commencé dont on n'a pas le centre.

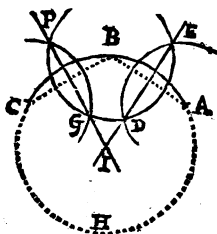
L'arc ABC est le commencement d'un cercle qu'il faut achever.

Posez dans l'arc proposé, trois points comme il vous plaira, par exemple, les points A, B, C.

Des points A & B, & d'une même ouverture de compas, décrivez les arcs qui se coupent en D, E, & menez la droite DE.

Décrivez deux autres arcs des points B & C; & par leurs sections P, G, menez la droite PG.

Du point I où se coupent les droites PG, DE, & de l'intervalle IA, achevez le cercle commencé.



Supposé les droites AB, BC, elles sont coupées chacune en deux également & à angles droits par les droites PI, EI (suivant la 84 du 2;) ces lignes PI, EI passent chacune par le centre de l'arc ABC (par la 83 du 2.) Donc le centre est au point commun I, & l'arc AHC qui en est décrit, fait un cercle parfait avec l'arc ABC.

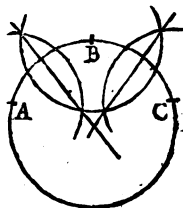
E ij

TRAITE DE GEOMETRIE:
PROP. XXXIII.

Trouver le milieu de trois points, ou décrire un cercle par trois points qui ne soient pas dans une ligne droite.

Les points A, B, C, sont proposez, par lesquels une ligne droite ne peut estre menée.

Cherchez le centre de ces points par la precedente.



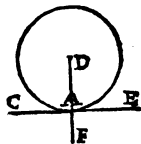
PROP. XXXIV.

Mener une ligne droite qui touche un cercle par un point donné.

On propose de tirer par le point A, une ligne qui touche le cercle sans le couper.

DU centre du cercle, menez DF par le point A.

Elevez la perpendiculaire AE, sur DF, elle sera la touchante demandée, (suivant la 72 du 2)

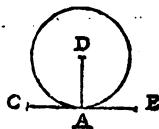


PROP. XXXV.

Trouver le point où un cercle est touché d'une ligne droite.

On cherche le point où la droite CE, touche le cercle qui est dessus.

DU centre du cercle D, abaissez sur CE, la perpendiculaire DA (par la 6;) & le point A sera le demandé. (Voyez la 73. du 2.)



PROP. XXXVI.

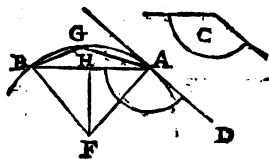
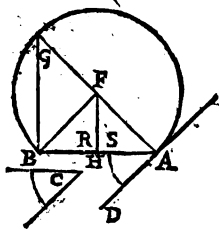
Décrire sur une ligne droite, un segment de cercle capable d'un angle égal à un angle donné.

On veut décrire sur la droite, AB , un segment de cercle qui puisse comprendre un angle égal à l'angle C .

Faites l'angle BAD égal à l'angle C . (*prop. 9.*)
 Elevez sur AD , la perpendiculaire AG . (*prop. 4, ou 5.*)

Coupez AB en deux, & du milieu H , élevez la perpendiculaire HF .

Du point F , décrivez l'arc AGB , & menez BG . Je dis que l'angle G , compris dans le segment ABG est égal au donné C . *Tirez BF .*



Premièrement, les triangles HBF , HAF , ont le côté HF commun; les bases BH , HA , égales & les angles d'entre deux égaux puisqu'ils sont droits: donc (par la 22 du 2) FA , FB , sont égales; le cercle décrit du point F , & de l'intervalle FA passe par le point B , & le segment AGB est décrit sur AB .

2. La ligne AD touche le cercle au point A (par la 73 du 2);
 (suivant la 79 du 2) l'angle G est égal à l'angle BAD ,
 & par conséquent à l'angle C .

PROP. XXXVII.

Décrire sur une ligne, un Poligone regulier dont l'angle du centre est donné.

L'angle C, est l'angle du centre d'un Pentagone qu'on veut faire sur la ligne AB.

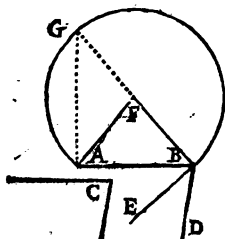
Faites l'angle ABD, égal au donné C (*prop. 9.*)
Coupez cet angle en deux par la ligne BE
(*prop. 3.*)

Elevez sur BE, la perpendiculaire BF (*prop. 5.*)

Faites l'angle A égal à l'angle B.

Du Point F, décrivez le cercle ABG, il contiendra cinq fois la ligne AB.

Pour le prouver je n'ay qu'à faire voir que l'angle du centre AFB est égal au proposé C.



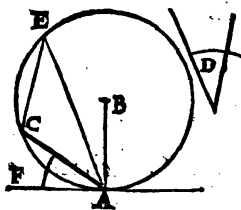
Supposé l'angle G, il est moitié de l'angle F, (par la 73 du 2.) L'angle ABE est aussi moitié de l'angle ABD par la construction; ces angles G, & ABE sont égaux (par la 79. du 2.) Donc l'angle F, est égal à l'angle ABD, & par consequant à l'angle C, auquel ABD est fait égal.

PROP. XXXVIII.

Couper d'un cercle, un segment capable d'un angle égal à un angle donné.

On veut couper du cercle E, un segment capable d'un angle égal à l'angle D.

Tirez le rayon AB, & la perpendiculaire AF.
Faites l'angle FAC égal à l'angle D, & le segment AEC sera le demandé.



Ayant pris un point à volonté dans l'arc AEC , par exemple le point E , si vous faites l'angle AEC , il sera égal à l'angle CAF , (suivant la 79 du 2.) & par conséquent au donné D .

PROP. XXXIX.

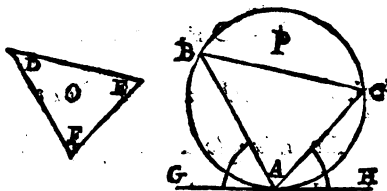
Inscrire dans un cercle, un triangle semblable à un autre.

On propose d'inscrire dans le cercle P , un triangle semblable au triangle O .

Par un point comme A , menez la touchante GH (prop. 34.)

Faites l'angle GAB égal à l'angle E , & l'angle HAC égal à l'angle D .

Tirez la droite BC , & le triangle ABC sera semblable au triangle O .



L'angle C est égal à l'angle BAG ou E ; l'angle B l'est à l'angle CAH ou D , (par la 79 du 2.) Et l'angle A l'est à l'angle F (par la 31 du 2.) Donc le triangle inscrit est semblable au proposé O (par la 55 du 2.)

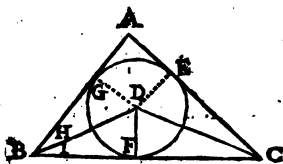
PROP. XL.

Inscrire un cercle dans un triangle.

Le triangle ABC est proposé.

Coupez les angles ABC, ACB chacun en deux également tirant les lignes BD, CD, (prop. 3.)

De la section D, abaissez la perpendiculaire DF. (prop. 6.) elle sera le rayon du cercle. Tirez DG, perpendiculaire sur AB, & DE perpendiculaire sur AC.



Dans les triangles BDG, BDF, les angles G, F, sont égaux puisqu'ils sont droits; les angles H, I sont aussi égaux, l'angle GBF étant coupé en deux également; le côté BD est commun: Donc (par la 34 du 2.) ces triangles sont égaux en

toutes leurs parties, & DG est égal à DF (par la 24 du 2.) Par la même raison DE est égal à DF: Donc le cercle décrit du point D, & de l'intervalle DF, passe par les points G, E, & touche les trois côtés du triangle sans les couper (par la 72 du 2.)

PROP. XLI.

Décrire un cercle autour d'un triangle.

Le triangle D est proposé.

Cherchez le centre des trois points A, B, C, (prop. 33.)



PROP. XLII.

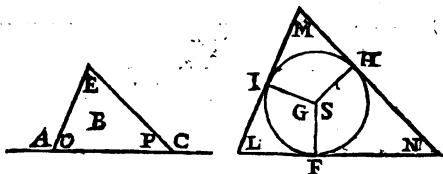
Décrire autour d'un cercle, un triangle semblable à un triangle donné.

On propose de faire autour du cercle $F I H$, un triangle semblable au triangle B .

Continuez la base $A C$ de part & d'autre. Menez le rayon $G F$, & faites l'angle S égal à l'angle C .

Faites aussi l'angle G égal à l'angle A .

Menez par les points F, I, H , les tangentes $L M, M N, L N$, (*prop. 34.*) elles feront le triangle demandé.



Les angles du quadrilatere $F S H N$ sont égaux à quatre droits (par la 35 du 2) les angles $S F N, S H N$, sont faits droits; donc les opposés S, N , pris ensemble valent deux droits.

Les angles P, C , sont aussi égaux à deux droits (par la 18 du 2) & l'angle S est fait égal à l'angle C . Donc l'angle N est égal à l'angle P .

Par la même raison, l'angle L est égal à l'angle O ; & l'angle M l'est à l'angle E , (par la 31 du 2.) Donc (par la 55 du 2) le triangle $L M N$ est semblable au triangle B .

PROP. XLIII.

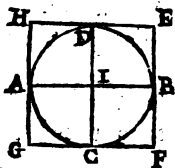
Autour d'un cercle circonscrire un carré.

Le cercle $A B C$ est proposé.

Tirez les diametres $A B, C D$, se coupant à angles droits.

74 TRAÏTE' DE GÉOMÉTRIE.

Par les points A, B, C, D, menez HE, GF, EF, GH, parallèles aux diametres AB, CD, (prop. 8,) & vous aurez le quarré demandé ayant ses côtez égaux, ses angles droits, & touchant de ses quatre côtez, le cercle donné sans le couper en aucun endroit.



Les côtez EH, GF, sont égaux au diametre AB; EF, GH, le sont au diametre CD, (par la 38 du 2,) les diametres sont égaux: donc les quatre côtez du quarré sont égaux.

Les angles au centre I sont droits, & leurs oppozes E, F, G, H, le sont aussi (par la 38 du 2.)

L'angle HDI est droit comme son alterne I (par la 20 du 2.) Donc EH touche le cercle sans le couper (suivant la 72 du 2.) La même demonstration se fera des autres côtez.

PROP. XLIV.

Autour d'un cercle circonscrire un Poligone regulier.

On propose de faire un Pentagone regulier autour du cercle ABD.

D Ecrivez dans le cercle un Pentagone ACD, (prop. 18.)

Coupez AB en deux tirant le rayon FH.

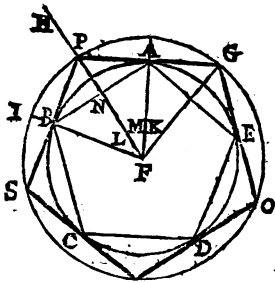
Menez AP perpendiculaire sur AF (prop. 5.)

Décrivez le cercle POS, & continuez PA jus- qu'en G.

La droite PG sera un des côtez du Pentagone demandé.

Les triangles NAF, NBF, ont leurs côtez égaux, ainsi ils sont semblables (par la 23 du 2,) & leurs angles L, M, sont égaux (par la 24 du 2.)

Dans les triangles AFP, AFG, les angles au point A sont droits, le côté AF est commun, & les côtez FP, FG,



sont coupés égaux ; Donc AP, AG, le sont aussi (par la 22 du 2.) & l'angle K est égal à l'angle M, & par conséquent à l'angle L.

Les trois angles au centre F estant égaux, l'angle PFG composé de deux est égal à l'angle BFA aussi composé de deux ; & l'arc PG est la cinquième partie de son cercle, comme l'arc AB est la cin-

quième partie du sien (par la 13 du 2. ;) le reste est évident.

PROP. XLV.

Diviser une ligne droite en tant de parties égales qu'on voudra.

On veut diviser la ligne AB en trois parties égales.

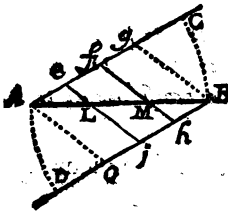
DU point A, décrivez l'arc BC, de telle grandeur qu'il vous plaira.

Du point B, décrivez aussi l'arc AD, & le coupez égal à l'arc BC.

Du point A, & de la première ouverture de compas, portez sur AC, trois parties égales A e f g.

De la même ouverture de compas & du point B, portez aussi sur BD les trois parties B h j o.

Menez les lignes f h, e j, elles diviseront AB comme il est demandé.



Nous avons fait les angles alternes CAB, DBA, égaux, ainsi (par la 21 du 2) les lignes AC, BD sont parallèles ; Ae, Oj, sont donc égaux & parallèles, & AO, ej, qui les conjoignent sont aussi parallèles (suivant la 36 du 2.) La même démonstration se fera des lignes ej, fh, g B.

76 TRAITÉ DE GEOMETRIE.

Les lignes Bg , Mf , Le , estant paralleles, AB est divisée comme Ag , (suivant la 51 du 2,) les parties d' Ag , sont coupées égales. Donc les parties d' AB , le sont aussi.

PROP. XLVI.

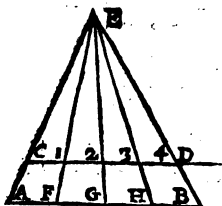
Autre maniere de diviser une ligne.

On veut diviser AB en quatre parties égales.

Menez la ligne CD parallele à AB .
Du point C , & à la premiere ouverture de compas, portez sur CD , quatre parties égales 1, 2, 3, 4.

Tirez AC , BD , & les continuez jusqu'à leur rencontre en E .

Menez du point E , des lignes par les divisions 1, 2, 3, elles diviseront AB , en quatre parties égales.



Les lignes CD , AB , estant paralleles, les triangles CDE , ABE , sont semblables, (par la 57 du 2) & sont divisez l'un comme l'autre par des triangles semblables (suivant la même 57) les bases des triangles sur CD , sont coupées égales : Donc (suivant la 70 du 2) les bases des triangles sur AB sont aussi égales : Donc

AB est divisée comme CD en quatre parties égales.

PROP. XLVII.

Faire diverses Echelles semblables sur des longueurs inégales.

On veut faire trois Echelles chacune de soixante parties égales, la premiere de la longueur D , la deuxième de la longueur E , & la troisième de la longueur G .

Tirez une ligne AO de telle longueur qu'il vous plaira.

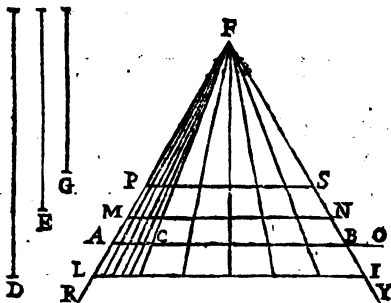
Portez sur cette ligne AO , & à la première ouverture de compas, dix petites parties égales AC .

Portez AC , six fois sur la même ligne AO , & sur ces six parties AB , faites le triangle équilatéral ABF (*prop. 12.*)

Prolongez FA vers R , & FB , vers Y .

Menez du point F , des lignes par toutes les divisions d' AB .

Enfin, coupez FL , FI , égales à D ; FM , FN , égales à E ; FP , FS égales à G ; & les lignes LI , MN , PS seroient les échelles demandées.



Le triangle ABF est fait équilatéral, & le triangle LIF luy est semblable (par la 58 du 2.) Donc comme AB est égal à AF , aussi LI est égale à LF ou D : & cette ligne LI est divisée comme AB , (suivant la précédente) ainsi des autres.

PROP. XLVIII.

Diviser une ligne en plusieurs parties qui soient entr'elles, comme les parties d'une autre ligne, par exemple,

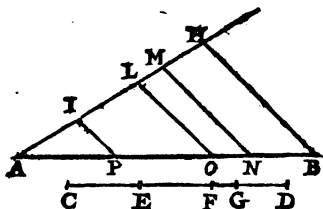
On veut diviser AB en quatre parties qui soient entr'elles comme les quatre parties de la ligne CD .

Menez comme vous voudrez la ligne AH , faisant un angle avec AB .

78. TRAITE' DE GEOMETRIE.

Coupez les parties AILMH, égales aux parties C EFGD.

Tirez BH, ses paralleles MN, LO, IP, & AB sera divisée comme AH ou CD son égale. (suivant la 51 du 2.)



PROP. XLIX.

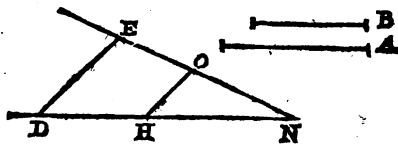
A deux lignes données, trouver une troisième proportionnelle.

On demande une ligne qui soit à la ligne B, comme la ligne B, est à la ligne A.

Faites comme il vous plaira, l'angle DNE. Coupez NH égale à la ligne A, & NO égale à la ligne B.

Coupez encore DH égale à NO, & menez DE parallele à HO.

La ligne EO sera la troisième demandée.



Les lignes DE, HO étant paralleles, il y a même raison d'NH à DH, ou d'A à B leurs égales; que d'NO ou B son égale à OE. (par la 51 du 2.)

PROP. L.

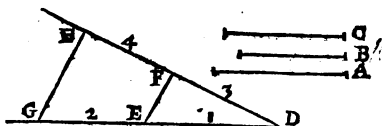
A trois lignes données trouver une quatrième proportionnelle.

On propose les lignes A, B, C , auxquelles il faut trouver une quatrième proportionnelle.

Faites à volonté l'angle GDH .

Coupez DE égale à A , EG égale à B , & DF égale à C .

Menez GH , parallèle à EF , & FH sera la demandée.



Il y a même raison de DE ou A son égale, à EG ou B son égale, que de DF ou son égale C à FH . (suivant la 51 du 2.)

PROP. LI.

Trouver une moyenne proportionnelle.

On veut avoir une moyenne proportionnelle entre les lignes A & B .

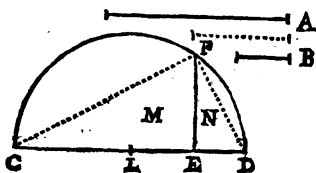
Tirez une ligne droite CD .

Coupez CE, ED , égales aux données A & B .

Divisez CD en deux également en L .

De ce point L , décrivez le demicercle CFD .

La perpendiculaire EF sera la moyenne demandée. Tirez CF, DF .



L'angle CFD est droit (par la 77 du 2;) & (par la 56 du 2) les triangles ML, N , sont équiangles; ainsi, dans le premier triangle, le moyen côté CE est au petit EF , comme dans le second trian-

13 TRAITÉ DE GEOMETRIE.

gle, le moyen côté EF est au petit ED (par la 53 du 2.)
la ligne EF est donc moyenne proportionnelle entre les extrêmes
 CE , ED ou leurs égales A , B .

PROP. LII.

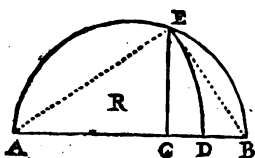
Autre maniere de trouver une moyenne
proportionnelle.

On demande une ligne moyenne entre les extrêmes
 AB , AC .

D Ecrivez le demicercle AEB .

Elevez la perpendiculaire CE .

La ligne AE ou son égale AD sera moyenne
proportionnelle entre les proposées AB , AC .



Le triangle ABE est rectan-
gle (par la 77 du 2.) Et le trian-
gle ACE , luy est semblable
(par la 56 du 2.) AC est donc
à AE , dans le triangle R , com-
me AE à AB dans le triangle
 AEB (par la 53 du 2 ;) ainsi,
comme AC à AE , AE ou son
égale AD à AB .

PROP. LIII.

D'une ligne donnée, couper une partie qui soit
moyenne proportionnelle entre le reste &
une autre ligne..

On veut couper de la ligne AC , une partie CI ,
qui soit moyenne entre le reste AI , & la ligne CB .

D Ecrivez sur la droite ACB le demicercle
 AEB .

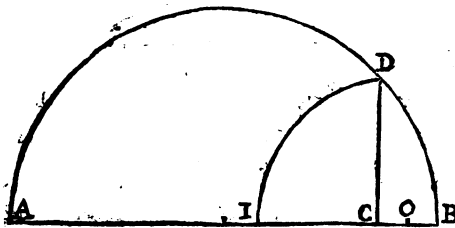
Elevez la perpendiculaire CD .

Coupez BC en deux au point O .

De ce point O , décrivez l'arc DI .

La ligne CI sera moyenne proportionnelle entre
 AI & CB .

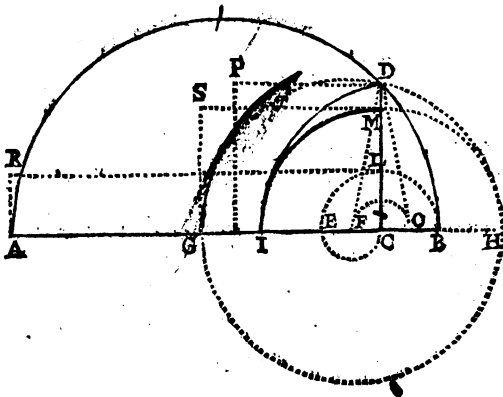
Coupez



Coupez CF , CE , égales à CO , CB ; CH à CI ; & FG à FH ; puis faites les rectangles $ACLR$, $GCMS$, & le carré CP .

La ligne FH , est égale à OI , & OI est coupée égale à OD , ainsi FH est aussi égale à FD ; & le cercle décrit du centre F , & de l'intervalle FH , passe par le point D .

La ligne CD est moyenne proportionnelle entre AC & CB , & est même qu'entre GC & CH , (par la 51) ainsi le carré CP , est égal au rectangle CS compris sous les extrêmes GC , CH ; de même qu'au rectangle CR compris sous les extrêmes AC , CB (par la 64 du 2.) Donc (par la 3 du 2.) les rectangles CS , CR sont égaux: & AC est à CM ou son égale CI , comme CG à CL ou CE son égale (par la 63 du 2.) De plus AI est à IC , comme GE à EC ou son égale CB (par la 12 du 2.) Or GE est égale à IC , car IC , l'est à CH ; comme CH l'est à EG ; Donc comme AI à IC , IG à CB .



E

PROP. LIV.

Trouver deux lignes moyennes entre deux autres proposées, tellement que les quatre soient en proportion continuée.

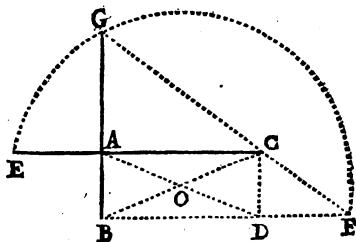
On veut trouver deux moyennes proportionnelles entre les lignes AC, AB.

FAITES le rectangle ABCD, & continuez AC vers E, AB vers G, & BD vers F.

Tirez les diagonales AD, BC.

Du point O décrivez le demicercle EGF, de maniere qu'une ligne droite menée par les sections G, F, touche l'angle C.

Les lignes AG, AE, seront les moyennes demandées.



Tirez les lignes OE, OF, EG, BE.

Les triangles rectangles ABD, BDC ont les côtes AB; CD égaux & une même base BD; donc ils sont semblables (par la 22 du 2;) & l'angle OBD est égal à l'angle ODB (par la 24 du 2.) Donc (par la 26 du 2) le triangle BDO, est isocèle & ses côtes BO, DO sont égaux.

Par la même raison les triangles ABC, ABD sont encore semblables; leurs angles ABC, BAD sont égaux; le triangle ABO, est isocèle; & BO est égale à AO de même qu'à DO.

CHAPITRE III.

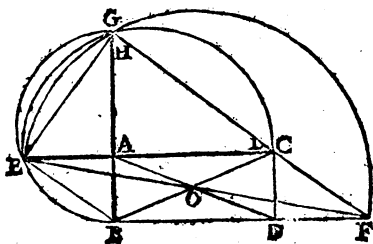
Les lignes AO , DO sont donc égales; OE , OF , le sont aussi étant des rayons du cercle EGF ; & la diagonale AD tombant sur les parallèles EC , BF , fait les angles alternes $EA O$, $OD F$ égaux (par la 20 du 2.) Donc (par la 27 du 2) les triangles OAE , ODF sont égaux & semblables, & leurs angles au point O , étant égaux, OE , OF (par la 19 du 2) ne font qu'une ligne droite qui est le diamètre du demicercle EGF .

L'angle EGF est droit (par la 77 du 2 ;) & si vous décrivez un demicercle sur CE , il passera par le point G ; Donc les triangles ACG , AGE sont équiangles (suivant la 56 du 2.) & (par la 51) la perpendiculaire AG est moyenne proportionnelle entre les lignes AC , AE .

Les lignes DC , DF qui sont parallèles aux lignes AG , AC font les angles DCF , DFC égaux aux angles AGC , ACG (par la 15 du 2 ;) ainsi le triangle DCF est semblable au triangle ACG (par la 31 du 2.)

Les triangles OAE , ODF sont prouvez égaux & semblables; donc AE , DF , sont égales; AB , DC , le sont aussi (par la 38 du 2 ;) & les angles EAB , CDF , étant droits, le triangle EAB est semblable au triangle $CD F$ (par la 22 du 2) & par conséquent aux triangles GAC , EAG , ceux-ty ayant esté prouvez semblables au triangle $CD F$.

L'angle BEG est donc droit, car il est composé des angles BEA , AEG égaux aux angles EGA , AGC qui font l'angle droit EGC . Donc la ligne AE est moyenne entre AB , & AG ; de même qu' AG l'est entre AE , & AC , (par la 51.) Donc comme AB , à AE ; AE , à AG ; & AG , à AC .



PROP. LV.

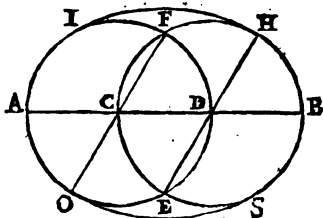
Décrire une Ovale sur une longueur donnée.

La ligne AB est la longueur d'une Ovale à faire.

Divisez AB en trois parties égales ACDB.
Des points C, D, décrivez les cercles AID, CHB.

Menez les droites FCO, EDH.

Du point E, décrivez l'arc HI, & l'arc OS du point F.



PROP. LVI.

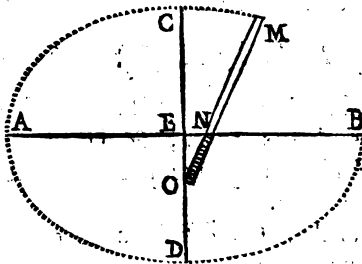
Décrire une Ovale sur une longueur & une largeur donnée.

On veut faire une Ovale qui ait pour diametres les lignes AB, CD qui se coupent également l'une l'autre & à angles égaux.

Ayez une Regle MO égale au grand rayon AE, sur laquelle marquez la longueur MN, égale au petit rayon CE.

Conduisez cette regle sur les diametres AB, CD, tellement que le point N coulant sur AB,

l'extrémité O, n'abandonne point CD, & l'extrémité M, décrira l'ovale demandée.



PROP. LVII.

Trouver le grand & le petit diamètre d'une Ovale.

L'Ovale AB, CD est proposée.

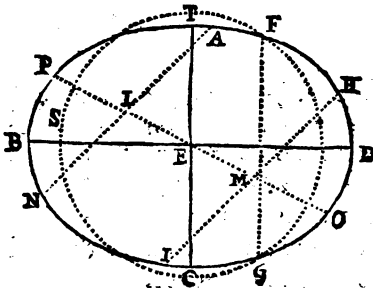
Menez comme il vous plaira les deux parallèles NA, IH.

Coupez ces parallèles chacune en deux, & par leurs coupes L, M, tirez la droite PO.

Divisez aussi la droite PO, en deux au point E.

Du point E, décrivez à volonté, le cercle SGF, coupant la circonférence de l'ovale en quatre points.

Menez FG, & sa parallèle TEC, qui sera le petit diamètre, puis tirez le grand diamètre BED, coupant le petit par des angles droits.



E ili

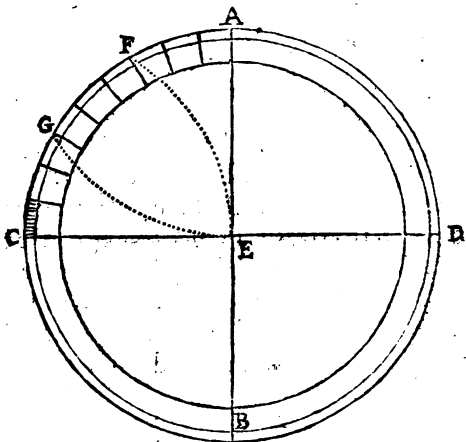
PROP. LVIII.

Diviser la circonference d'un Cercle en 360 degrez.

Le Cercle A est proposé.

Menez les diametres AB, CD se coupant à angles droits en E, & la circonference se trouvera divisée en quatre parties égales, valant chacune 90 degrez.

Des points A & C, décrivez les arcs EG, EF, qui diviseront le quart de cercle AC, en trois parties chacune de 30. degrez.



Le quart de cercle AC estant de 90 degrez, & les arcs AG, CF, chacun de 60 (suivant la 74 du 2;) il s'ensuit que les suppléments CG, AF, sont chacun de 30; Or deux fois 30, soustraits de 90, reste aussi 30 pour l'arc GF.

Divisez ces trois arcs égaux CGFA, chacun en trois, puis chaque partie en dix, & ainsi des trois autres quarts de circonference.

PROP. LIX.

Diviser le contour d'un plan en plusieurs parties égales.

On propose de diviser le contour du plan H, en huit parties égales.

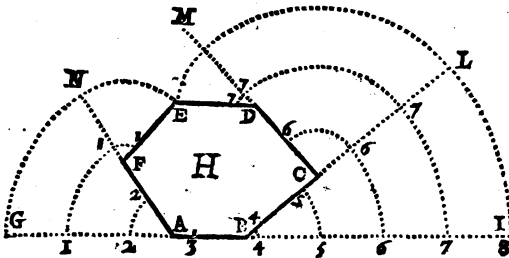
Prolongez la base AB de part & d'autre.
 Prolongez aussi AF vers N, BC vers L, & CD vers M.

Coupez FN égale à FE, & AG égale à AN.
 Coupez de même DM, égale à DE; CL égale à CM; BI égale à BL; & la ligne GI sera égale au contour du plan.

Divisez GI en huit parties égales, 1, 2, 3, &c.

Du point A, décrivez les arcs 11, 22, parallèles à l'arc GN, & du point F, l'arc 11 parallèle à l'arc NE, ainsi du reste.

Les points 1, 2, 3, &c. qui se trouveront dans les côtes du plan, feront la division demandée.



PROP. LX.


Trouver une ligne droite égale à une courbe.

On veut avoir une ligne droite égale à la courbe AB.

Tirez la ligne droite & indéterminée DE.
Prenez de la proposée AB, une partie AC, si petite que la courbure de la ligne y soit imperceptible.

Portez cette petite partie sur AB, autant de fois qu'elle y pourra estre comprise, par exemple 22, fois.

Portez autant de ces petites parties sur DE, lesquelles se terminant en F, vous aurez la droite DF, assez précisément égale à la courbe AB,





CHAPITRE QUATRIÈME.

Reduction ou Transfiguration des Plans.

PROPOSITION I.

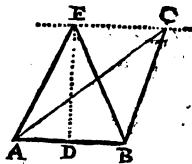
D'un triangle scalene ABC , faire un triangle isocèle, ou ce qui est même chose, décrire un triangle isocèle égal au scalène proposé.

Coupez la base AB en deux également en D .

Elevez la perpendiculaire DE .

Menez CE parallèle à la base AB .

Tirez EA , EB , vous aurez le triangle isocèle ABE pour le proposé ABC suivant la 42 du 2.)

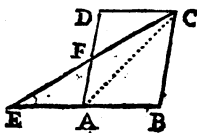


PROP. II.

Réduire en triangle, le parallélogramme BD .

Continuez AB , & coupez AE égale à AB .

Menez CE , & le parallélogramme sera réduit en triangle, ou pour mieux dire le triangle BCE sera fait égal au parallélogramme BD .



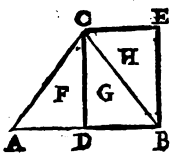
Le parallélogramme BD est coupé en deux triangles égaux par la diagonale AC (suivant la 37 du 2.) le triangle AEC est égal au triangle ABC (par la 43 du 2;) Donc il est aussi égal au triangle ACD : & étant le commun ACF , reste le triangle AEF égal au

tranché CDF . Donc le triangle BCE est égal au parallélogramme BD .

PROP. III.

Réduire le triangle ABC en parallélogramme.

Coupez la base AB en deux également en D .
Menez CD , & sa parallèle BE .
Tirez encore CE parallèle à AB .
Le parallélogramme DE , sera égal au triangle ABC .

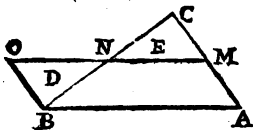


Le triangle G est égal au triangle F (par la 43 du 2.) il est aussi égal au triangle H (par la 37 du 2.) Donc les triangles F, H , sont égaux (par la 3 du 2.) & mettant le triangle H pour son égal F , le parallélogramme DE est égal au triangle ABC .

PROP. IV.

Faire un parallélogramme du triangle ABC , sans changer l'angle A .

Coupez AC en deux également en M .
Tirez MO parallèle à AB & BO parallèle à AC .
Le parallélogramme AO sera égal au triangle ABC .



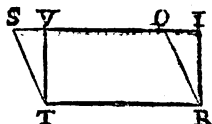
Les lignes AM, MC , sont coupées égales : BO est égale à AM (par la 38 du 2.) donc BO, MC , sont aussi égales, & étant parallèles, le triangle D est égal au triangle E (par la 59 du 2.) Donc le parallélogramme AO est égal au triangle ABC .

PROP. V.

Faire un rectangle du parallelogramme STRO.

Elevez TV perpendiculaire sur TR.

Coupez VI égale à TR, & le rectangle IVTR sera égal au parallelogramme OSTR (par la 40 du 2.)



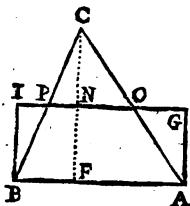
PROP. VI.

Décrire un Rectangle égal au triangle ABC.

Abaissiez la perpendiculaire CF, & la coupez en deux au point N.

Menez par le point N, la ligne GI parallele à AB, Coupez NG égale à FA, & NI égale à FB.

Menez BI, AG, & ABIG sera le rectangle demandé égal au triangle donné.



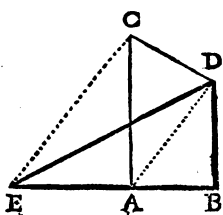
La ligne NG est coupée égale à sa parallele FA; & (par la 36 du 2) AG est égale & parallele à NF comme aussi à son égale NC. Donc (par la 59 du 2) le triangle AGO, est égal au triangle CNO. Par la même raison, le triangle BIP est égal au triangle CPN.

Les lignes IG, AB estant égales & paralleles, BI, AG sont aussi paralleles (par la 36 du 2) & le parallelogramme ABIG est rectangle, car les angles au point F estant droits, leurs opposés I, G sont droits, & les opposés à ceux-cy, GAB, ABI le sont aussi (par la 38 du 2.)

PROP. VII.

Réduire en triangle, le quadrilatre $ABCD$.

Prolongez la base AB vers E .
Menez AD , sa parallèle CE & la ligne DE .
Le quadrilatre sera réduit en triangle BDE .



Les triangles ADC , ADE ont une même base AD , & sont entre les mêmes parallèles AD , CE ; donc ils sont égaux (par la 42 du 2) & leur ajoutant le triangle commun ABD , le triangle BDE est égal au quadrilatre $ABCD$ (suivant la 4 du 2.)

PROP. VIII.

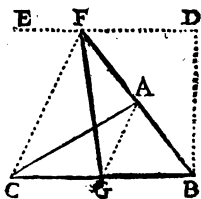
Donner au triangle ABC , la hauteur BD .

Menez DE parallèle à la base BC .

Continuez un des côtes comme AB , jusqu'en F .

Tirez CF , sa parallèle AG , & la ligne FG .

Si vous mettez le triangle AGF , pour AGC qui luy est égal (par la 42 du 2,) le triangle BGF sera égal au donné ABC , & de la hauteur proposée BD .



PROP. IX.

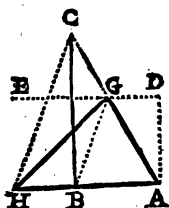
Abaisser le triangle ABC à la hauteur AD .

Menez DE , parallèle à AB .
De l'une des sections comme G , tirez BG .

Continuez la base AB vers H.

Menez CH parallele à BG.

Tirez GH, & mettez le triangle BGH pour son égal BGC.

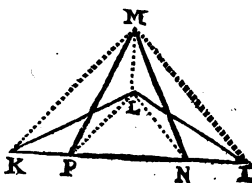


PROP. X.

Hauffer le triangle IKL, jusqu'au point M.

Menez les lignes LM, MK, MI.
Tirez LP parallele à KM, puis menez PM.
Conduisez aussi LN
parallele à MI, & menez MN.

Si vous donnez le triangle PLM, pour son égal PLK, & NLM pour son égal NLI; le triangle MNP, sera égal au proposé IKL.



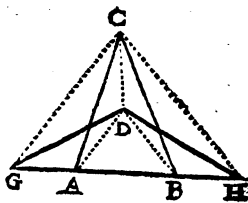
PROP. XI.

ABC est un autre triangle qu'on veut abaïſſer au point D.

Menez DA, DB, DC, & continuez la base AB de part & d'autre.

Menez CH parallele à DB, & CG parallele à DA.

Tirez DH, DG & le triangle BDH estant mis pour son égal BDC, & ADG pour son égal ADC, le triangle DGH sera égal au proposé ABC.



44 TRAITÉ DE GEOMETRIE:

PROP. XII.

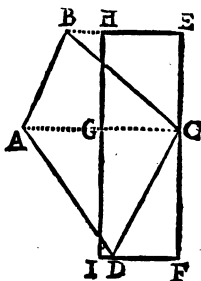
Réduire le quadrilatere $ABCD$ en parallogramme rectangle.

Tirez AC , & ses paralleles BE , DF .

Coupez AC en deux également en G , par la perpendiculaire HI (*prop. 1. du 3.*)

Menez par le point C , EF paralleles à IH , & le rectangle $EFIH$, sera égal au quadrilatere proposé.

Le rectangle GE , est égal au triangle ACB , & le rectangle GF , l'est au triangle ACD (par la 3.)



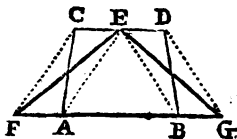
PROP. XIII.

Réduire le trapeze $ABCD$ à un triangle qui ait son angle supérieur en E .

Continuez la base AB de part & d'autre.

Menez DG parallele à EB , & CF parallele à AE .

Tirez EF , EG , & les triangles AEF , BEG étant mis pour leurs égaux AEC , BED , le triangle EFG sera égal au trapeze proposé.



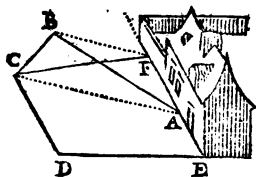
PROP. XIV.

Faire du Pentagone $ABCDE$ un quadrilatere $CDEF$.

Menez AC , sa parallele BF , & la ligne CF .

CHAPITRE IV.

Mettez le triangle ACF pour son égal ACB
& le quadrilatere $DEFC$ sera égal au pentagone
 $ABCDE$,



PROP. XV.

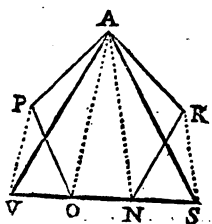
Réduire en triangle le Pentagone $APONR$.

Prolongez la base NO , de part & d'autre.

Tirez AO , sa parallèle PV ,
& la ligne AV .

Tirez aussi AN , sa parallèle
 RS , & la ligne AS .

Mettez AOV pour son égal
 AOP , & ANS pour son égal
 ANR . Le triangle AVS sera égal au Pentagone,

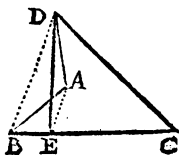


PROP. XVI.

*Réduire en triangle le quadrilatere $ABCD$ qui a
un angle rentrant BAD .*

Menez BD , sa parallèle AE ,
& la ligne DE .

Donnez le triangle AED pour
son égal AEB ; & vous aurez le
triangle CDE , pour le quadri-
latere proposé.

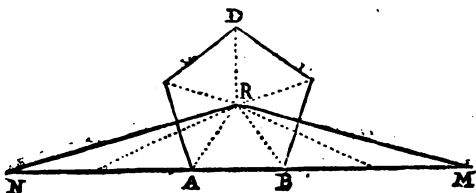


PROP. XVII.

Décrire un triangle égal au Pentagone regulier ABD .

POrtez sur la base prolongée NM , cinq fois la longueur de la base AB , c'est à dire, coupez NM égale aux cinq côtez du Pentagone.

Du centre R , menez RN , RM , & le triangle MRN sera égal au Pentagone.



Le triangle ABR est la cinquième partie du pentagone; comme il est la cinquième partie du triangle NMR (par la 43 du 2.) Dont (suivant la 6 du 2) le triangle NMR est égal au pentagone.

PROP. XVIII.

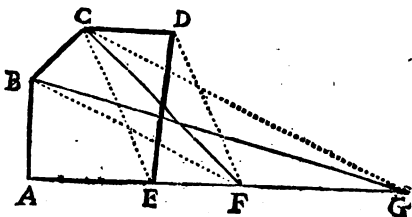
Réduire le Pentagone AD , en triangle sur le côté AB .

Continuez la base AE vers G .

Menez CE , sa parallèle DF , & la ligne CF .
Mettez le triangle CEF pour son égal CDE , &
& le quadrilatre $ABCF$ sera égal au pentagone.

Tirez BF , sa
parallèle CG , &
la ligne BG .

Mettez le trian-
gle BFG pour
son égal BFC ,
& le triangle
 ABG sera égal
au quadrilatre $ABCF$.



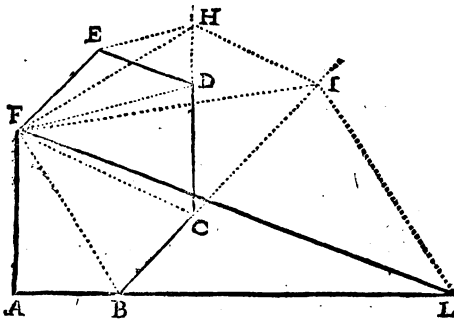
PROP.

PROP. XIX.

Réduire l'Exagone ABE en triangle AFL.

Prolongez CD vers H, BC vers I, & AB vers L.

Menez DF, sa parallele EH; CF, sa parallele HI; BF, sa parallele IL, & la ligne FL qui fera le triangle ALF égal à l'Exagone proposé.



Supposé les lignes FH, FI. Les triangles FDH, FDE, sont égaux; & le Pentagone ABCDE leur estant commun, le pentagone FHCB A, est égal à l'exagone ABCDEF.

De même. Les triangles FCI, FCH, sont égaux; & le quadrilatere ABCF, leur estant commun; le quadrilatere ABIF, est égal au Pentagone ABCHF.

Enfin, les triangles FBL, FBI, sont égaux; ABF leur est commun: Donc le triangle AFL est égal au quadrilatere FABI, & par conséquent à l'exagone proposé ABE.

PROP. XX.

Du Pentagone ABCDE, faire un triangle qui ait son angle supérieur en O, & sa base dans la ligne SV.

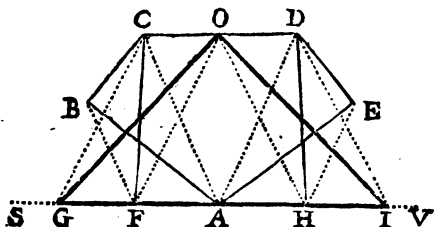
Tirez AC, sa parallele BF, & la ligne CF. Tirez de même AD, sa parallele EH, & la ligne DH.

G

TRAITE' DE GEOMETRIE:

Mettez le triangle ADH pour son égal ADE, & ACF, pour son égal ACB; le trapeze CDFH sera égal au Pentagone.

Réduisez ce trapeze en triangle OGI (par la 13.)

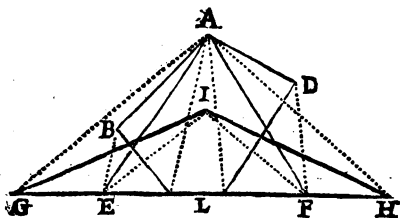


PROP. XXI.

Du Pentagone ABLD, faire un triangle de la hauteur IL.

Réduisez le Pentagone en triangle AEF, (par la 15.)

Abaissez ce triangle AEF, à la hauteur IGH (par la 11.)



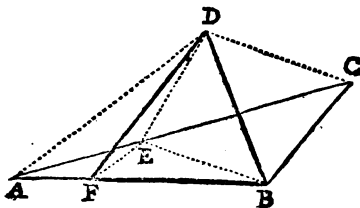
PROP. XXII.

Décrire sur la ligne BD, & sur l'angle ABD, un triangle égal au triangle ABC.

Menez CD, la parallele BE, la ligne DE, & mettez le triangle BED pour son égal BEC.

CHAPITRE IV.

Tirez AD, sa parallèle EF; la ligne DF; & ayant mis le triangle EFD, pour son égal EFA; le triangle BDF, sera égal au proposé ABC.

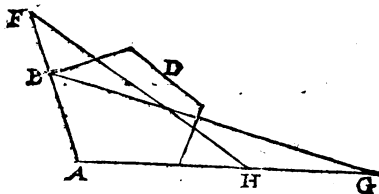


PROP. XXIII.

Décrire sur la ligne AF, un triangle égal au Pentagone ABD.

Réduisez le Pentagone en triangle ABG, (par la 18.)

Faites le triangle AHF égal au triangle ABG (par la 8.)



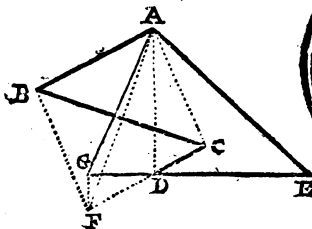
PROP. XXIV.

Réduire en triangle le Plan ABCDE, qui a un angle rentrant.

Continuez CD vers F, & ED vers G. Menez AC, sa parallèle BF, la ligne AF; & le triangle ACF, sera égal au triangle ACB.

G ij

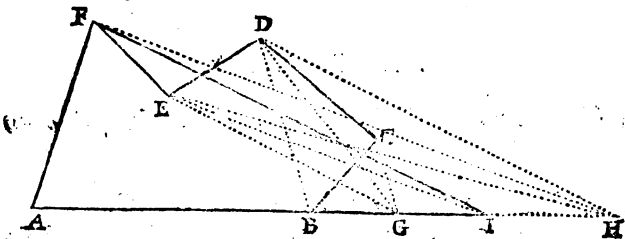
Menez AD, sa parallèle FG, la ligne AG; puis mettant le triangle ADG pour son égal ADF, le triangle AEG fera égal au plan proposé.



PROP. XXV.

Réduire en triangle, le Plan ABCDEF.

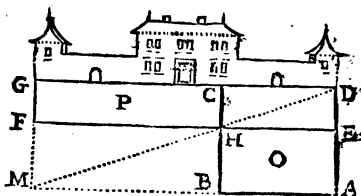
Menez BD, sa parallèle CG, la ligne DG.
 Mettez le triangle BDG pour son égal BDC.
 Menez EG, sa parallèle DH, & la ligne EH.
 Mettez le triangle EGH pour son égal EGD.
 Menez enfin FH, sa parallèle EI, & la ligne FI; puis mettez le triangle EIF pour son égal EIH, & le plan proposé sera réduit en triangle AIF.



PROP. XXVI.

Alonger le parallélogramme AC, sur la longueur DG.

Menez GM parallèle au côté CB.
 Prolongez AB jusqu'en M, & tirez DM.
 Menez par le point H, EF, parallèle à DG.
 Le parallélogramme EG sera égal au proposé.

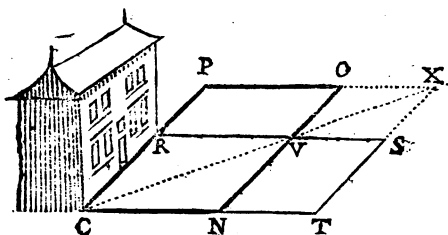


Le supplément ajouté P, est égal au retranché O. (par la 65 du 2.)

PROP. XXVII.

Réduire le Parallélogramme CNOP à la largeur CR.

Menez RVS parallèle à CN.
 Continuez PO vers X, & CN vers T.
 Tirez par le point V, la diagonale CX.
 Menez XT parallèle à ON, & vous aurez le parallélogramme CRST, pour le proposé NP.



Le supplément ajouté TV, est égal au retranché VP, (par la 65 du 2.)

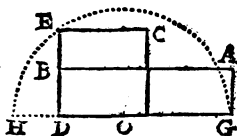
PROP. XXVIII.

Décrire un quarré égal au rectangle B G.

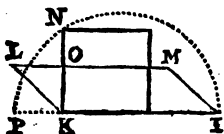
Continuez GD vers H, & BD vers E.
Coupez DH, égale à DB.

Coupez GH, en deux également en O.

Du point O, décrivez le demicercle HEG, & le quarré DC que vous ferez sur DE, sera égal au rectangle BG.



DE est moyenne proportionnelle entre DG & DH ou DB son égale (par la 51 du 3.) Donc (suivant la 64 du 2) le quarré CD est égal au rectangle proposé.



Pour faire un quarré égal au parallelogramme I K L M qui n'est pas rectangle, la moyenne proportionnelle KN, doit estre prise entre KI & KP, égale à la perpendiculaire KO, de même que si le parallelogramme proposé estoit rectangle. (Voyez la 40 du 2.)

PROP. XXIX.

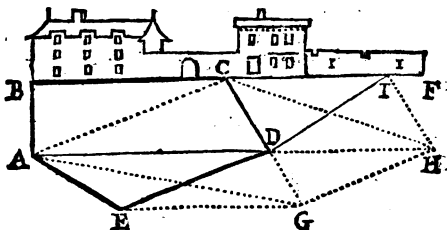
Réduire le plan A B C D E, entre les deux parallèles B F, A D.

Prolongez CD vers G, & AD vers H.
Menez EG parallele à AD, GH parallele à AC, & HI parallele à CD.

Tirez DI & le triangle CDI sera égal au triangle retranché ADE.

Les triangles ACH, ACG, sont égaux (par la 42 du 2.)

Étant le commun ACD , les triangles CDH , ADG ,
restent égaux; CDI est égal à CDH , & ADE l'est à ADG .
(par la même 42.) Donc CDI est égal à ADE .

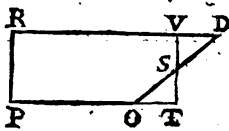


PROP. XXX.

Réduire en parallélogramme le quadrilatere $DOPR$
qui a déjà les costez DR , PO paralleles.

Coupez OD en deux également en S .
Menez TSV parallele à PR , & continuez
 PO jusqu'en T .

Mettez le triangle OTS
pour SVD qui luy est égal,
(suivant la 59 du 2,) & vous
aurez le parallélogramme RT
pour le quadrilatere proposé.



PROP. XXXI.

Décrire un triangle équilatéral, égal au scalene ABC .

Faites sous la base AB , le triangle équilatéral
 ABD (prop. 12 du 3.)

Prolongez le côté BD vers E .

Menez CE parallele à AB , & supposé la ligne
 AE , le triangle ABE sera égal au triangle ABC ,
(suivant la 42 du 2.)

Décrivez sur DE , le demicercle DFE .

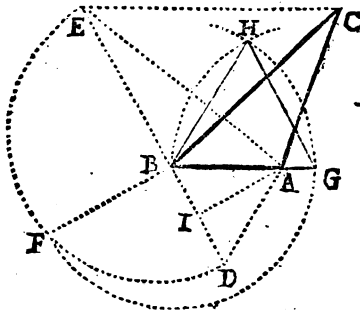
G iij

104 TRAITE' DE GEOMETRIE.

Elevez BF, moyenne proportionnelle entre les extrêmes BE, BD (*prop. 51 du 3.*)

Du point B, décrivez l'arc FGH, & du point G, l'arc BH.

Menez les droites GH, BH, je dis que le triangle équilatéral BGH est égal au scalene ABC.



Les lignes BE, BF, BD, sont proportionnelles; les triangles BEA, BDA faits sur les extrêmes BE, BD, sont de même hauteur AI; BG est égale à la moyenne BF, & le triangle BGH est fait semblable à ARD: Donc (par la 67 du 2) il est égal au triangle BEA, & par conséquent au proposé ABC.

PROP. XXXII.

Du triangle ABC, faire un triangle semblable au proposé O.

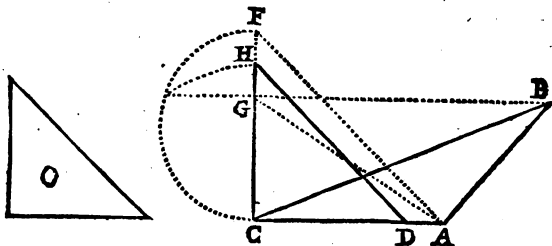
Faites le triangle ACF semblable au triangle O (*prop. 27 du 3.*)

Menez BG parallèle à AC.

Prenez CH moyenne proportionnelle entre CF, & CG, (*prop. 52 du 3.*)

Menez HD parallèle à AF, & le triangle CDH fera semblable au triangle O, & égal au triangle ABC.

Les lignes CF , CH , CG sont proportionnelles (par la construction.) Les triangles ACF , ACG , sont de même hauteur CA ; & ont pour bases les extrêmes CF , CG : le triangle CDH fait sur la moyenne GH ; est semblable à ACF ou O (par la 57 du 2;) & (par la 67 du 2) il est égal à ACG , & par conséquent au proposé ABC .



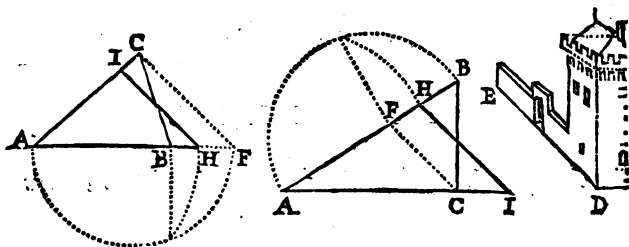
PROP. XXXIII.

Tirer une ligne parallèle à DE qui fasse avec l'angle A , un triangle égal au triangle ABC .

Menez CF parallèle à DE , & prolongez AB vers F .

Coupez AH moyenne proportionnelle entre les extrêmes AB , AF , (par la 52 du 3.)

Menez HI parallèle à DE ou CF , & le triangle AHI sera égal au triangle ABC .



Les triangles AFC , ABC , faits sur les extrêmes AF , AB , sont de même hauteur C ; le triangle AHI décrit sur la moyenne AH , est semblable au triangle AFC (par la 57 du 2.) Donc (par la 67 du 2) il est égal au triangle ABC .

PROP. XXXIV.

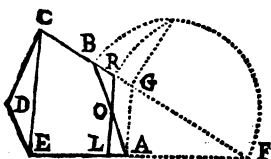
On demande que le costé AB du Pentagone $ABDE$ soit parallele à CE .

Prolongez les côtez EA , CB en F .

Menez AG parallele à CE .

Coupez FR moyenne proportionnelle entre FG , FB (*prop. 52 du 3.*)

Tirez le côté demandé RL , parallele à AG .



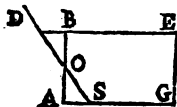
Les triangles ABF , FLR sont égaux (par la précédente,) & ôtant le quadrilatere commun $AORF$, le triangle ajouté OBR , reste égal au retranché OLA .

PROP. XXXV.

Le parallelogramme $ABEG$ estant proposé, diriger son costé AB vers le point D .

Coupez AB en deux également en O .

Tirez du point proposé D , la ligne DOS & vous aurez le requis, le triangle ajouté OBD estant égal au retranché OAS (*par la 59 du 2.*)



PROP. XXXVI.

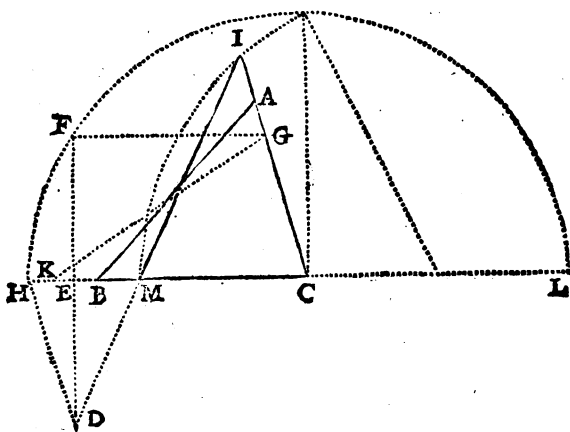
Diriger le costé AB du triangle ABC , vers le point D .

Prolongez BC de part & d'autre.

Menez DEF perpendiculaire sur BC .

Coupez EF égale à DE .

Tirez FG parallèle à BC .
 Faites sur CG , le triangle CGK égal au triangle ABC (*prop. 9.*)
 Menez DH parallèle à AC .
 Coupez CL égale à CK .
 Retranchez de la ligne CH , la partie CM , moyenne proportionnelle entre le reste MH , & CL , (*par la 53 du 3.*)
 Menez la ligne demandée DMI , & vous aurez le triangle CMI pour le proposé ABC .



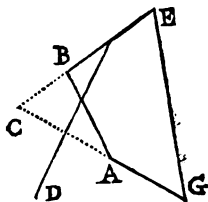
Les lignes HM , MC , CL ou CK son égale, sont coupées proportionnelles ; les triangles DHM , CGK faits sur les extrêmes HM , CK , sont de même hauteur ; car les perpendiculaires DE , EF ont été coupées égales : & puisque DH est menée parallèle à CI , le triangle CIM décrit sur la moyenne CM , est semblable à DHM (*par la 59 du 2.*) Donc (*par la 67. du 2*) CIM est égal à CGK , & par conséquent au proposé ABC auquel CGK a été fait égal.

PROP. XXXVII.

Diriger vers le point D, le côté AB, du plan ABG.

Prolongez les côtés EB, GA, jusqu'à leur rencontre C.

Du triangle ABC, dirigez le côté AB vers D (par la précédente.)



PROP. XXXVIII.

Décrire un Exagone regulier égal au triangle ABC.

Décrivez de telle grandeur qu'il vous plaira, l'exagone regulier D.

Faites sur AB, le triangle ABE semblable au triangle D, de maniere que l'angle AEB, soit celui du centre.

Prolongez BE de part & d'autre.

Menez CF parallele à AB, & tirez AF. Le triangle ABF sera égal au triangle donné ABC (par la 42 du 2.)

Divisez BF en six parties égales, c'est à dire, en autant de parties que la figure doit avoir de côtés.

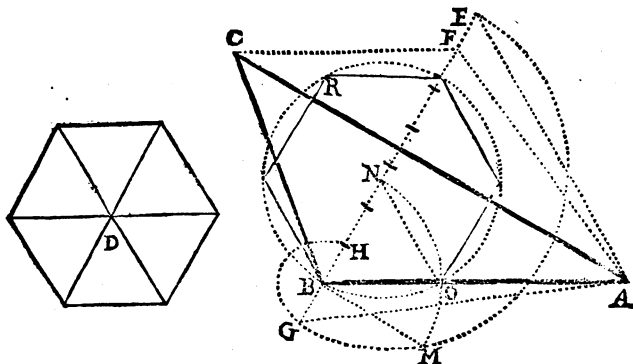
Coupez BG égale à la sixième BH.

Cherchez BM moyenne proportionnelle entre BE & BG (prop. 51 du 3.)

Du point B, décrivez l'arc MN, & du point N, le cercle BOR, l'exagone décrit dans ce cercle sera égal au triangle proposé.

Les lignes BE, BM, BG sont proportionnelles; les triangles BEA, BGA fait sur les extrêmes BE, BG sont de même hauteur AN; le triangle BON fait sur BN, égale à la moyenne BM, est semblable au triangle BAE: D'où il est

Egal au triangle BAG : Le triangle BGA vaut une sixième partie du triangle ABF , & le triangle BON est une sixième partie de l'exagone BOR ; Donc l'exagone BOR est égal au triangle ABF , & par conséquent au triangle proposé ABC .



PROP. XXXIX.

Décrire un pentagone regulier, égal à l'irregulier ABD .

Reduisez le Pentagone irregulier en triangle BCF (*prop. 18 ou 19.*)

Faites comme il vous plaira le Pentagone regulier G .

Faites le triangle BFH , équiangle au triangle G (*prop. 27 du 3,*) en sorte que l'angle H , soit l'angle du centre comme est l'angle G .

Prolongez HB vers I , & menez CK parallele à BF . La ligne FK estant tirée, BFK fera égal au triangle BFC (*par la 42 du 2.*)

Divisez BK en cinq parties égales, c'est à dire, en autant de parties qu'un Pentagone a de côtes.

Tirez BM , moyenne proportionnelle entre BH & la cinquième partie BL (*prop. 51 du 3.*)

Menez BP , parallele à FH , l'angle OBP sera égal à l'angle du centre H ou G son égal. (*par la 15 du 2.*)

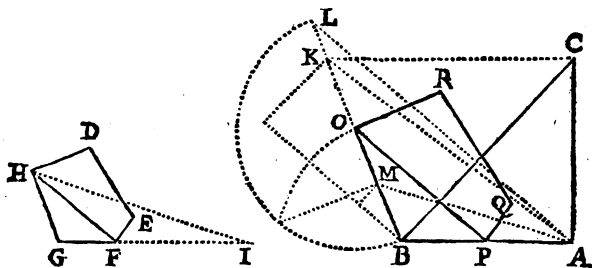
Réduisez le plan GD, en triangle GHI (*par la 18 ou 19.*)

Coupez la ligne BK en M , comme GI l'est en F (*par la 48 du 3.*)

Coupez BO moyenne proportionnelle entre BL & BM (*par la 52 du 3.*)

Tirez OP parallèle à AL, le triangle OBP sera semblable au triangle ABL, (*par la 57 du 2,*) & par conséquent au triangle GHF.

Faites sur OP, le quadrilatere OPQR semblable au quadrilatere HFDE (*par la 29 du 3.*) Il est évident que le plan BR sera semblable au proposé GD (*par la 68 du 2 ;*) mais qu'il soit égal au triangle ABC, c'est ce qu'il faut démontrer.



La ligne BO est coupée moyenne proportionnelle entre les extrêmes BL, BM ; les triangles ABM, ABL, faits sur les extrêmes BL, BM, sont de même hauteur BA ; le triangle BOP fait sur la moyenne BO, est semblable au triangle ABL ; Donc il est égal au triangle ABM (*par la 67 du 2.*)

Le triangle ABK (*suyvant la 47 du 2*) est au triangle ABM ou son égal BOP, comme le triangle GHI est au triangle FGH, puisque BK a été coupée en M, comme GI, l'est en F.

Le triangle GHF est au plan GD, comme le triangle BOP au plan BR (*suyvant la 70 du 2 ;*) car les plans GD, BR sont semblables : le triangle GHI a été fait égal au plan GD, Donc le triangle ABK ou ABC son égal, est égal au plan BPQRO.

PROP. XLI.

Décrire une figure semblable à la figure HK, qui contienne autant d'aire que la figure CE.

Reduissez la figure CE, en triangle DLM (par la 15.)

Reduissez aussi la figure HK, en triangle IOS.

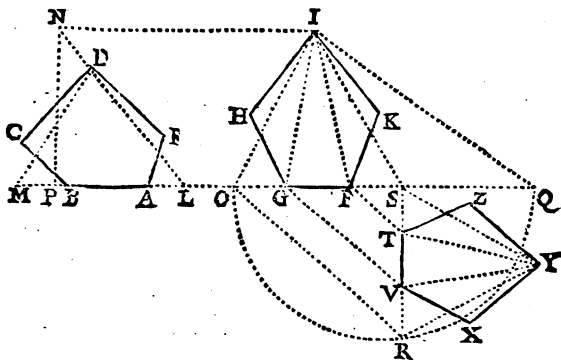
Du triangle DLM, faites le triangle NLP de la hauteur du triangle IOS (par la 8.)

Prolongez OS vers Q, & coupez SQ, égale à PL base du triangle NPL.

Tirez SR moyenne proportionnelle entre les bases QS, SO (par la 51 du 3.)

Menez OR & ses parallèles FT, GV. La base SR sera divisée en T, V; comme SO, l'est en F, G (par la 51 du 2.)

Faites le triangle SRY semblable au triangle OSI, & la figure demandée ZX semblable à la figure HK (par la 29 du 3.)



Les lignes OS, SR, SQ, sont proportionnelles; ainsi le triangle SRY qui est fait semblable à IOS, est égal à ISQ (par la 67 du 2.)


Le triangle SRY & le Pentagone XZ, pris ensemble sont faits

faits semblables au triangle IOS & au Pentagone HK aussi pris ensemble comme ne faisant qu'une même figure ; & (par la 70 du 2) le Pentagone XZ est au triangle SRT , comme le Pentagone HK est au triangle OSI : le Pentagone HK est égal au triangle IOS : donc le Pentagone XZ est aussi égal au triangle SRT , & par conséquent au triangle IQS , lequel étant fait égal au plan CE , le plan CE & le Pentagone XZ sont égaux.

PROP. XLII:

Décrire un triangle égal au cercle ABD .

Tirez le rayon CE , & la tangente EF , égale à la circonférence du cercle (par la 60 du 3.)



L'expérience nous apprend qu'on ne sauroit tirer une ligne tangente, qu'elle ne paroisse à la venè couler l'espace de quelques degrez dans la circonférence du cercle. Nous pouvons donc bien prendre sans aucune erreur sensible, des petites parties de circonférence pour des lignes droites. Cela supposé, venons à nostre preuve.

La tangente EF , est coupée d'autant de petites parties égales, qu'il s'en est trouvé à la première petite ouverture de compas dans la circonférence du cercle (suivant la 60 du 3.) Ainsi si on faisoit sur chacune de ces petites parties égales, tant de la tangente que de la circonférence, des triangles qui eussent leurs sommets au centre C , ils seroient tous égaux (par la 43 du 2.) & si, par exemple le cercle contenoit 400 de ces petits triangles, le triangle CEF en contiendrait autant. Donc (suivant la 75 du 1) le triangle est égal au cercle.

PROP. XLIII.

Autre maniere de décrire un triangle égal à un cercle.

Inscrivez le triangle équilatéral ABC , & l'Eneagone régulier AED .

Prolongez les côtez BC , DE , de part & d'autre.

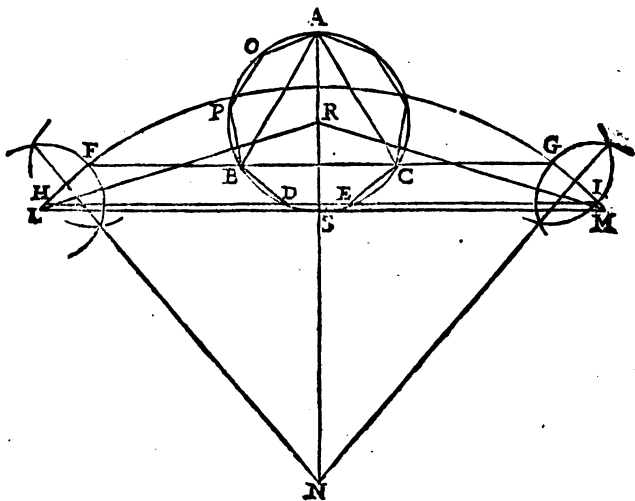
Coupez BF égale à BA , & CG égal à CA .

Coupez aussi DH égale aux quatre côtez DB POA , & EI égale à DH , afin que HI soit égale aux 9 côtez de l'eneagone, comme FG l'est aux trois côtez du triangle équilatéral.

Tirez le diametre AS , & le continuez vers N .

Décrivez un arc par les points HF, GI (*prop. 33 du 3.*)

Menez la parallèle ou tangente LSM , elle fera gale à la circonférence du cercle ABC .



Si vous prenez une petite partie (suivant la 60 du 3.) elle se trouvera autant de fois dans la circonférence du cercle que dans la tangente LM .

Menez du centre R ; les lignes RL , RM , & le triangle LMR sera le demandé (suivant la précédente.)

PROP. XLIV.

Réduire en cercle le triangle ABC .

Coupez la base AB en deux également au point D .

Elevez la perpendiculaire DE .

Menez CF parallèle à la base AB .

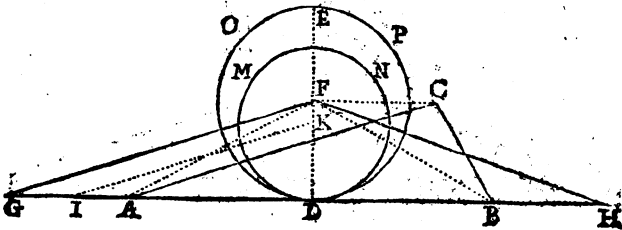
Du point F , décrivez le cercle DOP .

Réduisez ce cercle en triangle FGH (par la précédente.)

Coupez DI moyenne proportionnelle entre DA , & DG (par la 52 du 3.)

Menez IK parallèle à GF .

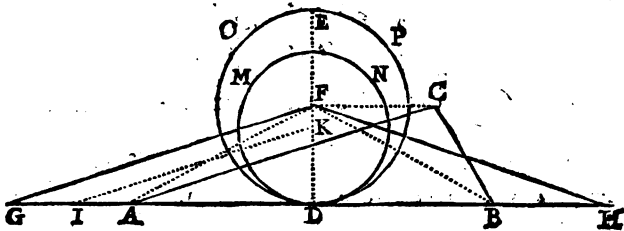
Du point K décrivez le cercle DMN , il sera égal au triangle ABC . Tirez AF , BF .



Les triangles DGF , DIK , sont semblables (par la 57 du 2;) ainsi ils sont en raison doublée de leurs côtes ou perpendiculaires DF , DK (par la 66 du 2.) Les cercles DOP , DMN , sont aussi en raison doublée des mêmes perpendiculaires, lesquelles sont leurs rayons ou demi diamètres. Donc comme le triangle DFG , est au triangle DIK , le cercle DOP est au

Hij

cercle DMN ; & par échange, comme le triangle DFG est au cercle DOP , le triangle DIK est au cercle DMN ; le cercle DOP est double du triangle DFG ; donc le cercle DMN est aussi double du triangle DKI , lequel est fait égal au triangle ADF (suivant la 33.) Le triangle ABF est double du triangle AFD , donc le cercle DMN est égal au triangle ABF & par conséquent au donné ABC , ces triangles ABF, ABC , étant égaux (par la 42 du 2.)



PROP. XLV.

Décrire sur la ligne droite GF , une ovale égale au cercle ABC .

Que le centre du cercle proposé soit dans le milieu de la ligne GF .

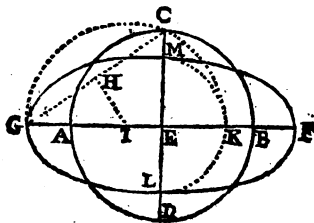
De ce point E , élevez la perpendiculaire EC .

Tirez CG & la coupez en deux également en H ;

Tirez sur CG , la perpendiculaire HI .

Du point I , décrivez le demicercle MKL .

Les droites GF, LM , seront les deux diamètres sur lesquels vous ferez l'ovale demandée (par la 56 du 3:)



Les demidiаметres GE , EC , EM ou son égale EK sont proportionnels (suivant la 51 du 3 ;) ainsi les diametres GF , GD , LM , le sont aussi.

Or si on suppose comme il est évident, qu'il y a même raison du cercle CD , à l'ovale ; qu'il y auroit d'un quarré fait sur le diametre de ce cercle CD , au rectangle compris sous le grand & petit diametre de l'ovale ; on doit conclure que le cercle CD est égal à l'ovale ; de même que le quarré seroit égal au rectangle. (suivant la 64 du 2.)

PROP. XLVI.

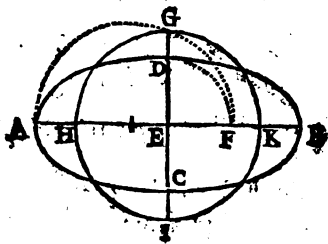
Décrive un cercle égal à l'Ovale $ABCD$.

Tirez les diametres AB , CD , se coupant à angles droits en E (par la 57 du 3)

Coupez EG moyenne proportionnelle entre les diametres AE , & DE ou EF son égale (par la 51 du 3.)

Du centre E , décrivez le cercle demandé $GHIK$.

La demonstration est l'inverse de la precedente.





CHAPITRE CINQUIÈME.

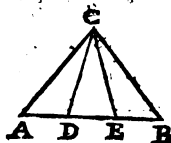
Division des Plans.

PROPOSITION I.

Partager le triangle ABC en trois parties égales, par des lignes tirées de l'angle C.

Divisez la base AB en trois parties égales ADEB.

Menez les lignes CD, CE, elles feront le partage demandé (suivant la 43 du 2.)

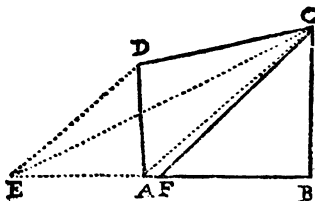


PROP. II.

Partager le quadrilatere BD en deux également, par une ligne tirée de l'angle C.

Redivisez le quadrilatere en triangle BCE (par la 7 du 4.)

Divisez la base BE en deux au point F, & la ligne CF fera le partage demandé.



Le triangle BCE est fait égal au quadrilatere proposé; BCF est moitié du triangle BCE, donc il est moitié du quadrilatere BD.

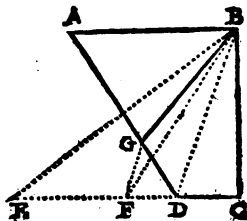
PROP. III.

Partager le quadrilatere AC en deux, par une ligne menée de l'angle B.

Reduisiez le quadrilatere en triangle BCE.

Coupez ce triangle BCE en deux également par la ligne BF.

Menez BD, sa parallele FG & la ligne BG, qui fera le partage du quadrilatere.



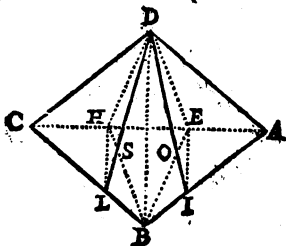
Donnant le triangle BDG, pour son égal BDF, le quadrilatere GBCD est égal au triangle BCF.

PROP. IV.

Diviser le quadrilatere AC en trois également, par des lignes menées de l'angle D.

Tirez AC & la divisez en trois parties égales AEHC; c'est à dire, divisez cette ligne en autant de parties qu'il faut partager le quadrilatere.

Menez BD, ses paralleles EI, HL, & les lignes DI, DL qui feront le partage demandé.



Les lignes DE, DH; BE, BH; divisent les triangles ACD, ACB, chacun en trois triangles égaux (par la 43 du 2,) & (par la 4 du 2) les quadrilateres ABED, EDHB, HDCB, sont égaux; & valent chacun un tiers du quadrilatere ABCD.

La ligne EI a été menée parallele à BD, ainsi les triangles EID, EIB qui ont une même base EI sont égaux; desquels le commun EIO estant ôté, reste DEO égal à BIO;

H iij

no TRAITÉ DE GEOMETRIE.

donnant l'un pour l'autre, AID est égal au quadrilatère $ABED$.

De même, mettant le triangle DHS pour son égal BLS , le triangle CDE , est égal au quadrilatère $BCDH$.

Enfin puisque le triangle BLS , est égal au triangle DHS ; & le triangle BIO , au triangle DEO ; le quadrilatère $BIDL$ est aussi égal au quadrilatère $EDHB$.

PROP. V.

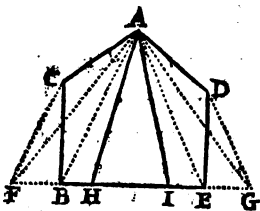
Conduire de l'angle A , des lignes qui partagent le Pentagone CD en trois parties égales.

R Eduifez le Pentagone en triangle AFG (par la 15 du 4.)

Divisez la base FG en trois parties égales $FHIG$.

Menez de l'angle A , les lignes demandées AH ,

AI .



Le triangle AFG est fait égal au Pentagone CD ; & les lignes AH , AI , le partagent en trois triangles égaux: Donc le triangle commun AIH est le tiers du Pentagone CD , comme il est le tiers du triangle AFG .

Les triangles ABC , ABF , sont égaux (par la 42 du 2.) & leur ajoutant le commun ABH , le quadrilatère $ACBH$ est égal au triangle AFH .

Par la même raison le quadrilatère $AIED$, est égal au triangle AIG .

PROP. VI.

Diviser le Pentagone BM en quatre parties égales, par des lignes tirées du point A .

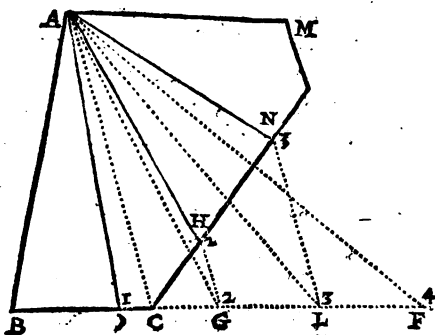
R Eduifez le Pentagone donné en triangle ABF (par la 19 du 4.)

Divisez la base BF , en quatre parties égales

1, 2, 3, 4.

Menez AC, & ses paralleles 22, 33.

Des points 1, 2, 3, qui se rencontrent dans les côtes de la figure, tirez des lignes à l'angle A, elles feront le partage demandé.



1. Le triangle ABO étant une quatrième partie du triangle ABF qui est fait égal au Pentagone BM , il est aussi une quatrième partie du même Pentagone.

2. Supposé la ligne AG , les triangles ACH , ACG , sont égaux (par la 42 du 2 ;) & le triangle commun ABC leur étant ajouté, le quadrilatere $ABCH$ est égal au triangle ABG ; Donc le quadrilatere $ABCH$, contient la moitié du Pentagone BM , comme le triangle ABG contient la moitié du triangle ABF .

Enfin les triangles AGL , AGN , sont égaux, le triangle ABC leur est commun, Donc le quadrilatere $ABCN$, est égal au triangle ABL : ce triangle contient trois quarts du triangle ABF , Donc le quadrilatere $ABCN$, contient trois quarts du Pentagone proposé.

PROP. VII.

Diviser le Plan BC en six parties égales, par des lignes menées à l'angle A .

R Eduifez ce plan en triangle ABI (par la 19 du 4.)

Divisez la base BI en six parties égales, 1, 2, 3, 4, 5, 6.

Continuez GH vers N, GF vers O, FE vers P.

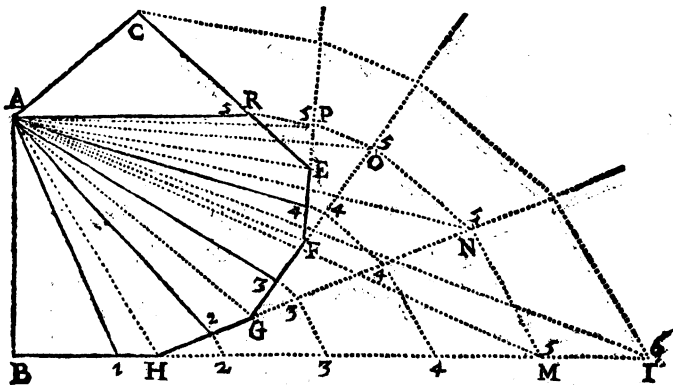
Menez AH & ses parallèles 22, 33, 44, 55.

Tirez AG, & ses parallèles 33, 44, 55.

Menez AF, & ses parallèles 44, 55.

Menez aussi AE, & sa parallèle 55.

Si des points 1, 2, 3, 4, 5, qui se rencontrent dans les côtes du plan, vous menez des lignes au point A, elles feront la division requise.



Supposé les lignes AM, AN, AO, AP. Les lignes AH, MN étant parallèles, le triangle AHN est égal à AHM (par la 42 du 2.)

Par la même raison AGO, est égal à AGN; APP, l'est à APO; & AER à AEP: ainsi la ligne AR coupe du plan proposé, la partie ABHGFER, égale au triangle ABM.

Le triangle ABI est fait égal au plan proposé; donc le triangle ARC est égal au triangle AIM (par la 5 du 2.)

Le triangle AIM est la sixième partie du triangle ABI, Donc ARC est la sixième partie du plan proposé.

Les autres divisions se prouveront de même, ou par la précédente.

CHAPITRE V.

PROP. VIII.

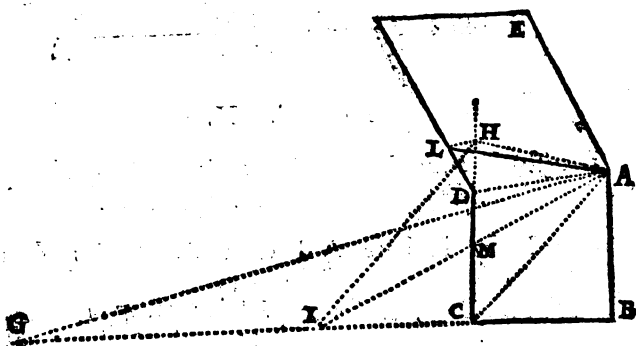
Tirez de l'angle A, une ligne qui partage le plan BCE en deux également.

R Eduisez le plan CBE en triangle ABG.
Coupez BG en deux parties égales au point I: Le triangle ABI vaudra la moitié du plan proposé.

Prolongez CD vers H.

Menez AC, la parallèle IH, la ligne AH & donnez le triangle ACH pour son égal ACI.

Tirez AD, la parallèle HL, & le triangle ADL étant mis pour son égal ADH, la ligne AL fera le partage demandé.



PROP. IX.

Diviser le Plan BE, en deux également par une ligne menée de l'angle A.

R Eduisez ce plan en triangle AEF (par la 24 du 4.)

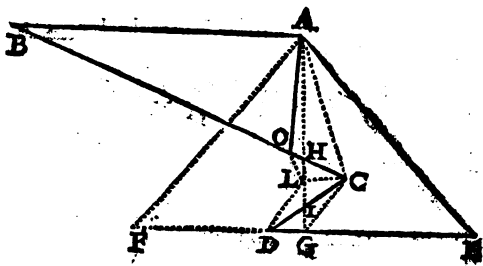
Coupez la base EF en deux au point G, & menez AG.

124. TRAITÉ DE GEOMETRIE.

Si le triangle AGE estoit entierement dans le plan proposé BE , le partage seroit fait ; mais la partie CIH en estant dehors, il faut la faire rentrer comme s'ensuit.

Menez CG , la parallele DL , la ligne LC ; puis donnez le triangle IDG , pour son égal ICL .

Tirez encore AC , la parallele LO , puis donnez le triangle AOH pour son égal CHL , & la ligne AO fera le partage demandé.



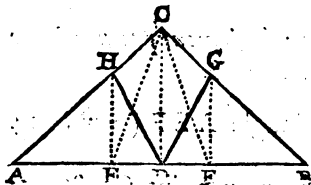
PROP. X.

Diviser le triangle ABC en trois parties égales, par des lignes conduites au point D .

Divisez la base AB en trois parties égales AFE .

Menez CD , & ses paralleles EG , FH .

Tirez les lignes DG , DH , elles feront le partage du triangle.



Supposé les lignes CE , CF , elles divisent le triangle ABC en trois triangles égaux.

Mettez le triangle EGD pour son égal EGC ; BDG sera égal au triangle BCE .

Par la même raison

ADH , sera égal au triangle ACF , & $DGCH$, à CEE .

PROP. XI.

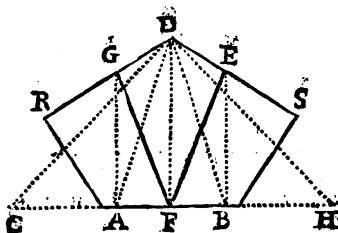
Diviser le Pentagone RS en trois parties égales, par des lignes tirées du point F.

R Eduifez ce Pentagone en triangle DCH (par la 15 du 4.)

Coupez CH en trois parties égales CABH.

Menez DF, & ses paralleles AG, BE.

Tirez les lignes FG, FE, elles feront le partage du Pentagone (suivant la precedente.)



PROP. XII,

Tirer du point G, une ligne qui divise le plan ACF en deux également.

R Eduifez le plan proposé en triangle BCH (par la 25 du 4.)

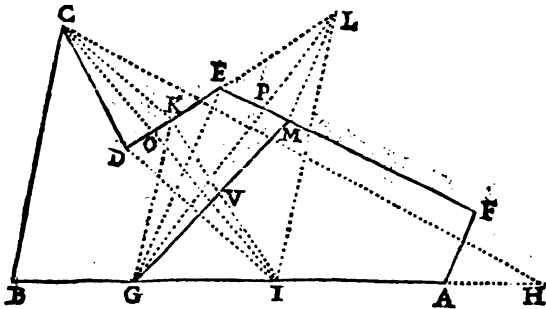
Divifez la base BH en deux au point I, & le triangle BCI sera moitié du triangle BCH.

Menez DI, la parallele CK & la ligne IK, qui divisera le plan AC en deux également: car mettant le triangle DIK pour son égal DIC, la par-

tie IKDCBI sera égale au triangle BCI.

Tirez GK, sa parallèle IL & la ligne GL; puis donnez le triangle GKL pour son égal GKI.

Tirez GE, sa parallèle LM, & la ligne GM; qui fera le partage demandé, en donnant le triangle GEM pour son égal GEL.



PROP. XIII.

Partager le Pentagone ABO en trois parties égales par des lignes tirées du point F, en sorte que la ligne AF, fasse une des divisions.

Reduisez le Pentagone en triangle FGH (par la 21 du 4.)

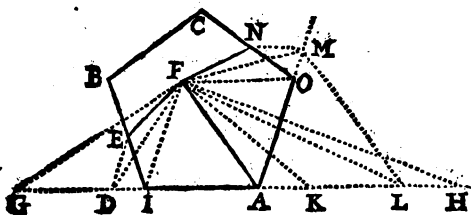
Coupez AD, égale à HK tierce partie de la base GH; & le triangle ADF, vaudra un tiers du triangle FGH.

Menez FI, sa parallèle DE, la ligne EF; & le triangle FIE étant mis pour son égal FID, le quadrilatere AFEI, sera un tiers du Pentagone.

Coupez AL égale à AD, & le triangle ALF sera égal au triangle ADF, tiers du triangle FGH.

Continuez AO vers M: menez LM parallèle à AF: & supposé la ligne FM, le triangle AFM sera égal au triangle AFL.

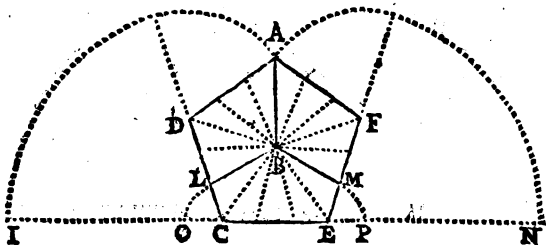
Tirez FO, la parallèle MN, la ligne FN, & donnant le triangle FON, pour FOM son égal; le quadrilatere AFNO, sera égal au triangle AFL.



PROP. XIV.

Partager en trois parties égales le Pentagone régulier ACE, par des lignes tirées du centre B.

Divisez le contour du Pentagone en trois parties égales aux points A, L, M, (par la 59 du 3.)
De ces points A, L, M, menez des lignes au centre B, elles feront le partage demandé.



Que chaque côté du Pentagone soit divisé en trois parties égales; & que de chacune de ces parties on mène des lignes au centre B: le Poligone sera divisé en 15 petits triangles, qui estans tous de même hauteur seront égaux. Or il est évident que les lignes BA, BL, BM, comprennent entr'elles, trois parties qui renfermeront chacune cinq de ces petits triangles; Donc ces trois parties sont égales (suivant la 75 du 1.)

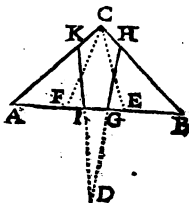
PROP. XV.

Diviser le triangle ABC en trois parties égales, par des lignes menées au point D, pris hors le triangle.

Divisez le triangle proposé en trois parties égales par les lignes CE, CF, (suivant la 1.)

Dirigez CE, côté du triangle BCE vers D, (par la 36 du 4,) & vous aurez le triangle BGH pour le triangle BCE.

Dirigez de même CF, côté du triangle ACF, vers le point D, & vous aurez AIK pour ACF; & GIKCH, pour GEF.



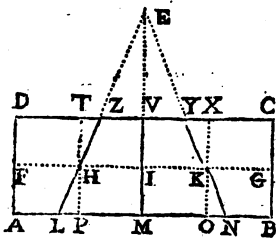
PROP. XVI.

Diviser le Parallelogramme BD en quatre parties égales, par des lignes conduites au point E.

Coupez les côtez AD, BC, chacun en deux également aux points F, G.

Menez FG, & la coupez en quatre parties égales FHIK.

Tirez les lignes EKN, EIM, EHL; elles feront la division du parallelogramme.



Supposé les lignes TP, VM, XO, parallèles à AD; elles divisent le parallelogramme BD en quatre autres parallelogrammes égaux BX, OV, MT, PD (par la 41 du 2,) & mettant le triangle KXY pour K, NO qui luy est égal (par la 59 du 2,) le quadrilatere BCYN est égal au parallelogramme BCXO.

Par la même raison le quadrilatere MNIV est égal au parallelogramme MOXY, & ainsi des autres.

PROP.

PROP. XVII.

Mener du point F, des lignes qui partagent le Pentagone ABD en trois parties égales.

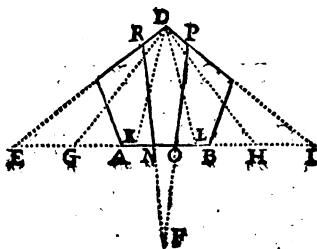
Reduissez le Pentagone en triangle DGH (par la 15 du 4.)

Divisez la base GH en trois aux points K, L, & menez DL, DK, lesquelles diviseront le Pentagone en trois parties égales (suivant la 5.)

Continuez les côtez AB, DC en I.

Dirigez DL côté du triangle DLI vers le point F (par la 36 du 4,) c'est à dire, faites du triangle DLI, le triangle POI ayant le côté PO, dirigé vers F.

Faites de même le triangle ANR, égal au triangle DEK.



PROP. XVIII.

Partager en trois également le triangle ABC, par des lignes tirées aux points D, E, pris dans la base AB qui en est coupée en trois parties inégales.

Divisez AB en trois parties égales aux points N, O, & les lignes CO, CN, diviseront le triangle ABC en trois triangles égaux CBN, CNO, COA.

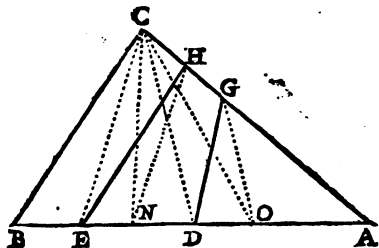
I

Tirez CD , sa parallèle OG , & la ligne DG .

Mettez le triangle GOD pour son égal GOC , & ADG sera égal au triangle ACO .

Menez CE , sa parallèle NH , & la ligne EH .

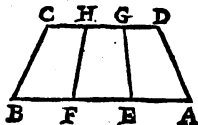
Mettez le triangle NHE pour son égal NHC ; le triangle AEH , sera égal aux deux triangles AOC , ONC , c'est à dire au seul ANC : & le quadrilatere $BCHE$ le fera au troisième triangle BCN (suivant la 5 du 2.)



PROP. XIX.

Le trapeze AC ayant les côtes oppozes AB , CD paralleles, est donné pour estre partagé en trois également par les points E , F , qui divisent la base AB en trois parties égales.

Divisez CD comme AB , c'est à dire en trois parties égales, puis menez les lignes FH , EG , qui feront le partage demandé (par la 49 du 2.)



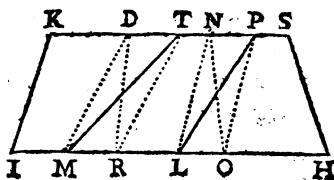
PROP. XX.

Le trapeze HK , a les costez IH , KS , paralleles; & on veut le partager en trois parties égales par les points L , M , qui divisent inégalement la base HI .

Coupez les côtez paralleles HI , KS , chacun en trois également aux points D , N ; R O ; & les lignes DR , NO , diviseront le trapeze proposé en trois quadrilateres égaux $IKDR$, $RDNO$, $ONSH$ (par la precedente.)

Menez DM , sa parallele RT , & donnant le triangle DMT pour son égal DMR , la ligne MT coupera le quadrilatere $IMTK$ égal au quadrilatere $IRDK$.

Menez LN , sa parallele OP , la ligne LP , qui coupera le quadrilatere $ILPK$, égal au quadrilatere $IONK$: & $LPSH$ restera égal au quadrilatere $ONSH$ (suivant la 5 du 2.)



PROP. XXI.

Des points D & C , pris comme on vaudra dans la base AI , partager le quadrilatere AB en trois parties égales.

Reduissez le quadrilatere proposé en triangle AEF (par la 7 du 4.)

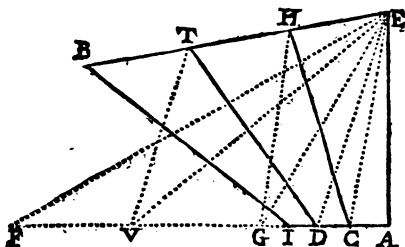
I ij

Coupez la base AF en trois parties égales F V G A : les lignes EG, EV diviseront le triangle AEF en trois triangles égaux.

Menez CE, sa parallèle GH, la ligne CH; & le triangle CEH étant mis pour son égal CEG, le quadrilatere ACHE sera égal au triangle AGE.

Tirez DE, sa parallèle VT, la ligne DT.

Donnez le triangle DET pour son égal DEV, le quadrilatere ADTE, sera égal au triangle AEV : Et le quadrilatere DIBT, le fera au triangle EFV (par la 5 du 2.)



PROP. XXII.

Diviser du point D, le plan BV en deux parties qui soient entr'elles comme les deux parties de la ligne RS.

Reduiséz le plan BV, en triangle BCK (par la 19 du 4.)

Coupez BK en M, comme RS est coupée en E (par la 48 du 3.)

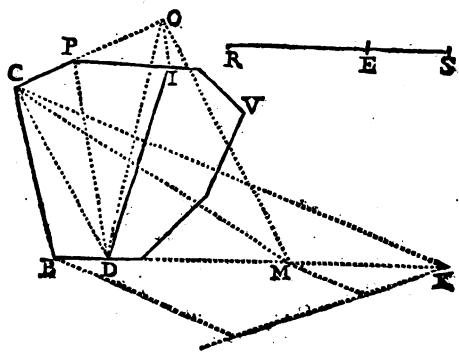
Tirez CM, & les triangles BCM, MCK, seront entr'eux comme leurs bases; c'est à dire comme les parties de la ligne RS. (suivant la 74 du 2.)

Continuez le côté CP, vers O.

Menez CD, sa parallèle MO, la ligne DO,

CHAPITRE V.

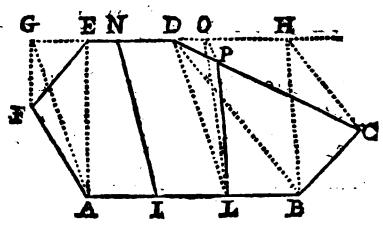
& mettez le triangle EDO pour son égal CDM .
 Menez DP , la parallèle OI , & la ligne DI qui
 fera le partage demandé : car le triangle DPI étant
 donné pour son égal DPO , la partie BI sera éga-
 le au triangle BCM ; & la partie DV le fera au
 triangle MCK (par la 5. du 2.)



PROP. XXIII.

*Partager le plan CF, en trois parties égales sur les
 trois parties égales AILB.*

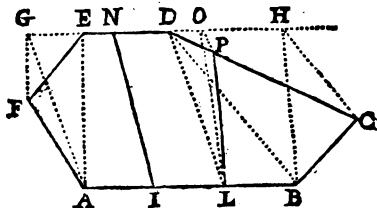
Prolongez de part & d'autre le côté DE , qui
 est parallèle à la base AB .
 Réduisez le plan CF en quadrilatere $GABH$.
 Divisez GH , en trois parties égales $GNOH$.



I iij

Menez des lignes IN , LO , qui diviseront le quadrilatere $ABGH$ en trois quadrilateres égaux, $GAIN$, $NILO$, $OLBH$ (suivant la 49 du 2.)

Menez DL , sa parallele OP , & les lignes IN , LP , feront le partage demandé.



Le trapeze $EAIN$ étant commun aux deux triangles égaux AEG , AEF ; la premiere partie $AINEF$, est égale au quadrilatere $AING$.

De même. Le trapeze $ILDN$ étant joint aux deux triangles égaux LDP , LDO ; la seconde partie $ILPDN$ est égale au quadrilatere $ILON$. & (par la 5 du 2.) la troisième partie $LBCP$, est égale au quadrilatere $LBHO$.

PROP. XXIV.

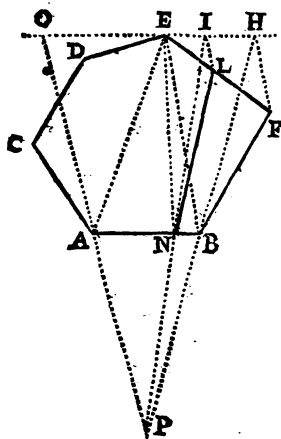
Partager le plan CF , en deux parties qui soient entr'elles comme les parties AN , NB , de la base AB .

Menez par le point E , la ligne OH , parallele à AB .

Réduisez le plan proposé CF en trapeze $ABHO$. Prolongez HB , OA , jusqu'à leur rencontre en P .

Du point P , menez PNI , qui divisera OH en I , comme AB l'est en N , (suivant la 46 du 3.) & les quadrilateres $ANIO$, $BNIH$, seront entre eux comme leurs bases AN , BN , (suivant la 49 du 2.)

Tirez EN, sa parallèle IL puis LN, qui fera le partage demandé.



Si on ajoute aux triangles égaux BEH, BEF, le commun BEN; les quadrilateres BNEH, BNEF, seront égaux: desquels ôtant les triangles égaux ENI, ENL, sçavoir ENI, du quadrilatere BNEH; & ENL du quadrilatere BNEF; la quadrilatere BNLF, restera égal au quadrilatere BN IH: Et le pldn proposé CF, estant égal au trapeze ABOH; sa partie NLC, restera aussi égale au quadrilatere ANIO. Donc la ligne NE partage le plan CF, comme NI partage le trapeze ABOH, sçavoir en deux parties qui sont

entr'elles, comme leurs bases AN, BN.

PROP. XXV.

Partager le triangle ABC en trois parties égales, par des lignes parallèles au côté AC.

Divisez AB, en trois parties égales AEDB, & les lignes CE, CD, diviseront le triangle ABC en trois triangles égaux.

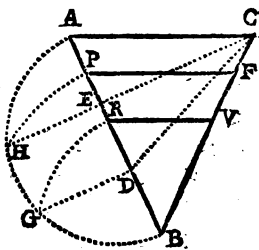
Décrivez le demicercle AGB.

Elevez les perpendiculaires EH, DG.

Du point B, décrivez les arcs HP, CR.

Menez les parallèles demandées, PF, RV.

Le triangle ABC est divisé en trois triangles égaux par les lignes CE, CD; le triangle BPF est égal à BCE; & BRV, l'est à BCD; (par la 33 de 4.)



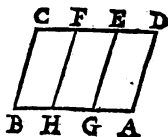
I iiij

PROP. XXVI.

Partager le parallelogramme AC en trois parties égales, par des lignes paralleles aux costez AD , BC .

Coupez les côtez CD , AB , chacun en trois parties égales aux points E , F ; G , H .

Menez les lignes EG , FH , elles feront le partage demandé (suivant la 4^e du 2.)



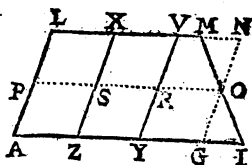
PROP. XXVII.

Diviser le trapeze regulier $AIML$, en trois parties égales par des lignes ou coupures paralleles au costé AL .

Divisez les côtez AL , IM , chacun en deux également, aux points OP .

Menez OP & la coupez en trois parties égales, P , S , R , O .

Tirez par les points S , R , les paralleles demandées XZ , VG .



Supposé la ligne NOG parallele à VI . Les parallelogrammes AX , ZV , YN , sont égaux (par la 4^e du 2.) Le triangle GIO est égal au triangle MNO (par la 39 du 2;) ainsi mettant l'un pour l'autre, le trapeze $IYVM$, est égal au parallelogramme $NVYG$.

PROP. XXVIII.

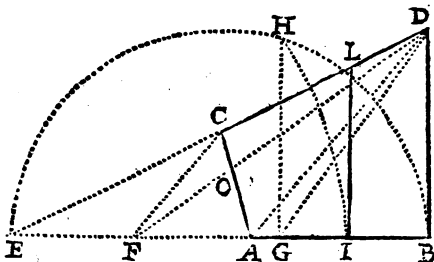
Diviser le quadrilatere $ABCD$ en deux parties égales, par une ligne parallèle au costé BD .

Continuez les côtes AB , CD , jusqu'en E . Réduisez le quadrilatere proposé en triangle BDF (par la 7 du 4.)

Coupez la base BF en deux également en G .

Coupez EI , moyenne proportionnelle entre EG , EB (par la 52 du 3.)

Menez IL parallèle à BD , elle coupera le quadrilatere proposé en deux également.



Les triangles ADF , ADC sont égaux; desquels si on retranche le commun ADO , les triangles DOC , AFO restent égaux: & joignant à ces triangles égaux le quadrilatere $CEFO$; le triangle ACE , est égal au triangle DEF (par la 4 du 2.)

Les lignes EG , EI , EB , sont proportionnelles; & les triangles EGD , EBD , sont de hauteur égale: donc le triangle IIE qui est semblable au triangle BED (suivant la 57 du 2) est égal au triangle DEG (par la 67 du 2.)

Or ôtant de ces triangles égaux EGD , EIL ; les égaux, sçavoir DEF , du triangle EGD ; & ACE du triangle EIL : reste $ACLI$, égal à DIG , moitié du triangle BDF ; lequel est fait égal au quadrilatere BC . Donc, &c.

PROP. XXIX.

Partager le quadrilatere AC en deux également, par une ligne qui soit parallele au costé BC.

R Eduifez le quadrilatere proposé en triangle ADF.

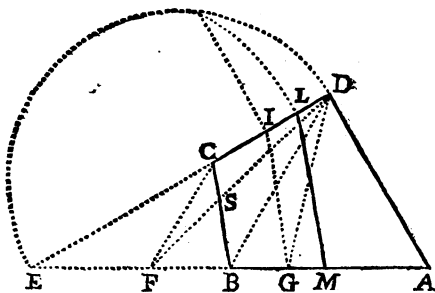
Divifez AF en deux parties égales au point G, & menez DG.

Prolongez les côtez AB, DC, en E.

Menez GI parallele à BC.

Coupez EL, moyenne proportionnelle entre EI, ED (par la 52 du 3.)

Menez la demandée LM parallele à BC.



Les triangles DEG, IEG, en égard à leurs bases DE, EI; sont de même hauteur. Le triangle ELM est semblable à GEI: donc il est égal à DEG (par la 67 du 2.)

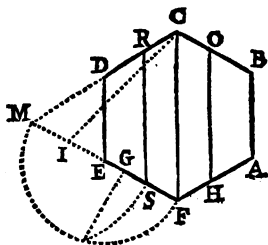
Le triangle BDF est fait égal au triangle BDC; donc \triangle SCD, BFS sont égaux: auxquels le quadrilatere CEFS estant joint, DEF est égal à BCE: Et retranchant DEF, de DEG; & BCE de ELM; reste BCLM égal au triangle DFG.

Le triangle AFD est fait égal au quadrilatere AC; DFG est moitié d'AFD: Donc BCLM qui est égal à DFG, est moitié du quadrilatere AC.

PROP. XXX.

Partager l'Exagone regulier AD en quatre parties égales par des lignes paralleles à la diagonale CF.

Divisez les trapezes ABCF, CDEF, chacun en deux parties égales (par la 28.)

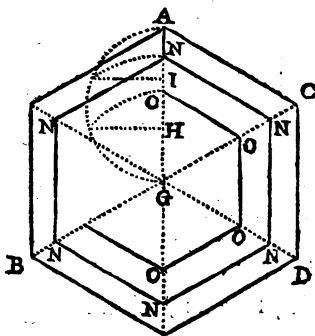


PROP. XXXI.

Partager l'Exagone ABD, en trois parties égales qui soient concentriques.

DU centre G, menez des rayons à tous les angles de l'exagone.

Coupez un de ces rayons, par exemple AG, en trois parties égales AIHG.

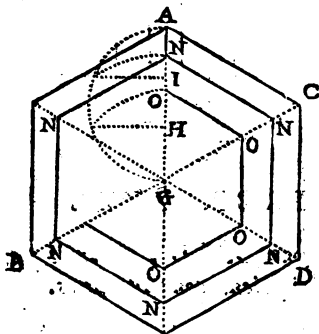


Coupez NG, moyenne proportionnelle entre GA, & GI.

Coupez aussi GO, moyenne proportionnelle entre GA & GH (par la 52 du 3.)

Menez de rayon en rayon, les paralleles NNN, OOO, qui feront le partage demandé.

Les paralleles NN, OO, divisent le triangle AGC; en trois parties égales (par la 25 :) & les autres triangles sont divisés de même (suivant la 51 du 2.) Donc (par la 4 du 2) l'Exagone est partagé en trois parties égales.



PROP. XXXII.

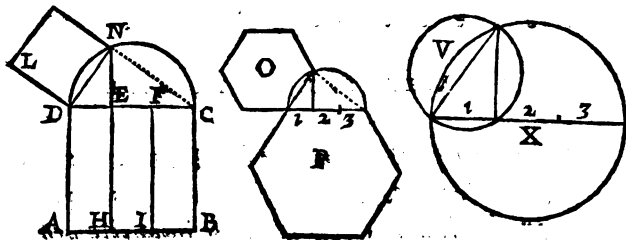
Du carré AC, en faire trois qui soient égaux entr'eux.

Divisez CD en trois parties égales DEF C.
Décrivez le demicercle DNC.

De la premiere division E, élevez la perpendiculaire EN; & le carré de DN fera égal au rectangle AE (par la 45 du 2 ;) lequel rectangle faisant un tiers du carré AC, trois carrés comme LN, seront égaux pris ensemble au même carré AC.

La même chose doit s'entendre de tous autres plans (suivant la 71 du 2 :) ainsi l'Exagone O, vaut

un tiers de l'Exagone P; & le cercle X est triple du cercle V.



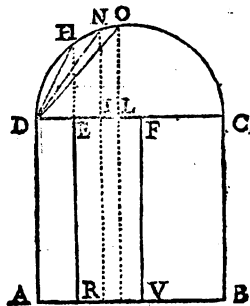
PROP. XXXIII.


Du carré AC, on faire trois autres qui soient entr'eux comme les rectangles AE, RF, VC.

D Ecrivez le demicercle D O C. Elevez la perpendiculaire E H, & D H sera le côté d'un carré égal au premier rectangle (suivant la precedente.)

Coupez D I, égale à E F; & supposé la perpendiculaire I N, la ligne D N sera le côté d'un carré égal au rectangle R F.

Coupez de même, D L égale à C F. Elevez la perpendiculaire L O, & D O sera le côté d'un carré égal au troisième rectangle C V.





CHAPITRE SIXIÈME.

Comme on peut assembler les Plans, les retrancher les uns des autres, & les aggrandir ou diminuer selon quelque quantité proposée.

PROPOSITION I.

Décrire un triangle égal aux trois plans A, B, C.

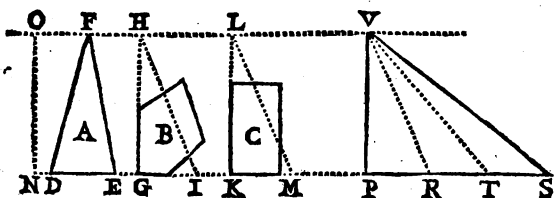
Menez FL parallèle à la ligne DM.
Faites le triangle GHI, égal au plan B (par la 23 du 4.)

Faites aussi le triangle KLM égal au plan C.

Tirez PS; & coupez PR, RT, TS, égales aux bases DE, GI, KM.

Elevez la perpendiculaire PV égale à la perpendiculaire NO.

Tirez SV, & le triangle PSV sera égal aux trois plans proposez.



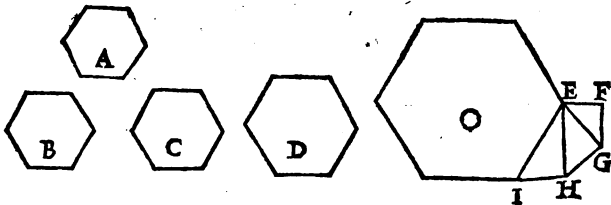
PROP. II.

Assembler plusieurs plans rectilignes & semblables A, B, C, D ; en un seul qui leur soit aussi semblable.

Tirez EF égale à la base du premier plan A. Abaissez la perpendiculaire FG égale à la base du deuxième plan B, & la ligne EG fera le côté d'un semblable plan, égal aux deux A & B, (suivant la 7^e du 2.)

Elevez sur EG, la perpendiculaire GH, égale à la base du troisième plan C, & EH, fera le côté d'un plan égal aux trois A, B, C.

Elevez enfin sur EH, la perpendiculaire HI, & EI fera le côté du Poligone ou plan demandé O.



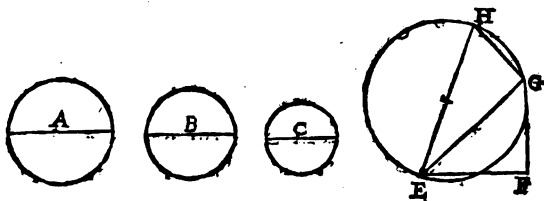
PROP. III.

Décrire un cercle égal aux trois cercles A, B, C.

Tirez la ligne EF, égale au diamètre A. Elevez la perpendiculaire FG, égale au diamètre B, puis menez EG.

Élevez GH perpendiculaire sur EG, & la cottez égale au diametre C.

Le cercle décrit sur le diametre EH fera égal aux trois proposez (suivant la precedente.)



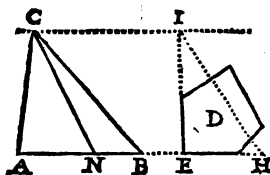
PROP. IV;

Retrancher du triangle ABC, une partie égale au Pentagone D.

Menez CI parallele à la base AH.
Réduisez le Pentagone D en triangle EHI
(par la 23 du 4.)

Coupez AN égale à la base EH & menez CN.

Le triangle ACN sera la partie retranchée égale au Pentagone D.



PROP. V.

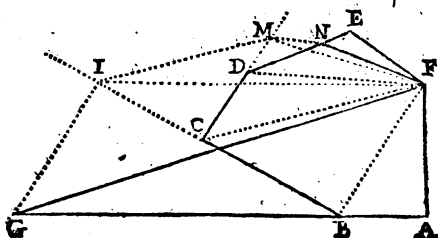
Oster du Plan AEB, une partie égale au triangle AFG.

Continuez le côté CB vers I, & CD vers M.
Menez BF, sa parallele GI, la ligne FI,
& le

& le triangle FBI sera égal au triangle FBG.

Tirez CF, la parallèle IM, la ligne FM, & le triangle FCM, sera égal au triangle FCI.

Menez enfin DF, sa parallèle MN; & mettant le triangle FDN, pour son égal FDM; la ligne FN retranchera la partie demandée AN égale au triangle AFG.

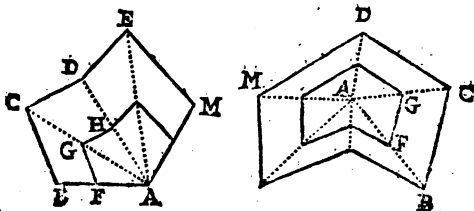


PROP. VI.

Réduire une figure en petit.

On veut décrire sur la base AF, une figure comme la proposée BM.

DU point A, tirez les rayons AE, AD, AC. Menez FG parallèle à BC; GH parallèle à CD, &c. (Voyez la 57 du 2.)

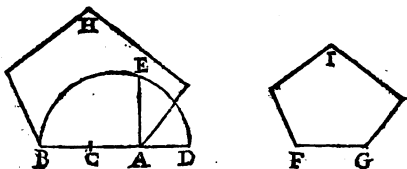


K

PROP. VIII.

*Décrire un Poligone semblable au Poligone AH;
mais plus petit de moitié, c'est à dire,
contenant la moitié moins d'aire.*

Coupez AB en deux au point C.
Continuez AB, & coupez AD égale à AC.
Elevez AE moyenne proportionnelle entre AD
& AB. (par la 51 du 3.)
Tirez la base FG égale à la moyenne AE.
Faites le Poligone demandé FGI (par la procé-
dente.)



Les Poligones H, I, étant semblables, ils sont en raison dou-
blée de leurs côtes homologues AB, FG; c'est à dire, que la
Poligone H est au Poligone I, comme la base AB à la troi-
sième proportionnelle AD (par la 69 du 2.) AB est double
de AD, donc le Poligone H est double du poligone I; ou ce
qui est même chose, le Poligone I, est moitié du Poligone H.

PROP. IX.

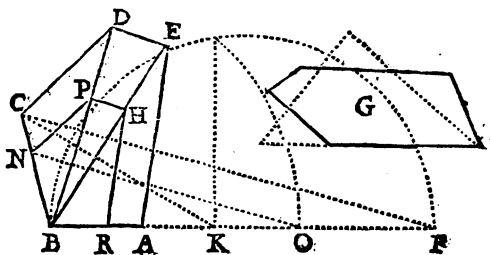
Diminuer le quarré BD de la valeur du plan E.

Reduissez le quarré proposé en triangle ACE
(par la 2 du 4.)

K ij

blée de leurs côtes homologues BN, BC ; & les Pentagones semblables RNH, ACE , sont aussi, en raison doublée des mêmes côtes BN, BC (suivant la 69 du 2.) Donc comme le triangle BCF est au triangle BNO , le Pentagone ACE est au Pentagone RNH ; & par échange, le triangle BNO est au Pentagone RNH , comme le triangle BCF est au Pentagone ACE . Le triangle BCF est fait égal au Pentagone ACE , donc le triangle BNO est égal au Pentagone RNH .

Le triangle BNO est prouvé égal au triangle BCK ; donc le pentagone RNH est égal au triangle BCK . Et puisque le triangle BCF est égal au Pentagone ACE , la différence des deux pentagones est égale au triangle KCF , lequel est fait égal au plan G .



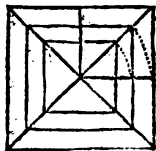
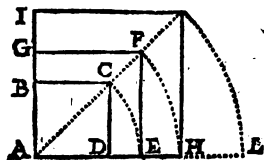
PROP. XI.

Réduire une figure en grand.

Doubler & quadrupler le carré BD .

Prolongez AD, AC, AB ; & du point A , décrivez l'arc CE .

Faites le carré EG , il sera double du carré D .



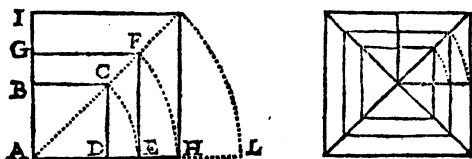
K iij

Du point A décrivez encore l'arc FH, le carré HI sera double du carré GE, & quadruple du proposé BD.

L'angle D, estant droit & les côtes AD, DC égaux; le carré de AC ou d'AE son égal, c'est à dire EG; est double du carré BD (par la 46 du 2.)

Par la même raison, le carré HI est double du carré EG, & par conséquent quadruple du carré BD.

Que si on faisoit un carré sur la base AL, il seroit double du carré HI, quadruple du carré GE, & octuple du carré BD.



PROP. XII.

Doubler, tripler & quadrupler le Plan BC.

Prolongez AB vers M, & tirez les rayons ADN, ACE.

Abaissez la perpendiculaire BR égale à AB.

Du point A, décrivez l'arc RH.

Faites sur AH, le pentagone HK, semblable au proposé (par la 6.)

Tirez RV parallèle à BG, & coupez RS égale à BH.

Du point A, décrivez l'arc SO.

Faites sur AO, le pentagone OQ, &c.

Les lignes AB, BR sont égales, & font un angle droit. Donc le pentagone fait sur AR ou AH son égal, est double du pentagone BC (suivant la 71 du 2.)

La ligne HS est égale à la base AB, & AH est la base d'un pentagone double: AS ou son égal AO est la base d'un

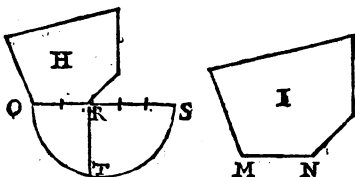
PROP. XIV.

Décrire un Poligone qui soit au Poligone H, en raison de 3 à 2.

Coupez la base OR en deux parties égales, & en donnez trois à RS.

Trouvez RT, moyenne proportionnelle entre OR, & RS.

Tirez MN égale à RT, elle sera la base du Poligone demandé (Voyez la 8.)



PROP. XV.

Décrire sur la base EF, une figure semblable à la figure AC.

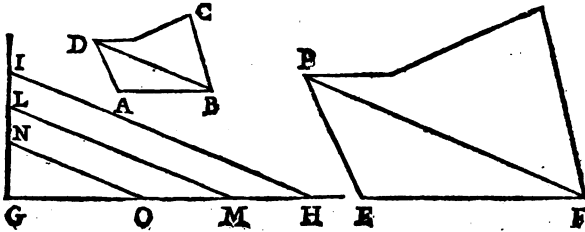
Faites comme il vous plaira l'angle IGH. Coupez GL égale à la base AB, GM égale à la base EF, puis tirez LM.

Coupez GN égale à AD, menez NO parallèle à LM, & GO sera la longueur du côté EP.

Ayant aussi coupé GI égale à BD, & mené la parallèle IH; GH sera la longueur de la sustentante FP. Ainsi du reste.

Les lignes IH, LM, NO étant parallèles; GH est coupée en O, M, comme GI est coupée en N, L; ainsi les lignes GN, GL, GI; qui sont coupées égales aux trois côtés du triangle ABD, sont entr'elles comme les lignes GO, GM,

GH ; auxquelles les côtes du triangle EFP sont coupées é-
 gaux. Donc le triangle EFP a ses côtes proportionnels à ceux
 du triangle ADB : & par conséquent les deux triangles EFP,
 ADB sont semblables.





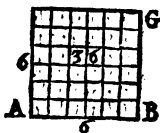
CHAPITRE SEPTIEME.

Du Toisé des Plans.

DAns ce Chapitre, l'on enseigne à mesurer les Plans ; & la mesure qu'on y employe, est la Toise.

La Toise a six pieds de Roy de longueur, le Pied de Roy 12 pouces, & le pouce 12 lignes.

Lorsque la toise est multipliée par elle même, elle produit une toise quarrée.



On voit que le quarré AG qui contient 36 petites superficies quarrées, est le produit de la ligne AB multipliée par elle-même ; ou par son égale BG ; c'est à dire 6 par 6. & que si AB estoit de 12 parties égales, le quarré AG , comprendroit 144 petits quarrés égaux qui seroient le produit de 12, multipliez par 12. Ainsi

La toise quarrée a 36 pieds quarrés ; le pied quarré 144 pouces quarrés ; & le pouce quarré, 144 lignes quarrées.

Les grands terrains se mesurent par Perches & par Arpens ; & alors cette partie de la Geometrie est appellée Arpentage.

La Perche est plus ou moins grande selon les lieux. Dans la Prevosté de Paris elle est de trois toises, & dix perches sont l'arpent.

La perche quarrée contient 9 toises quarrées, & l'arpent quarré, 100 perches quarrées.

OBSERVATIONS.

Des toises multipliées par des toises , produisent des toises quarrées.

Des pieds multipliez par des pieds , produisent des pieds quarez : & la même chose doit s'entendre des pouces & des lignes.

Des toises multipliées par des pieds , produisent des pieds courant sur toises : c'est à dire , des rectangles qui ont une toise de longueur & un pied de largeur.

Des toises multipliées par des pouces , produisent des pouces courant sur toises , c'est à dire , des rectangles d'une toise de longueur & d'un pouce de largeur. Comme des toises multipliées par des lignes produisent des rectangles d'une toise de longueur & d'une ligne de largeur.

Des pieds multipliez par des pouces , produisent des pouces sur pieds : c'est à dire , des rectangles d'un pied de longueur , & d'un pouce de largeur.

Des pieds multipliez par des lignes , produisent des lignes sur pieds , qui sont des rectangles d'un pied de longueur & d'une ligne de largeur.

Des pouces multipliez par des lignes , produisent des lignes sur pouces , qui sont des rectangles d'un pouce de longueur , & d'une ligne de largeur.

Six pieds sur toise font une toise quarrée.

Douze pouces sur toise font un pied sur toise.

Douze lignes sur toise font un pouce sur toise.

Douze pouces sur pied font un pied quarré.

Douze lignes sur pied font un pouce sur pied.

Douze lignes sur pouce font un pouce quarré.

Six pieds quarez font un pied sur toise.

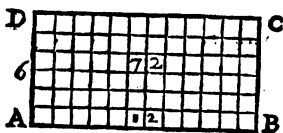
Douze pouces quarez font un pouce sur pied.

Douze lignes quarrées font une ligne sur pouce.

PROPOSITION I.

Mesurer l'aire du rectangle AC:

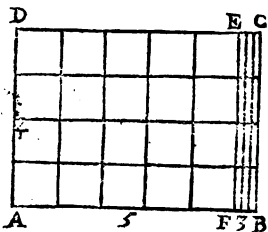
TOidez la longueur AB & la largeur AD, & supposé que l'une se trouve estre de 12 toises & l'autre de 6. Multipliez 12 par 6, le produit 72 toises quarrées, sera l'aire du rectangle.



$$\begin{array}{r} 12 \\ \times 6 \\ \hline 72 \end{array}$$

Si AB est trouvée valoir 5 toises, 3 pieds; & BC 4 toises.

Multipliez les toises par les toises, 4 par 5; puis les 4 toises par les 3 pieds: & vous aurez de produit 20 toises quarrées, & 12 pieds sur toises qui feront encore 2 toises quarrées. Ainsi le rectangle AC, sera de 22 toises quarrées.



toises.	pieds.
5	3
4	0
<hr/>	
20	12
toises quarrées.	pieds sur toises.

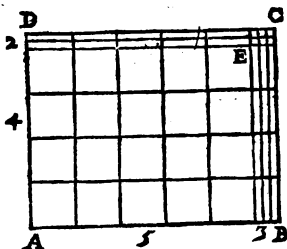
Mais si AB estoit de 5 toises, 3 pieds; & BC de 4 toises, 2 pieds: il faudroit multiplier les 5 toises par les 4, qui produiroient 20 toises quarrées.

Multiplier les 5 toises, par les 2 pieds; comme aussi les 4 toises, par les 3 pieds; qui produiroient 22 pieds sur toises.

Multiplier les pieds par les pieds, 2 par 3; qui produiroient encore 6 pieds quarréz; c'est à dire, un pied sur toise: lequel estant joint aux 22, feroit 23.

De ces 23, en tirer 18; c'est à dire, trois toises quarrées pour les joindre aux autres 20: & le rectangle AC, se trouveroit contenir 23 toises quarrées, & 5 pieds sur toises; ou 30 pieds quarréz.

La division de ces plans rectangles, sert de demonstration: par exemple on voit icy les 20 toises quarrées dans le rectangle AE: Les 22 pieds sur toises, dans les rectangles DE, BE: & les 6 pieds quarréz, dans le rectangle CE.



$$\begin{array}{r} \text{toises. } 5 \overline{) 30} \text{ pieds.} \\ \underline{4} \\ 2. \end{array}$$

$$\begin{array}{r} \text{toises} \quad 20 \text{ — } 10. \text{ pieds cou-} \\ \text{quarrées.} \quad \text{ rants sur} \\ \quad \text{ 12. toises.} \end{array}$$

$$6 \text{ pieds quarréz.}$$

$$\begin{array}{r} \text{toises} \quad 23 \text{ — } 5 \text{ pieds sur} \\ \text{quarrées.} \quad \text{ toises.} \end{array}$$

Que si enfin le rectangle AR avoit les côtez OA, AK chacun de 2 toises, 2 pieds & 3 pouces; il faudroit multiplier les deux toises AD par les deux toises AC, qui produiroient 4 toises quarrées pour le quarré AB.

Multiplier les 2 toises AD par les 2 pieds CF, de même que les 2 toises AC par les 2 pieds DH; qui produiroient 8 pieds sur toises: c'est à dire une toise quarrée & 2 pieds sur-toises, pour les deux rectangles BF, BH.

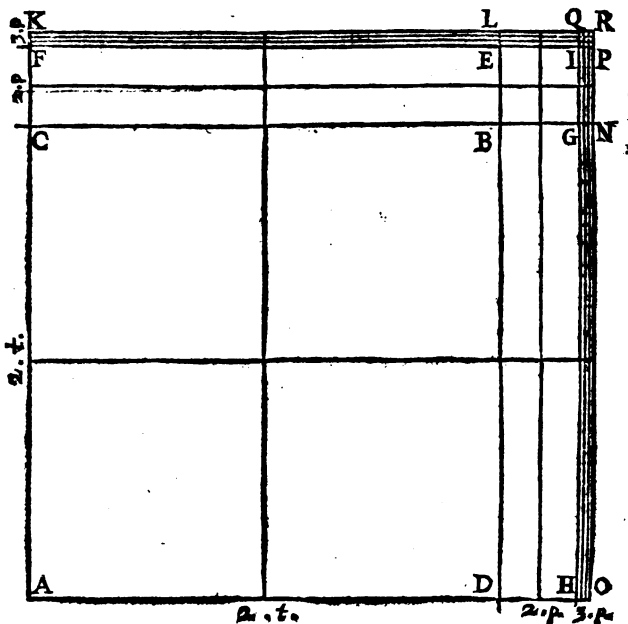
Multiplier les deux pieds DH, par les deux pieds CF; qui produiroient quatre pieds quarréz pour le contenu du rectangle EG.

Multiplier les deux toises AD, par les 3 pouces FK; de même que les deux toises AC par les 3 pouces HO, qui produiroient 12 pouces sur toises: c'est à dire, un pied sur toise, pour les deux rectangles EK, GO.

Multiplier les deux pieds DH par les 3 pouces FK, & les deux pieds CF, par les trois pouces HO; qui produiroient 12 pouces courant sur pieds: c'est à dire, un pied quarré pour le contenu des deux rectangles IL, IN.

Multiplier enfin, les 3 pouces HO, par les 3 pouces FK; qui produiroient 9 pouces quarrés pour le contenu du petit quarré IR. Et l'addition de tous ces produits estant faite, on trouveroit que le quarré AR contiendroit 5 toises, 23 pieds, & 9 pouces quarrés.

AD 2 toises, DH 2 pieds, HO 3 pouces.
AC 2 toises, CF 2 pieds, FK 3 pouces.




Pour éviter toutes ces différentes multiplications de toises par pieds, & par pouces, qui effectivement sont fort embarrassantes : on pourroit réduire les 2 toises AD & les 2 pieds DH en pouces; tout le côté AO se trouveroit avoir 171 pouces : & AK luy estant égal, il n'y auroit qu'à multiplier 171 par 171; le produit seroit 29241 pouces quarrez : desquels ayant tiré les pieds, & des pieds les toises; on trouveroit comme cy-dessus, 5 toises, 23 pieds, & 9 pouces quarrez, pour le contenu du rectangle AR.

PROP. II.

Trouver l'aire du Parallelogramme EFGH.

Multipliez la base EF, par la perpendiculaire EN; 9 par 3, & le produit 27 qui sera l'aire du parallelogramme EFLN, (*suivant la premiere*) sera aussi l'aire du parallelogramme proposé, (*suivant la 40 du 2.*)

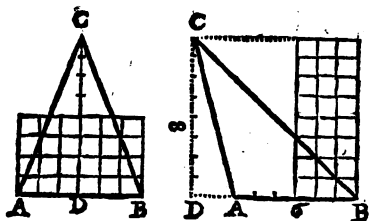


PROP. III.

Trouver l'aire du triangle ABC.

Multipliez la base AB par la moitié de la perpendiculaire CD; c'est à dire, 6 par 4: ou

la perpendiculaire par la moitié de la base, 8 par 3 ; & le produit 24 sera l'aire du triangle (*suivant la 3 & 6 du 4.*)



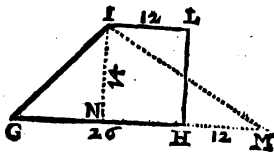
PROP. IV.

Trouver l'aire du quadrilatere GL, dont les côtez GH, IL sont paralleles.

Mesurez les côtez paralleles IL, GH, la perpendiculaire NI; & suppose qu'IL se trouve estre de 12 toises, GH de 26, NI de 14.

Joignez les 12 toises du côté IL, aux 26 de la base GH, comme si vous aviez à réduire le quadrilatere en triangle GIM; (*suivant la 2 du 4.*)

Multipliez la base GM, par la moitié de la perpendiculaire NI; c'est à dire 38 par 7; & le produit 266 toises quarrées sera l'aire du triangle IGM (*suivant la 3.*) & par consequent du quadrilatere proposé qui luy est égal.



PROP.

PROP. V.

Trouver l'aire du quadrilatere ABCD.

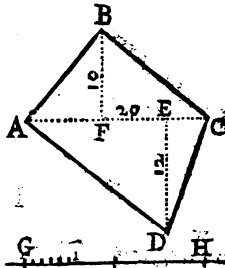
Mesurez la diagonale AC, les perpendiculaires DE, BF, & supposez que ces lignes se trouvent être, la première de 20 toises, la deuxième de 12, & la troisième de 10.

Multipliez AC par la moitié de la perpendiculaire DE, le produit 120 sera l'aire du triangle ACD.

Multipliez aussi AC par la moitié de BF, le produit cent sera l'aire du triangle ABC (suivant la 3.)

Additionnez ces deux produits, & leur somme 220 toises carrées sera l'aire du quadrilatere proposé.

On trouvera les mêmes 220 toises en multipliant la somme des deux perpendiculaires BF, DE, qui est 22, par 10, moitié de la ligne AC.



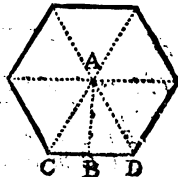
PROP. VI:

Trouver l'aire d'un Polygone regulier.

Multipliez la perpendiculaire AB par la moitié de la base CD, & vous aurez l'aire du triangle ACD.

Multipliez l'aire de ce triangle par le nombre des triangles du Polygone, & le produit sera le requis.

Autrement. Multipliez les six côtes du Polygone par la moitié de la perpendiculaire AB; ou



L

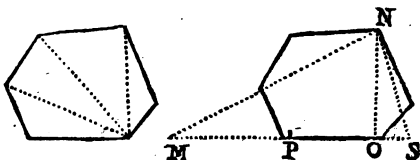
162 TRAITE' DE GEOMETRIE.
toute la perpendiculaire AB par la moitié des côtés (suivant la 17 du 4.)

PROP. VII.

Trouver l'aire d'un Poligone irregulier.

Divisez le Poligone par triangles.
Mesurez chaque triangle (par la 3,) & faites une addition du tout.

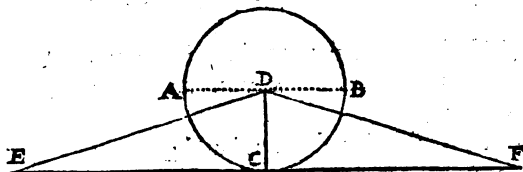
Autrement. Réduisez le Poligone en triangle NMS (par la 18 ou 19 du 4,) puis multipliez la perpendiculaire NO par PS, moitié de la base MS.



PROP. VIII.

Trouver l'aire d'un cercle.

Multipliez la demicirconference ACB, par le rayon CD; le produit sera l'aire du cercle.



Si le cercle ABC estoit réduit en triangle DEF (par la 43 du 4;) la base EF, seroit égale à la circonference du cercle; & CF moitié de EF, le seroit à la demicirconference ACB; ainsi, DC multipliée par CF donneroit le même produit qu'elle donneroit estant multipliée par la demicirconference; le pro-

duit de CD multiplié par CF seroit l'aire du triangle (suivant la 3;) Donc le produit de CD multiplié par la demicirconférence est l'aire du cercle, autrement le cercle & le triangle ne seroient pas égaux.

PROP. IX.

La valeur du diamètre d'un cercle étant donnée, trouver la valeur de la circonférence.

ON remarque que le diamètre est à la circonférence de son cercle à peu près comme 7 à 22 : Ainsi, supposé que le diamètre proposé AB soit de 28 pouces, vous trouverez la valeur de la circonférence demandée par une règle de proportion en disant :

Si 7 donnent 22, combien 28, le produit 88 sera la valeur requise.

PROP. X.

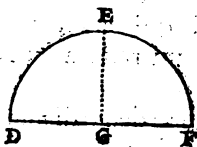
Mesurer le demicercle DEF .

Multipliez l'arc DE , moitié de la demicirconférence DEF par le rayon DG ,

PROP. XI.

Trouver l'aire du secteur POR .

Multipliez le rayon PS , par OP , moitié de l'arc POR . Ou bien multipliez tout l'arc POR par la moitié du rayon PS .



L ij

PROP. XII.

Trouver l'aire d'un grand segment de cercle ABC.

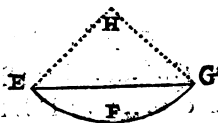
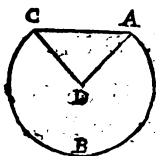
Cherchez l'aire du secteur ABCD (par la precedente,) puis l'aire du triangle ABC (par la 3.)

PROP. XIII.

Trouver l'aire du petit segment EFG.

Tirez au centre de l'arc, les rayons EH, GH. Cherchez l'aire du secteur HEFG (par la II.)

Ostez de ce secteur, l'aire du triangle EGH, & le reste fera l'aire du segment proposé.



PROP. XIV.

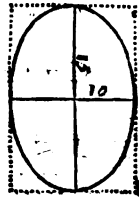
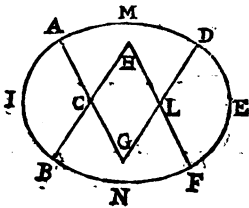
Trouver l'aire de l'ovale AF.

Mesurez les secteurs ACBI, DEFL, MBHFN, AGDM. (par la II.)

De la somme de ces quatre secteurs, retranchez l'aire du losange CGLH qui est commun aux deux grands secteurs, & ce qui restera fera l'aire de l'ovale.

Autrement. Multipliez les deux diametres l'un par l'autre, 15 par 10, le produit sera 150.

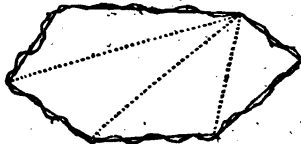
Multipliez cette somme 150 par 11, & divisez le produit 1650 par 14, le quotient 117 $\frac{6}{7}$ sera à peu près l'aire de l'ovale,



PROP. XV.

Trouver l'aire d'un terrain dont la contour est ondoyant.

IL faut rectifier les ondoyements de ce terrain par plusieurs lignes droites que l'on conduira avec cette discretion, qu'elles laissent d'un côté le plus exactement qu'il sera possible la valeur du terrain qu'elles retrancheront de l'autre, puis trouver le requis par la 7.





CHAPITRE HUITIÈME.

TRIGONOMETRIE
ou Doctrine des Triangles rectilignes
par le calcul.

Les Propositions de ce Chapitre sont de trouver par le calcul, quelque terme dans un Triangle; comme un costé ou un angle qu'on ne peut, ou du moins qu'on suppose ne pouvoir estre mesuré actuellement.

Pour trouver dans un triangle, la valeur d'un angle ou d'un costé par le calcul, il faut avoir trois autres termes connus dans le même triangle, comme

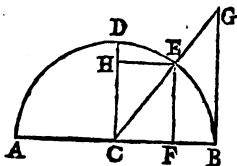
Deux costez & un angle, ou
Deux angles & un costé, ou
Trois costez.

Sçachez de plus, que les Angles n'entrent en aucun calcul analogique par le nombre de leurs degrez; mais par ces nombres ou ces lignes qu'on appelle Sinus, Tangentes & Secantes: & c'est de ces lignes qu'il faut d'abord vous donner une connoissance, par une figure Geometrique.

Soit le demicercle ABD , le rayon CD perpendiculaire sur CB , le point E pris à volonté dans la circonférence, la perpendiculaire EF , la parallele

EH, la ligne *CG* rencontrant la perpendiculaire *BG* : On appelle

La ligne { *CD* ou *CB*, Sinus total, ou Sinus de l'angle droit *BCD*.
EF Sinus droit des angles *BCE*, *ECA*.
EH, Sinus de complément. Son arc *DE* avec l'arc du Sinus droit *BE*, fait le quart de cercle.
BG, Tangente de l'angle *BCE*.
CG, Secante du même angle *BCE*.



Que si l'on suppose autant de Sinus droits *EF*, & autant de Tangentes & de Secantes qu'il y a de minutes dans le quart de cercle *BD*, il est évident que ce seront autant de lignes de différentes longueurs, qui seront d'autant plus courtes que le point *E* sera plus éloigné du Sinus total *CD*; & que faisant valoir ce Sinus total 100000, ou 10000000 de parties égales, les autres lignes seront toutes de valeur différentes, répondant aux différentes ouvertures des angles dont elles seront ou les Sinus, ou les Tangentes, ou les Secantes : & c'est de ces diverses Sinus, Tangentes & Secantes qu'on a composé des Tables, dont nous allons vous expliquer l'ordre pour venir ensuite à leur usage.

Il y a ordinairement deux Tables pour un degré, ainsi chaque Table est de 30 minutes.

Une table a six colonnes, la première contient les Minutes avec les degrés marquez au haut ou au bas.

La seconde contient les Sinus qui répondent par ordre aux minutes.

L iij

La troisième contient les Tangentes, & la quatrième les Secantes.

Les deux autres colonnes sont composées de ces Sinus & Tangentes, qu'on appelle Logarithmes.

Ces Tables qui occupent chacune une page, sont accouplées de manière que les Sinus, Tangentes & Secantes de l'une, sont les suppléments des Sinus, Tangentes & Secantes de l'autre; c'est à dire, que prenant un Sinus dans la Table de la main droite, celui qui est vis à vis dans la Table de la main gauche, est son Sinus de supplément; qu'au contraire, prenant un Sinus dans la Table de la main gauche, celui de la droite, en sera le supplément; de sorte que les angles des deux Sinus qui se regardent, valent ordinairement pris ensemble, un angle droit; & la même chose doit s'entendre des Tangentes & des Secantes.

Toutes les Tables de la main gauche vont de degrés en degrés, depuis un jusques à quarante-cinq; & celles qui sont à droite, continuent aussi de degrés en degrés, jusques à quatre-vingt-dix; mais en retrogradant de la fin du livre vers le commencement; de manière que la première & la dernière Table se trouvent à l'entrée du Livre vis à vis l'une de l'autre.

Tout cela estant expliqué il ne vous sera pas difficile de trouver dans ces Tables, le Sinus, la Tangente ou la Secante d'un angle proposé; non plus qu'à y trouver la valeur d'un angle par son Sinus, sa Tangente ou sa Secante. On demande par exemple, le Sinus de 30 degrés 15 minutes, il n'y a qu'à voir dans la Table de 30 degrés, à costé de 15 minutes se trouvera le Sinus demandé 50377. Et au contraire, parce que ce nombre 50377 se trouve dans la colonne des Sinus à costé de 15 minutes & dans la table de 30 degrés, vous concluez qu'il est le Sinus d'un an-

gle de 30 degrez 15 minutes, & ainsi des Tangentes & des Secantes.

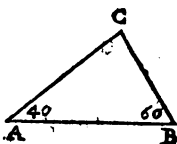
PROPOSITION I.

La valeur des deux angles *A* & *B* du triangle *ABC* estant connue, trouver la valeur du troisieme.

Que l'angle *A* soit de 40 degrez, & l'angle *B* de 60. Les deux joints ensemble feront la somme de 100.

Tous les trois angles *A*, *B*, *C*, en valent, pris ensemble, 180 (par la 29 du 2.)

Ostez 100, de 180, restera 80 degrez pour l'angle *C*.



$$\begin{array}{r|l}
 \triangle ABC & 180 \\
 AB & 100 \\
 \hline
 C & 80
 \end{array}$$

Usage des Sinus.

PROP. II.

La valeur des Angles *A* & *B*, & du costé *AC* estant connue trouver celle du costé *BC*.

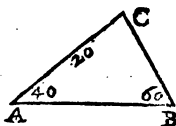
Prenez dans les Tables le Sinus de l'angle *B*, & celui de l'angle *A*; le premier sera 86603 & le deuxieme 64279: faites ensuite une regle de proportion, disant:

Si le Sinus de l'angle *B*, 86603, donne 20 toises pour le costé opposé *AC*, que donnera le Sinus de l'angle *A*. 64279, pour le costé opposé *BC*.

La regle faite, vous aurez pour le côté BC, 14 toises & plus, & les mêmes 14 toises se trouveront aussi par cette autre analogie.

Comme le Sinus de l'angle B ——— 86603
 au Sinus de l'angle A ——— 64279
 Ainsi le costé AC ——— 20
 au costé BC ——— 14

Que si vous desirez venir à une plus grande précision, c'est à dire, si vous voulez avoir plus exactement la valeur du côté BC, sousdivisez les 20 toises du côté AC en pieds, & même en pouces & en lignes, s'il est nécessaire; & au lieu de 20 toises, mettez 120 pieds, ou 1440 pouces, ou 17280 lignes que valent les 20 toises AC: & la regle faite, comme cy-dessus, le côté CB se trouvera valoir 14 toises, 5 pieds, 9 lignes, & encore quelque chose de plus.



Pour avoir la valeur du côté AB, il faudra chercher celle de l'angle C, qui se trouvera de 80 degrez (parla 1,) & faire ensuite cette analogie.

Comme le Sinus de l'angle B ——— 86603
 au Sinus de l'angle C ——— 98481
 Ainsi le costé AC ——— 20
 au costé demandé AB ——— 22

PROP. III.

La valeur des costez BC, AC, & de l'angle A estant connue, trouver celle de l'angle B.

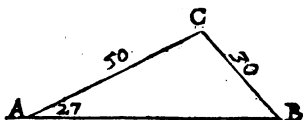
Cherchez le Sinus de l'angle A, & l'ayant trouvé de 45399, faites la regle de proportion, en cette sorte.

Si le costé BC de 30 toises, donne 45399, pour le Sinus de l'angle A, que donnera AC de 50 toises pour le Sinus de l'angle B.

La regle faite, vous aurez 75665 pour le Sinus demandé.

Cherchez ce Sinus dans les Tables, & vous trouverez qu'il est d'un angle de 49 degrez 10 minutes, On peut faire aussi l'analogie suivante.

*Comme le costé BC de 30, au costé AC de 50 :
Ainsi le Sinus de l'angle A ——— 45399
au Sinus de l'angle B ——— 75665*



PROP. IV.

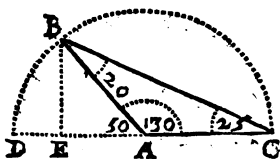
Trouver la valeur du costé BC opposé à l'angle A qui est obtus.

LE Sinus BE est commun aux deux angles BAC, BAD, d'où il s'ensuit qu'il peut estre pris indifferemment pour l'aigu BAD, de 50 degrez ; comme pour l'obtus BAC de 130 : mais il faut observer qu'il ne peut estre trouvé dans les Ta-

bles que par la valeur de l'angle aigu, les degrez des Tables n'allant pas au delà de 90 : c'est pourquoy le Sinus 76604, que nous prenons icy pour l'angle obtus BAC, doit estre cherché par les 50 degrez de l'angle aigu BAD : cela connu, faites vostre analogie à l'ordinaire disant :

Si le Sinus de l'angle C, 42262 donne 20 pour le costé AB, que donnera le Sinus de l'angle BAD, 76604.

La Regle faite, le côté BC se trouvera valoir
 $36, \frac{10648}{42231}$



Usage des Tangentes & Secantes.

PROP. V.

L'angle A estant droit, & l'angle B connu avec le costé d'entre-deux, donner la valeur de la perpendiculaire AC & de l'hypotenuse BC.

Supposé l'arc AE, décrit du point B, la perpendiculaire AC fera Tangente, BC Secante, & la base AB Sinus total.

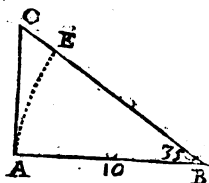
Cherchez dans les Tables, la Tangente & la Secante de l'angle B, vous trouverez 70021 pour l'une, & 122077 pour l'autre : puis faites les analogies suivantes, qui produiront la valeur des lignes AC, BC.

Premierement, comme le Sinus total — 100000
à la Tangente — 70021
De même, la base AB — 10
à la perpendiculaire AC — 7

2. Comme le Sinus total — 100000
à la Secante — 122077
Aussi la base AB — 10
à l'hypoténuse BC — 12

Autrement :

Comme le Sinus total 100000, à la base AB, 10;
ainsi la Tangente 70021, à la perpendiculaire AC, 7.
Et la Secante 122077, à l'hypoténuse BC, 12.



PROP. VI.

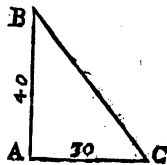
Les costez AB, AC composant un angle droit estant connus, trouver l'hypoténuse BC.

Supposé le côté AB de 40 toises, & le côté AC de 30.

Multipliez AB par luy-même, c'est à dire 40 par 40, le produit 1600 sera son carré.

Multipliez aussi 30 par 30, & le produit 900, sera le carré du côté AC (suivant la 1^{re} du 7.)

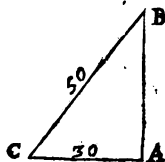
Additionnez ces deux quarrés, & de leur somme 2500, tirez la racine quarrée, qui sera la valeur de l'hypoténuse BC (par la 45^{de} du 2.)



PROP. VII.

L'hypoténuse BC étant connue, avec la jambe AC trouver l'autre jambe AB qui fait l'angle droit BAC .

Otez du carré de BC , le carré d' AC , je veux dire ôtez 900 de 2500; restera 1600 dont la racine carrée 40 sera la grandeur de la jambe AB .



PROP. VIII.

Les costez AB , AC composant l'angle droit A , étant connus, trouver les deux angles B & C .

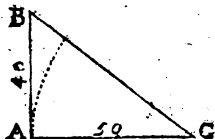
Supposé qu' AC soit Sinus total & AB tangente.

Comme la jambe AC , 50; à la jambe AB , 40:

Le Sinus total AC 100000, à la Tangente AB 80000.

Cherchez cette Tangente 80000, & l'ayant trouvée dans la Table de 38 degrés à costé de 40 minutes, concluez que l'angle C est de 38 degrés 40 minutes.

La valeur de l'angle B pourroit estre trouvée de la même sorte en posant AC pour Tangente, & AB pour Sinus total; mais elle vous sera connue plus aisément par la première Prop.

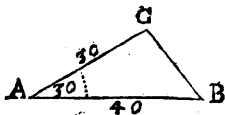


PROP. IX.

L'angle A, & les costez qui le composent estant connus, trouver les autres angles.

L Es trois angles d'un triangle, mis ensemble, valent 180 degrez; ainsi l'angle A de 30 degrez estant soustrait de 180, reste pour les angles B & C 150; dont la moitié 75 a pour Tangente 373205: cela connu faites l'analogie suivante.

Comme la somme des costez connus AB, AC, 70
à leur difference ————— 10
ainsi la tangente de 75 degrez ————— 373205
à une tangente demandée ————— 53315



Cherchez dans les Tables cette Tangente 53315, & vous trouverez que son angle sera de 28 degrez 4 minutes.

Joignez ces 28 degrez 4 minutes, à 75 degrez moitié de la somme des angles inconnus, & vous aurez 103 degrez 4 minutes, pour l'angle C opposé au plus grand costé AB.

Ostez aussi ces 28 degrez 4 minutes, des mêmes 75 degrez, & le reste 46 degrez 56 minutes, sera la valeur de l'angle B.

PROP. X.

L'Angle B estant connu avec les costez qui le composent, trouver la perpendiculaire CE.

S Upposé la perpendiculaire AD, & le costé BC, continuez jusqu'en D; si on prend AB pour

Sinus total, BD fera Secante de l'angle B.

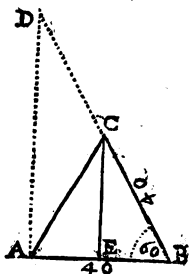
Cherchez dans les Tables la Secante de 60 de-
grez, elle se trouvera de 200000. Or

Comme le Sinus total AB de 100000, à AB
de 40 :

La Secante BD de 200000, à BD de 80 (par la 5)

Et comme BD de 80 ; à BC de 40 :

ainsi AB de 40 ; à BE de 20.



Donc comme BC à CD, BE à EA (par la 52
du 2.)

Et AD étant perpendiculaire, EC l'est aussi
(par la 57 du 2.)

Enfin ayant encore posé BE pour Sinus total,
vous trouverez que

Comme le Sinus total BE — 100000

à la tangente EC — 173205

Ainsi la base BE — 20

à la perpendiculaire EC — $34\frac{641}{1000}$

PROP. XI.

L'Angle B & les costez AB, BC étant connus,
trouver la perpendiculaire CE.

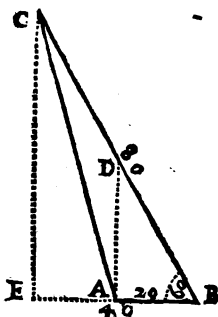
Que la ligne AD soit perpendiculaire, & AB
Sinus total ; BD sera Secante de l'angle B. Cela
estably faites

Comme

Comme AB Sinus total — 100000

à la Secante BD — 200000

Ainsi la base AB , 20; à l'hypotenuse BD , 40.



De plus,

Comme BD , 40; à BC , 80:

AB , 20; à BE , 40.

Et posant encore BE pour Sinus total

Comme BE Sinus total — 100000

à CE Tangente de l'angle B — 173205

Ainsi la base BE — 40

à CE qui est la perpendiculaire demandée — $69\frac{141}{500}$

PROP. XII.

Les trois costez du triangle ABC estant connus, trouver la valeur de l'angle C .

Supposé qu' AB soit de 10 toises, AC de 6, & BC de 8. La difference des côtez AC , BC qui composent l'angle C , sera de 2.

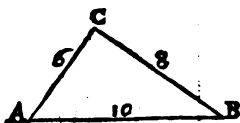
Multipliez 10 par 10, le produit 100 sera le quarré du côté AB , opposé à l'angle C .

Ostez du quarré d' AB , le quarré de la difference des côtez AC , BC ; c'est à dire, ôtez 4 de 100, restera 96, auxquels ajoutez cinq nuls, qui feront 9600000.

M

8 TRAITÉ DE GEOMETRIE:
 Multipliez les côtez AC, BC l'un par l'autre, je veux dire 6 par 8, & le produit 48 estant doublé, donnera 96.

Divisez, enfin, les 9600000 par ces 96, viendra le Sinus total 100000; d'où vous conclurez que l'angle C est droit.



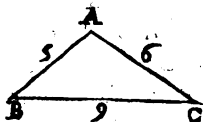
PROP. XIII.

Les trois costez du triangle ABC estant connus trouver la valeur de l'angle A qui est obtus.

LE carré de la difference des côtez AB, AC, c'est à dire un; estant soustrait du carré de BC, 81; reste 80, lesquels joints à cinq nuls, font 8000000.

Les côtez AB, AC multipliez l'un par l'autre, produisent 30, dont le double est 60.

Les 8000000 divisez par 60 donnent 133333, desquels l'unité retranché, c'est à dire, le Sinus de l'angle droit, reste 33333 Sinus d'un angle de 19 degrez 28 minutes; d'où nous connoissons que l'angle A vaut outre l'angle droit, 19 degrez 28 minutes, & que par conséquent il est de 109 degrez 28 minutés.



PROP. XIV.

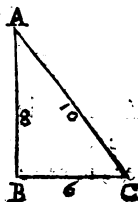
On demande la valeur de l'angle A qui est aigu.

LE quarré du côté BC opposé à l'angle A est 36. Le quarré de la difference des costez AB, AC est 4.

Quatre soustrait de 36, reste 32; & cinq nuls ajoutez font 3200000.

Les costez AB, AC multipliez l'un par l'autre, produisent 80, dont le double est 160.

Les 3200000 divisez par 160, donnent 20000, lesquels soustraits du Sinus total 100000, reste le Sinus 80000, lequel estant trouvé dans la Table de 53 degréz, son supplément 59995 qui est le Sinus vis à vis, est celuy de l'angle A, 36 degréz 52 minutes.

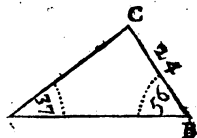


Usage des Logarithmes.

PROP. XV.

Les angles A, B, & le costé BC estant connus, trouver par les Logarithmes, la valeur du costé AC.

L'usage des Sinus & Tangentes Logarithmes; differe de l'usage des autres Sinus & Tangentes; en ce que les analogies y sont resoluës seulement par additions & soustractions: & sans qu'on y pose jamais pour termes, aucune somme de toises, pieds ou pouces. C'est à dire que de même qu'on met un Sinus ou une Tangente Logarithme pour le nombre des degrez & minutes d'un angle, on met aussi un Logarithme pour le nombre des toises, pieds ou pouces qu'une ligne peut valoir.



M ij

180. TRAITE' DE GEOMETRIE.

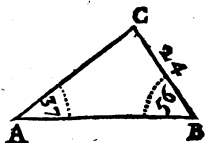
Les nombres & leurs Logarithmes sont par colonnes dans les Tables qui suivent celles des Sinus. On cherche dans les nombres celui qui est donné pour la valeur d'une ligne, & à côté se trouve son Logarithme.

Ayant donc trouvé dans les Tables, les Sinus Logarithmes 977946, 991857, pour les angles A & B: & le Logarithme 138021 pour le côté CB de 24 toises, il faut faire la Regle de proportion suivante.

*Si le Sinus Logarithme de l'angle A, 977946
donne le Logarithme du côté BC, 138021
que donnera le Sinus Logarithme de l'angle B,
991857.*

Ajoutez le deuxième terme de l'analogie au troisième, & de leur somme 1129878, ôtez le premier, le reste sera le Logarithme demandé, 151932.

Cherchez ce Logarithme dans les Tables des Logarithmes, & l'ayant trouvé à côté du nombre 33; dites que 33 est la valeur du côté AC.



On peut examiner par ces calculs certaines Propositions qui sont sans preuves, & qui semblent estre justes dans la pratique, telles que sont les Propositions 23, 24, & 25 du troisième Chapitre, que je n'ay avancé qu'à dessein d'en faire l'examen en cet endroit.

PROP. XVI.

Nous disons que l'arc DF coupé suivant la 23 Proposition du 3 Chapitre, est à peu près la septième partie de la circonférence du cercle, & on veut sçavoir en quoy consiste cet à peu près.

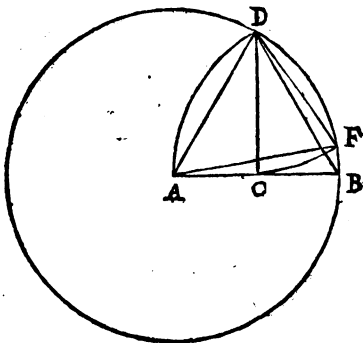
Tirez les droites AD, BD, le triangle ABD sera équilateral (par la 12 du 3,) & ses angles estant égaux, ils seront chacun de 60 degrez.

Prenez BC pour Sinus total 100000, l'angle B qui est de 60 degrez donnera 200000 pour la Secante BD, & 173205 pour la Tangente CD.

Les droites AD, AF qui sont égales à la Secante BD, feront donc chacune de 200000, & DF que nous avons coupé égale à la Tangente CD, fera de 173205.

Les trois côtez du triangle ADF estant connus, cherchez la valeur de l'angle DAF (par la 14) elle se trouvera de 51 degrez 19 minutes.

L'angle au centre d'un Éptagone est de 51 degrez 25 minutes & quelques secondes (par la 18 du 3.) Donc l'arc DF est trop petit de 6 minutes & quelques secondes.



Examen de la Proposition 24 du 3 Chapitre.

PROP. XVII.

On dit que l'arc DH coupé suivant la 24 du 3, est à peu près la neuvième partie de son cercle, & nous voulons sçavoir s'il est plus grand ou plus petit, & de combien.

LE triangle EFG est équilatéral, ainsi l'angle GEF est de 60 degrez, & l'angle droit AEF

M iij

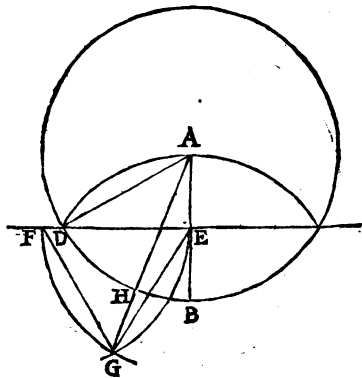
luy estant joint, l'angle GEA est de 150 degrez.

La ligne GE coupée égale au rayon AB est double de la moitié AE , & supposant AE valoir un certain nombre de parties égales, par exemple 200, GE sera de 400.

Les deux côtes GE , AE estant connus, avec l'angle d'entre-deux AEG , l'angle GAE se trouvera valoir 20 degrez 6 minutes (suivant la 9.)

Otez l'angle GAE de l'angle DAE ; je veux dire, ôtez 20 degrez 6 minutes de 60 degrez, restera 39 degrez 54 minutes pour l'angle DAH .

L'angle du centre dans l'Encagone est de 40 degrez; donc l'angle DAH , ou son arc DH est trop petit de 6 minutes.



Examen de la 25 Proposition du 3 Chapitre.

PROP. XVIII.

Supposé le segment de cercle AGB décrit sur la droite AB suivant la 25 du 3: On veut sçavoir la différence qu'il y a entre l'angle AFB & le vray angle, au centre d'un Encagone regulier.

Supposé les droites AD , BD , BE , AF : l'angle ABD est de 60 degrez, la moitié DBE de

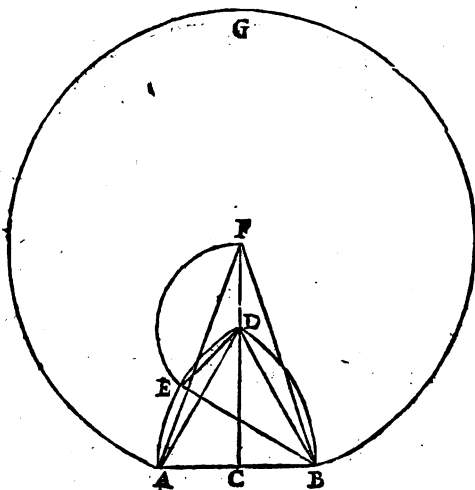
30 ; & 30 ôtez de 180 , valeur des trois angles du triangle isocèle DBE ; reste 150 , ou plutôt 75 pour chacun des angles EDB , DEB.


Que si vous supposez BD valoir 100000 parties égales , la droite DE ou son égale DF sera de 51763 (*par la 2.*)

De plus , l'angle BDC est de 30 degrez , & son supplement BDF de 150 (*par la 18 du 2.*)

La valeur de DB , de DF , & de l'angle BDF estant connuë , l'angle BFC se trouvera de 19 degrez 52 minutes (*par la 9.*) & le double AFB de 39 degrez 44 minutes.

L'angle du centre dans l'Eneagone est de 40 degrez ; donc l'angle AFB est trop petit de 16 minutes.





CHAPITRE NEUVIÈME.

Des Corps ou Solides.

DEFINITION I.

LE Corps est une quantité étendue en longueur, largeur, & profondeur.

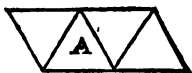
2.

Le Corps est regulier quand une moitié est semblable & égale à l'autre : & il est regulier en tous sens, lors que toutes ses parties sont égales & semblables.

On compte seulement six Corps parfaitement reguliers ; le Tetraëdre, l'Exaëdre, l'Octaëdre, le Dodecaëdre, l'Icosaëdre & la Sphere, dans laquelle les cinq premiers sont inscriptibles.

3.

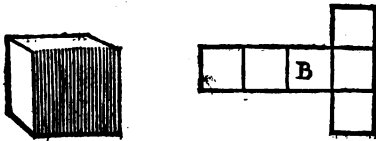
Le Tetraëdre est terminé par quatre triangles équilatéraux de même grandeur.



4.

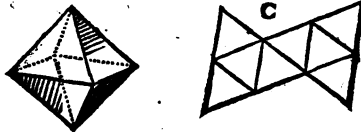
L'Exaëdre ordinairement nommé Cube, ou Dè ;

est borné de six plans ou surfaces quarrées & égales.



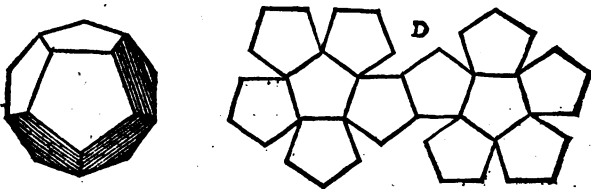
5.

L'Octaëdre est contenu sous huit triangles égaux & équilateraux.



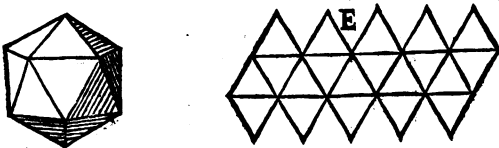
6.

Le Dodecaëdre est compris sous douze Pentagones reguliers, & égaux.



7.

L'Icosaëdre est de vingt surfaces triangulaires, égales & équilaterales.



Les figures A, B, C, D, E, montrent comme on peut servir de la carte pour faire en relief ces cinq premiers corps.

8.

La Sphere est comprise sous une seule surface vers laquelle toutes les lignes tirées du centre sont égales.

9.

Le diametre sur lequel la Sphere tourne est nommé Axe ou Essieu.



Les autres Corps que les Geometres considerent particulierement, sont le Parallelipede, le Prisme, la Piramide, & la Spheröide.

10.

Le Parallelipede est un Corps compris sous six parallelogrammes, dont les opposez sont paralleles & égaux.



11.

Le Prisme est un Corps regulierement & également compris entre deux surfaces semblables, paralleles & égales.

12.

Le Prisme est dit triangulaire, quadrangulaire, pentagonal, &c. suivant la figure des Plans A & B, entre lesquels il est compris.



13.

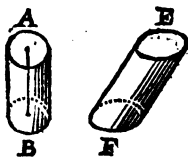
Le Prisme est appelé **Cylindre** lors qu'il est rond en maniere de colonne.

14.

Si un cylindre posé sur un plan de niveau se trouve à plomb comme **A B**, il est compris entre deux cercles : mais s'il se trouve incliné comme **E F**, il est compris entre deux Ouales,

15.

L'Axé du Cylindre est une ligne qui passe par les centres des plans opposez **A**, **B**, & sur laquelle ce corps est supposé tourner, ou pouvoir tourner.



16.

La Pyramide est un Corps dont les parties en s'élevant sur une base, vont se réunir à un point qu'on nomme **fometet**,

17.

La Pyramide prend aussi une dénomination de la figure de sa base : on la nomme triangulaire, quadrangulaire, ou pentagonale ; si sa base est un triangle, un quarré, ou un pentagone.



18.

Le Cône est une Pyramide qui a un cercle pour base lors qu'il est droit sur son plan, ou une Elipse, s'il est incliné comme le Cone B.



19.

Le Corps Sphéroïde, est une Sphere alongée ou oblongue.

20.

Le Sphéroïde Eliptique est de la figure d'un œuf.



Tous autres Corps sont composez des precedens.

21.

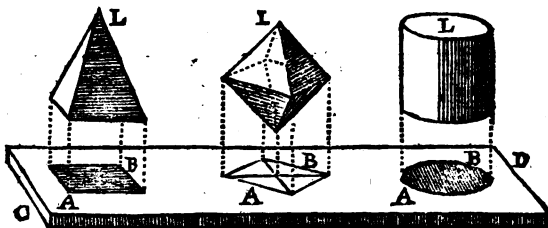
Le Devis Geometrique ou Perspectif d'un Corps, est une description qu'on fait de toutes ses dimensions & mesures; ou par le moyen de deux desfeins, le premier nommé Plan ou Ichnographie; & le deuxième Elevation ou Ortographie; ou par un seul appellé Senographie.

22.

Le Plan ou l'Ichnographie, est une figure plane

qui represente les dimentions horizontales du Corps.

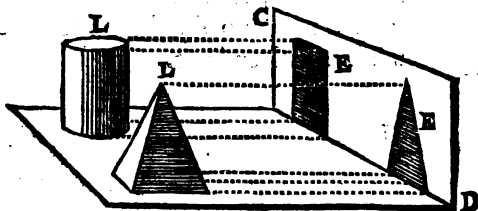
Comme une figure A B, qui seroit produite sur le paré C D, par les à plombs abaissés de toutes les parties du Corps L.



23.

L'Elevation ou l'Ortographie est la figure plane qui represente les dimentions verticales, je veux dire, les hauteurs du Corps.

Comme seroit une figure E, décrite par des paralleles horizontales conduites de toutes les parties du Corps L, jusqu'au plan ou surface verticale C D.

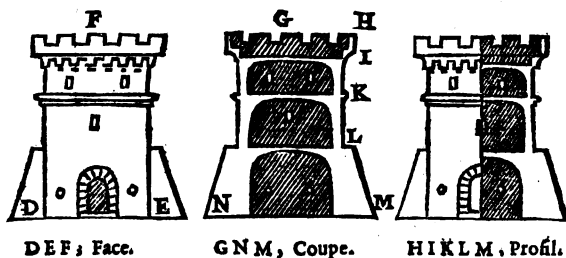


24.

Une Elevation est donnée quelquefois en deux desseins, l'un appellé Face, & l'autre Coupe. Les parties anterieures du Corps se voyent dans le premier, & les interieures dans le deuxieme.

25.

On appelle Profil, le contour ou les extrémités d'une Coupe.



DEF, Face.

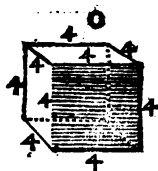
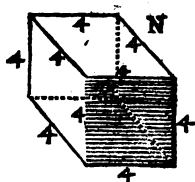
GNM, Coupe.

HIKLM, Profil.

26.

La Senographie est un dessin qui représente le Corps entier avec toutes ses dimensions, hauteurs, largeurs, & profondeurs.

Ce dessin est Geometrique, si toutes ses lignes peuvent estre mesurées avec une échelle commune; & Perspective si elles ne peuvent l'estre que par des échelles de Perspective, le Corps estant représenté tel qu'il est veu d'un coup d'œil, où comme il seroit aperçeu d'un seul endroit.




N. Cube Geometrique.

O. Cube Perspective.

27.

Talu, est la pente qu'on donne à un Corps pour le soutenir. Comme la pente LM.

Lever le plan d'un Corps, d'une Tour par exemple, c'est décrire la figure du terrain qu'elle occupe sur le niveau de ses fondemens.



Du Toisé des Solides.

ON mesure les Solides par toises cubes, & par parties de toises cubes.

La toise cube est un parallépipède rectangle qui a six pieds de hauteur, six pieds de largeur, & six pieds de profondeur.

Ses parties sont le pied, le ponce, & la ligne solide; sur toise, sur pied & sur poncez quarrez. Le pied, le ponce & la ligne solides courant sur toise, sur pied, & sur ponce. Le pied, le ponce, & la ligne cube.

Le pied solide sur toise quarrée, est un parallépipède d'un pied d'épaisseur sur une toise quarrée.

Le pied solide courant sur toise, est un parallépipède d'une toise de longueur, compris entre deux plans chacun d'un pied quarré.

Six pieds solides sur toise quarrée, font une toise cube.

Six pieds solides courant sur toise font un pied solide sur toise quarrée.

Six pieds cubes font un pied solide courant sur toise.

Deux cent & seize pieds cubes font une toise cube.

TRAITE' DE GEOMETRIE.

*Le pouce solide sur pied quarré , est un paralleli-
pipede d'un pouce d'épaisseur sur un pied quarré.*

*Le pouce solide courant sur pied est un paralleli-
pipede d'un pied de longueur , compris entre deux
plans chacun d'un pouce quarré.*

Douze pouces solides sur pied quarré font un pied cube.

*Douze pouces solides courant sur pied , font un pouce
solide sur pied quarré.*

*Douze pouces cubes , font un pouce solide courant
sur pied.*

Mil sept cent vingt-huit pouces cubes font un pied cube.

*La ligne solide sur pouce quarré est un paralleli-
pipede d'une ligne d'épaisseur sur un pouce quarré.*

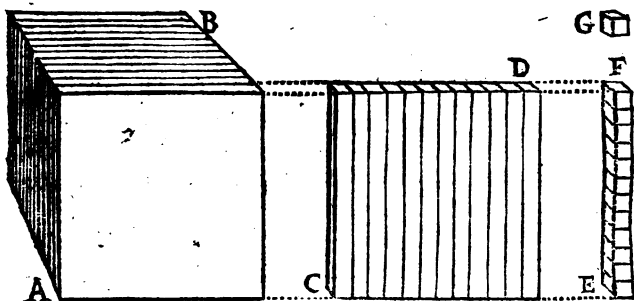
*La ligne solide courante sur pouce , est une paral-
lelipede d'un pouce de longueur , compris entre
deux plans chacun d'une ligne quarrée.*

*Douze lignes solides sur pouce quarré font un pouce
cube.*

*Douze lignes solides courantes sur pouce , font une
ligne solide sur pouce quarré.*

*Douze lignes cubes , font une ligne solide courante
sur pouce.*

*Mil sept cent vingt-huit lignes cubes , font un pou-
ce cube.*



*A B , douze lignes solides sur pouce quarré , faisant un
pouce cube.*

CD ,

C D, douze lignes solides courantes sur pouce , faisant une ligne solide sur pouce carré.

E F, douze lignes cubes faisant une ligne solide courante sur pouce.

G, une ligne cube.

OBSERVATIONS.

D *Es surfaces multipliées par des lignes produisent des solides.*

Des toises carrées multipliées par des toises simples , produisent des toises cubes.

Des toises simples multipliées par des pieds courant sur toises ; ou des toises carrées multipliées par des pieds simples , produisent des pieds solides sur toises carrées.

Des toises simples multipliées par des pieds quarez produisent des pieds solides courant sur toises.

Des pieds simples multipliez par des pieds courant sur toises , produisent aussi des pieds solides courant sur toises.

Des pieds simples multipliez par des pieds quarez , produisent des pieds cubes.

Des pieds simples multipliez par des pouces courant sur pieds , produisent des pouces solides sur pieds quarez.

Des pieds quarez multipliez par des pouces simples , produisent aussi des pouces solides sur pieds quarez.

Des pieds simples multipliez par des pouces quarez , produisent des pouces solides courant sur pieds.

Des pouces simples multipliez par des pouces quarez , produisent des pouces cubes.

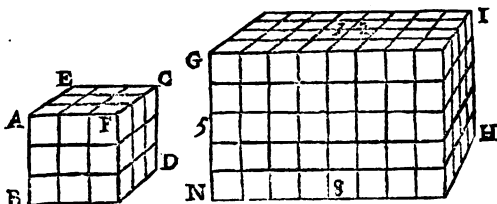
La même chose est des pouces à l'égard des lignes.

PROPOSITION I.

Mesurer un Cube , ou un Parallelipede.

IL faut multiplier toute la base par la hauteur du Corps. *Exemple.*

Multipliez la base BD , ou la surface opposée son égale AC , par la perpendiculaire AB ; 9 pieds quarréz par trois pieds simples : le produit 27 pieds cubes , fera le requis.

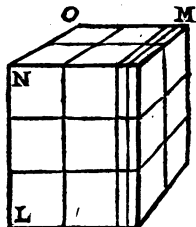


Les 9 pieds quarréz de la surface AECF , ont chacun sous soy une colonne composée de 3 pieds cubes , & trois fois 9 , font 27 .


Pour avoir le contenu du Parallelipede GH , il faut multiplier comme cy-dessus , les parties de la surface GI , par les parties de la perpendiculaire GN , 32 par 5 : & le produit 160 pieds cubes fera le requis.

Si le parallipede LM avoit sa hauteur LN de 3 toises , sa longueur OM de 2 toises 2 pieds , & sa largeur NO de 2 toises ; il faudroit multiplier MO par ON , 2 toises 2 pieds , par 2 toises ; le produit seroit 4 toises quarrées , 4 pieds sur toises , pour la surface NM.

Multiplier cette surface NM par la hauteur LN , 4 toises quarrées , & 4 pieds sur toises , par 3 toises . Le produit seroit 12 toi-



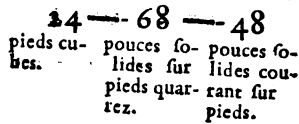
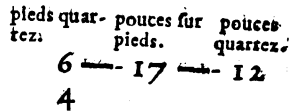
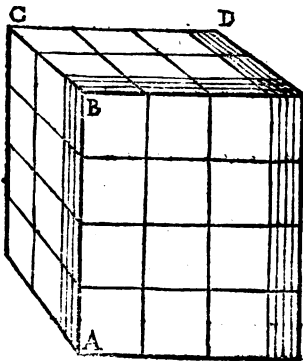
les cubes, & 12 pieds solides sur toises quarrées, qui feroient encore 2 toises cubes, lesquelles estant jointes aux 12, le Corps LM se trouveroit contenir 14 toises cubes.



Mais si AB estoit de 4 pieds, BC de 2 pieds 3 pouces, & CD de 3 pieds 4 pouces. Il faudroit premierement trouver le contenu de la surface BD qui seroit de 6 pieds quarréz, 17 pouces sur pieds, & 12 pouces quarréz. *Puis*

Multiplier les 6 pieds de la surface, par les 4 de la hauteur, le produit seroit 24 pieds cubes.

Multiplier les 17 pouces de la surface par les 4 pieds de la hauteur, le produit seroit 68 pouces solides sur pieds quarréz.

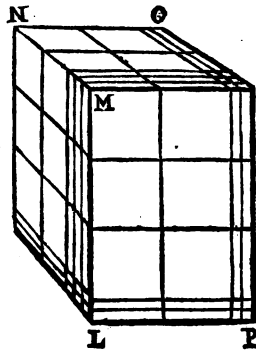


Multiplier encore les 4 pieds de la hauteur par les 12 pouces quarréz de la surface, le produit seroit 48 pouces solides courant sur pieds, c'est à dire, 4 pouces solides sur pieds quarréz, lesquels

N ij

estant joints aux 68 feroient 72, c'est à dire 6 pieds cubès, qui avec les 24 feroient 30 pour le contenu du Corps A D.

Pour avoir le contenu du parallelipede LO qui a sa surface MO de 4 toises quarrées, 10 pieds courant sur toises, 6 pieds quarréz; & sa hauteur LM de 3 toises 2 pieds, il faudroit



Multiplier les toises par les toises, 4 par 3; le produit seroit 12 toises cubès.

Multiplier les toises par les pieds, 3 par 10; & 4 par 2: les produits seroient 30, & 8 pieds solides sur toises quarrées.

Multiplier les 2 pieds par les 10, le produit seroit 20 pieds solides courant sur toises.

Multiplier les 3 toises par les 6 pieds quarréz, le produit seroit 18 pieds solides courant sur toises.

Multiplier les 2 pieds par les 6, le produit seroit 12 pieds cubès.

Enfin additionner tous ces produits, & le Corps LO se trouveroit contenir 19 toises cubès, 2 pieds solides sur toises quarrées, c'est à dire, un tiers de toise cube, & 4 pieds solides courant sur toises, ou 24 pieds cubès.

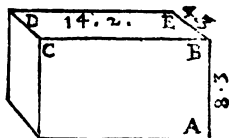
4	10	6	
3	2		
12	30	20	
	8	18	12
19	2	4	0
toises cubès.	pieds solides sur toises quarrées.	pieds solides courant sur toises.	pieds cubès.

Si on avoit encore à mesurer le parallepipede AD qui a sa hauteur AB d'une toise, 2 pieds, 3 pouces ; sa longueur BC de 2 toises, 2 pieds, 2 pouces ; & sa largeur BE de 4 pieds 3 pouces ; il faudroit réduire les toises en pieds, & compter 8 pieds 3 pouces pour AB, 14 pieds 2 pouces pour BC. *Puis*

Multiplier BC par BE ; la surface BCDE se trouveroit contenir 56 pieds quarrez, 50 pouces courant sur pieds, & 6 pouces quarrez.

Multiplier le contenu de cette surface par la hauteur AB, & le Corps se trouveroit avoir 496 pieds cubes, 8 pouces solides sur pieds quarrez, 7 pouces solides courant sur pieds, & 6 pouces cubes ; ces trois especes de pouces faisant 1242 pouces cubes.

$$\begin{array}{r}
 56 - 50 - 6 \\
 8 - - 3 \\
 \hline
 448 - 168 - 150 - 18 \\
 400 48 \\
 48 - 16 - - - 1 \\
 \hline
 496 8 7 6
 \end{array}$$



Que si enfin on trouvoit trop de difficulté à ces fractions, on pourroit réduire aussi les pieds en pouces pour n'avoir qu'une sorte de partie. BC auroit 170 pouces, BE 51, & ces deux côtez multipliez l'un par l'autre produiroient 8670 pouces quarrez pour la surface BD ; laquelle estant multipliée par la hauteur AB de 99 pouces, le produit seroit 858330 pouces cubes, qui estant divisez par 1728, valeur d'un pied cube, le quotient donneroit pour le contenu du parallepipede AD, comme cy-dessus, c'est à dire, 496 pieds & 1242 pouces cubes.

PROP. II.

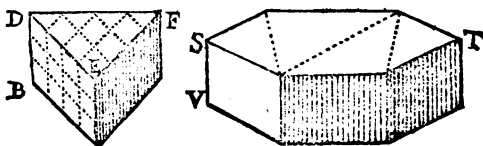
Mesurer le Prisme triangulaire BF.

Supposé que l'angle DEF soit droit, & les côtes DE, EF, chacun de quatre pieds. Multipliez DE par la moitié de EF, 4 par 2; le produit 8 pieds quarréz sera l'aire du triangle DEF.

Multipliez ce triangle par la hauteur DB, 8 par 3; le produit 24 pieds cubes sera le contenu du Prisme proposé.

Les 6 quarréz entiers du triangle DEF, & les 4 demy qui en font encore 2 entiers, ont chacun sous soy une colonne de 3 pieds cubes, & 3 fois 8 sont 24.

Vous mesurerez le Prisme VT de la même manière, c'est à dire, en multipliant l'aire de la surface ST par la hauteur SV.

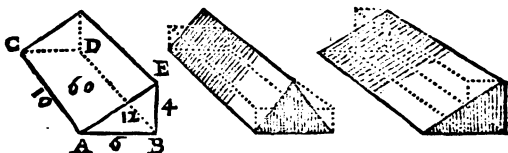


Le contenu du Prisme AE se trouvera en multipliant le plan A par la longueur AE, 4 par 10.



Supposé aussi le Prisme CE, on le mesurera en multipliant sa base, c'est à dire, le rectangle ABCD par la moitié de la hauteur BE; ou la moitié du rectangle ABCD par la hauteur BE: 60 par 2, ou 30 par 4. Le produit 120 sera le même que

si l'on avoit multiplié le triangle ABE par la longueur AC, 12 par 10.



PROP. III.

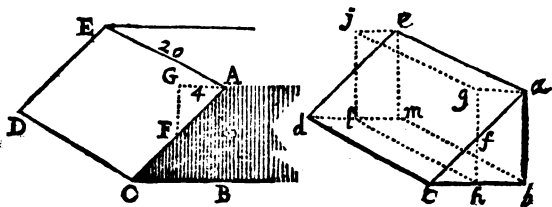
Mesurer le talu d'un Rampar.

LE talu CE considéré séparément du Corps du Rampar, & terminé par deux triangles acm , abc , qui sont paralleles entr'eux, est proprement un Prisme triangulaire: Ainsi on le mesurera par la precedente, ou comme s'ensuit.

Supposé la longueur AE de 20 pieds, égale à la longueur CD. Elevez du milieu de la pente AC, l'aplomb FG, puis mesurez AG, qui par exemple sera de 4 pieds.

Multipliez ces 4 pieds par les 20 de la longueur AE, le produit sera 80.

Multipliez ces 80 par les 8 de la hauteur AB, le produit 640 pieds cubes sera le solide du talu proposé.

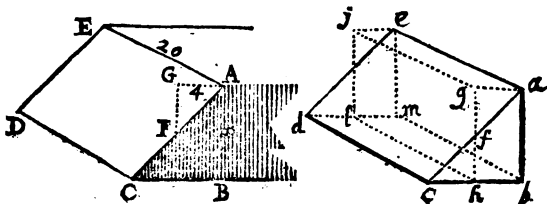


Supposé le rectangle $abgh$, il est égal au triangle abc ; car ac estant coupé en deux également par gh , le triangle

N iiiij

agf est égal au triangle cfh (suivant la 59 du 2 ;) d'où il suit que le Parallelepède $b i$, & le Prisme ou talu $a d$ estant de même longueur $a e$, sont égaux (suivant la précédente) ainsi mesurant l'un on mesure l'autre.

Multipliant $a e$ par ag , nous avons eu l'aire du rectangle $a j$; & multipliant ce rectangle par la hauteur $a b$, nous avons trouvé le contenu du parallelepède $b j$, & par conséquent, du Prisme ou talu proposé $a b c d e$.

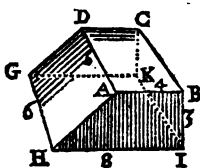


PROP. IV.

Soit aussi proposé de mesurer le Prisme CH dont les plans rectangles $ABCD$, $GHIK$ sont paralleles entr'eux.

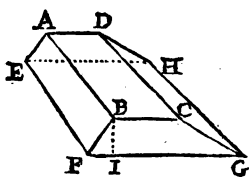

Supposé qu' AB soit de 4 toises, AD de 6, SHI de 8, & BI de 3. Le rectangle AC sera de 24 toises quarrées, le rectangle $GHIK$ de 48, & la coupe $ABIH$ de 18 (suivant la 4 du 7.)

Additionnez les deux rectangles AC , GI ; & de leur somme 72, prenez la moitié 36 que vous multiplieriez par les 3 de la hauteur BI ; Le produit 108 toises cubes, sera le contenu du Corps proposé: ce que vous verifierez (par la 2) en multipliant les 18 toises, & la coupe $ABIH$ par les 6 de la longueur AD qui produiront les mêmes 108 toises cubes.



Vous trouverez de même le contenu du Prisme.

ou Rampart AG en multipliant la moitié de la somme des deux rectangles ABCD, EFGH par la hauteur BI.



PROP. V.

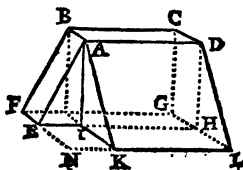
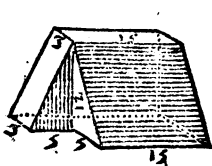
Mesurer le Corps DF, composé d'un parallelepiped & de deux Prismes.

Mesurez ces trois parties séparément l'une de l'autre, vous trouverez 540 pieds cubes pour le parallelepiped CI; 450 pour le Prisme AIL; & 90 pour le Prisme AIF.

Faites addition de ces trois sommes, & vous aurez pour le contenu du Corps proposé 1080. pieds cubes. *Autrement.*

Mesurez les trois rectangles AC, EG, KH; le premier sera de 45 pieds quarrés, le deuxiême de 60, le troisiême de 75, & les trois ensemble feront 180 pieds quarrés.

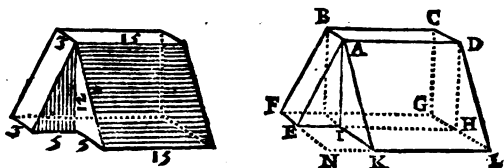
Prenez la moitié de cette somme 180, & la multipliez par la hauteur AI, c'est à dire, 90 par 12, le produit 1080 sera égal au precedent.



Si on trouve quelque difficulté à mesurer les deux rectangles EG, KH, séparément l'un de l'autre, on aura la valeur des deux ensemble comme s'ensuit.

Mesurez tout le rectangle FGLN qui se trouvera de 160 pieds quarez.

De cette somme, ôtez les 25 du petit rectangle EK, car EI multiplié par IK, 5 par 5, donnera 25, & le reste 135 fera la valeur des deux rectangles.

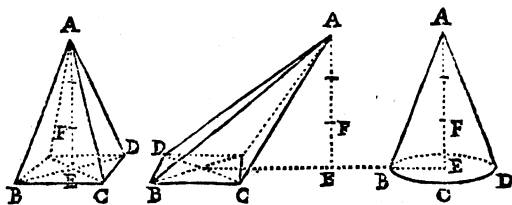


PROP. VI.

Mesurer une Pyramide.

Multipliez la base ou plan BCD, par le tiers de la perpendiculaire AE, & vous aurez le requis. *Autrement.*

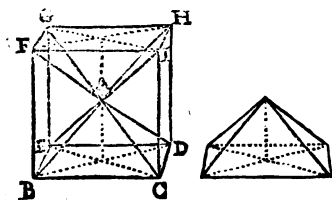
Multipliez la hauteur AE, par le tiers de la base, ou enfin multipliez toute la hauteur par toute la base, & le tiers du produit sera le requis.



Que le solide d'une Pyramide se trouve en multipliant le tiers de la hauteur par la base je le démontre.

Supposé que les six faces d'un cube BH, soient les bases

d'autant de Pyramides qui aient leurs sommets au centre *A*, ces six pyramides dont le cube sera composé, seront égales.



2. Supposé que le costé *BC* soit de 12 pouces, toute la base *BCDE* sera de 144 pouces quarréz (suivant la 1 du 7) & tout le cube *BH* vaudra 1728 pouces cubes (suivant la 1) dont la sixième partie 288 sera le contenu de chaque pyramide.

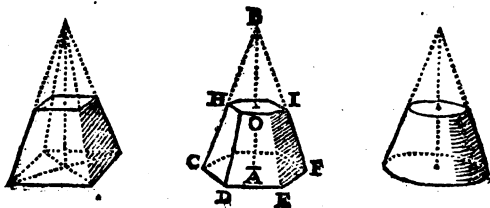
Or tout le cube ayant 12 pouces de haut, la hauteur de la pyramide *ABCDE* sera de 6, & le tiers de 6, multiplié par la base *BCDE*, c'est à dire 2, par 144; produira les mêmes 288 pouces cubes que nous avons trouvé que valoit chaque pyramide. Donc le contenu d'une pyramide se trouve en multipliant toute la base par le tiers de la hauteur.

PROP. VII.

Mesurer le reste d'une Pyramide, dont la surface supérieure est parallele à la base.

TRouvez le sommet de la Pyramide, puis multipliez la base *CDEF*, par le tiers de la perpendiculaire *AB*, & vous aurez le contenu de la Pyramide entiere *BCDEF*, (suivant la precedente.)

Multipliez aussi la surface supérieure *HOI*, par le tiers de la hauteur *BO*, pour avoir la valeur de la partie perduë *BHOI*, laquelle estant soustraite de celle de la Pyramide entiere, restera la valeur de la partie proposée *CI*.



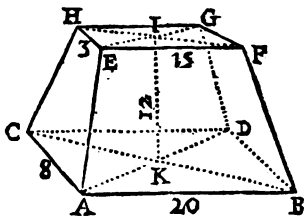
PROP. VIII.

Mesurer l'Exaëdre irregulier *AG*, dont les surfaces opposées & paralleles *ABCD*, *EFGH*, sont deux rectangles inégaux & dissemblables.

QU'AB, soit de 20 pieds, AC de 8, EF de 15, EH de 3, & la hauteur IK de 12.

Multipliez EF par EH, 15 par 3; le produit 45 pieds quarez fera la valeur du rectangle EFGH.

Multipliez aussi AB par AC, 20 par 8, le produit 160 fera la valeur du rectangle ABCD.



Mettez ces deux sommes 45, 160, en une 205.

Prenez la différence des côtez EH, AC, qui est 5, & la différence des côtez EF, AB qui est encore 5.

Multipliez ces deux différences l'une par l'autre, 5 par 5, & le produit 25 pieds quarez, estant soustrait de la somme precedente 205, restera 180 pieds quarez.

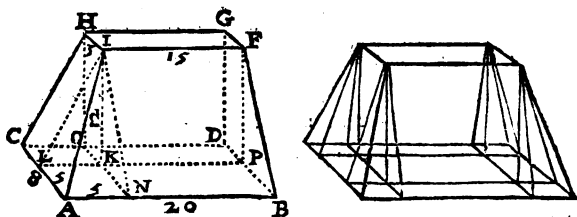
Prenez la moitié de ces 180 pieds quarez, qui est 90, & la multipliez par la hauteur IK, c'est à dire par 12, le produit sera 1080 pieds cubes.

Multipliez le produit des deux différences par le tiers de la hauteur IK, 25 par 4; & le produit 100 pieds cubes, joint au precedent 1080, fera la valeur requise 1180 pieds cubes.

Supposé que l'Exaëdre ait quatre parties, sçavoir un parallépipède *FGHIDOKP*, deux Prismes *IKNBFP*, *IKLCHO*, & une pyramide *IANKL*; ces parties estant mesurées, le parallépipède se trouvera contenir 540 pieds cu-

bes (suivant la 1) le premier Prisme 450, le deuxième 90 (suivant la 2;) la Pyramide 100 (suivant la precedente) & les quatre sommes jointes ensemble feront les 1180 pieds cubes que nous avons dit estre le contenu de l'Exaëdre.

Mais supposé que l'Exaëdre ayant les mêmes mesures soit composé de neuf parties, d'un Parallelipede, de quatre Prismes, & de quatre Pyramides : en mesurant aussi ces parties chacune à part, on trouvera encore les mêmes 1180 pieds cubes.



Ceux qui veulent mesurer cet Exaëdre en multipliant la moitié de la somme des deux rectangles FH, BC, par la hauteur IK, peuvent voir qu'ils se trompent considerablement; car au lieu de 1180 pieds cubes qui sont le juste contenu de ce Corps, ils en trouvent 1230 : & l'erreur vient de ce qu'ils le mesurent comme un Corps composé seulement de Prismes & de Parallelipedes (suivant la 4) ne considerant pas qu'il tient de la Pyramide, & qu'il faut mesurer ses parties pyramidales separément du reste, la maniere de les mesurer en estant differente; & c'est ce que nous avons fait en multipliant à part les 25 pieds du rectangle ANKL par le tiers de la hauteur IK, pour avoir le contenu de la partie pyramidale ANKIL.

PROP. IX.

Mesurer un canal ou fossé AC, pour sçavoir la quantité de terre qu'on en a tiré.

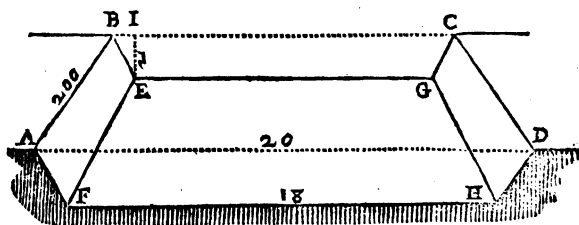
Mesurez ce canal comme si c'estoit un Prisme; c'est à dire,

Mesurez la coupe ADFH (par la 4 du 7) & la multipliez par la longueur AB, 38 par 200, le produit 7600 pieds cubes sera le requis. ou bien

Multipliez la largeur AD par la longueur AB, 200 par 20; le produit 4000 toises quarrées sera pour la partie superieure du Canal ABCD.

Multipliez ces 4000 toises, par la profondeur EI qui est de 2; & du produit 8000 toises cubes; retranchez le solide des deux talus AE, DG, lesquels estant chacun de 200 toises cubes (suivant la 2) restera 7600 toises cubes pour le requis.

Autrement. Prenez la moitié des deux largeurs AD, FH, c'est à dire 19, & la multipliez par les 200 de la longueur AB; puis multipliez le produit 3800 par les 2 de la profondeur, & vous trouverez les mêmes 7600 toises cubes.




PROP. X.

Mesurer la Massonnerie qui fait le tour ou le bord d'un Bassin de Fontaine.

Soit proposé de mesurer le bord du Bassin Exagonal AB, composé de six Prismes égaux.

Mesurez un de ces Prismes (par la 2) comme A en



multipliant la surface superieure par la hauteur CD ; & supposé qu'il se trouve estre de 15 pieds cubes, multipliez ces 15 pieds par le nombre des Prismes, c'est à dire par 6, le produit 90 sera le requis.

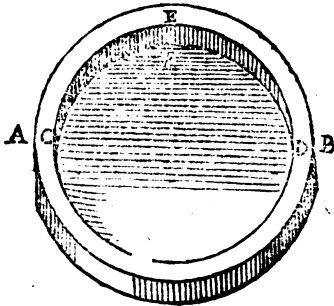
PROP. XI.

Mesurer le bord d'un Bassin rond.

Mesurez l'aire du grand cercle AB , & celuy du petit CD (*par la 8 du 7.*)

Defalquez de l'aire du grand cercle, celuy du petit, l'aire qui restera sera la difference des deux cercles, qui fait la surface ou partie superieure du bord du bassin.

Multipliez cette difference AEB , par la hauteur EF , & le produit fera la valeur requise.



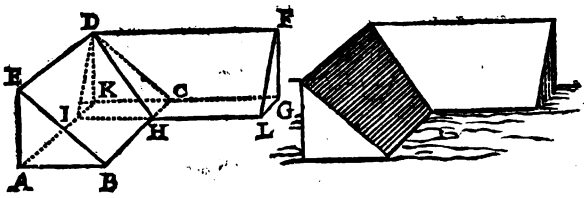
PROP. XII.

Mesurer le solide d'un talu AF qui fait un angle droit rentrant BHL .

Considerez ce talu comme un solide composé de deux Prismes $ABCDE$, $DFGIK$.

Mesurez ces Prismes (par la 3) & supposez que le premier se trouve estre de 300 pieds cubes , le deuxieme de 400 ; les deux ensemble feront 700.

Retranchez de cette somme la valeur de la Pyramide DCHIK qui est commune aux deux Prismes, le reste sera le contenu du talu.

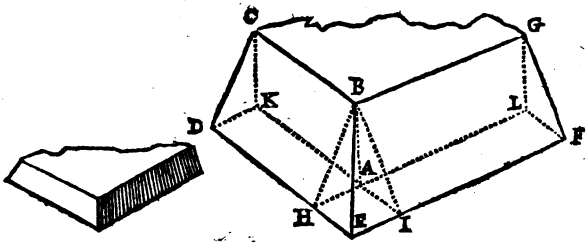


PROP. XIII.

Mesurer le talu de l'angle saillant CEG.

Coupez DH égale à BC , FI égale à BG , puis considerez le talu proposé comme un solide composé de trois parties, deux Prismes CH, IG ; & une Pyramide ABHEI.

Mesurez les Prismes (par la 3) & la Pyramide (par la 6.)



PROP.

PROP. XIV.

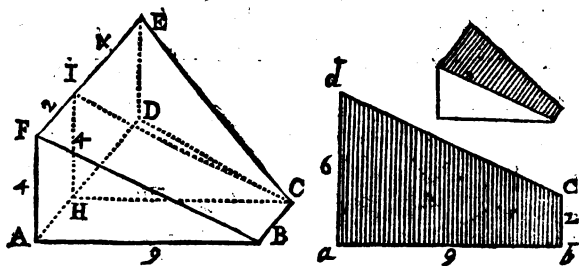
Mesurer le solide en talu ABE.

JE suppose qu'AD, BC sont paralleles, & que l'angle BAD est droit, comme il paroist par le plan Geometral a b c d.

Coupez FI égale à BC, puis regardez le solide comme un corps composé de deux parties; d'un Prisme ABCIF, & d'une Pyramide CDEIH, dont le quarré DEIH en est la base, & le point C le sommet.

Mesurez le Prisme (*suivant la 2,*) il se trouvera avoir 36 pieds.

Mesurez aussi la Pyramide (*suivant la 6,*) elle se trouvera en avoir 48; & la somme de ces deux parties, c'est à dire 84, sera la valeur requise.

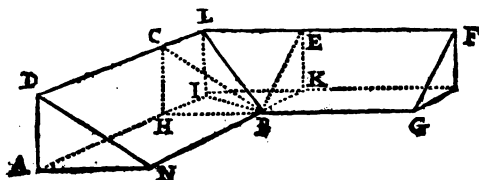


PROP. XV.

Mesurer le talu de l'angle rentrant DLF qui est obtus.

Prenez DC égale à BN, EF égale à BG, puis supposant que les parties ABL, BLF, sont

10 TRAITE' DE GEOMETRIE.
 composées chacune d'un Prisme & d'une Pyramide, vous trouverez le solide du talu proposé par la précédente; c'est à dire en mesurant les deux Prismes BD, GE, & les deux Pyramides BLH, BLK.

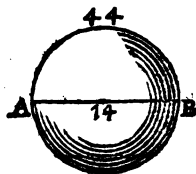
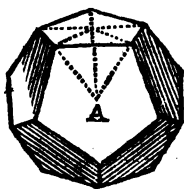


PROP. XVI.

Mesurer le Dodecaèdre regulier A.

Les surfaces du Dodecaèdre sont comme les bases d'autant de Pyramides égales qui ont leurs sommets au centre de ce Corps. *Ainsi*

Mesurez une de ces Pyramides (par la 6 ,) & supposé qu'elle se trouve estre de 10 pieds cubes, multipliez ces dix pieds par le nombre des Pyramides qui est 12 , le produit 120 sera le requis.



PROP. XVII.

Mesurer une Sphère.

IL faut multiplier le diametre par la circonférence de son cercle, le produit sera la surface de la Sphère (suivant Archimède) multiplier ensuite

le tiers de cette surface par le rayon ou demidia-
metre, & on aura le requis. *Exemple.*

Supposé que le diametre AB soit de 14 pouces,
la circonference de son cercle de 44; multipliez
ces deux valeurs l'une par l'autre, & le produit
616 pouces quarrez, sera la valeur de la surface
de la Sphere.

Prenez le tiers de ces 616 pouces quarrez, qui
est $205 \frac{1}{3}$, & le multipliez par 7, moitié du dia-
metre; le produit 1437, sera le contenu demandé.

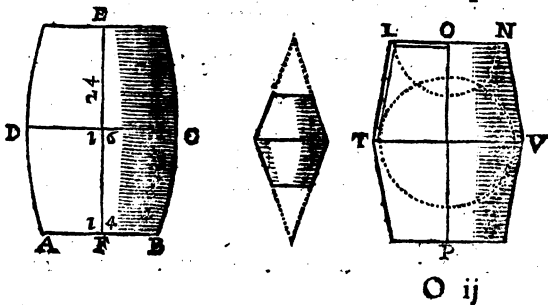
*Si on suppose que les 616 pouces quarrez de la surface de
cette Sphere, sont les bases d'autant de Pyramides égales qui
ont leurs sommets au centre; il est évident, que multipliant le
tiers de ces bases (comme si toutes n'en faisoient qu'une) par la
hauteur des Pyramides, qui est le demidiametre de la Sphere,
on a (suivant la 6) le contenu des 616 Pyramides, & par
consequent le contenu de la Sphere qui en est composée.*

PROP. XVIII.

Mesurer le contenu d'un Tonneau.

Mesurez l'aire d'un de ses fonds AB, & celui
du plus grand cercle CD pris en dedans,
puis multipliez la moitié de la somme de ces deux
cercles par la longueur du tonneau EF. *Je m'expli-
que.*

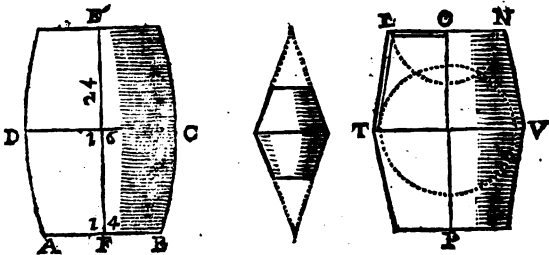
Si le diametre AB est de 14 pouces, le diame-
tre CD de 16, leurs cercles feront; le premier de



154 pouces quarez, le deuxiême de $201 \frac{2}{7}$ (suivant la 8 & 9 du 7.) & les deux ensemble feront 355 pouces quarez $\frac{1}{7}$.

De cette somme prenez la moitié $177 \frac{4}{7}$, & la multipliez par la longueur EF de 24 pouces ; le produit 4261 pouces cubes $\frac{4}{7}$ sera à peu près le contenu demandé.

Il ne faut pas s'imaginer, comme font quelques-uns, que par cette Regle le Tonneau n'est mesuré que comme un Vaisseau composé de deux parties de Cones TOVP, car le produit de la multiplication de la longueur OP, par la moitié de la somme des cercles des deux diametres LN, TV, donne plus que la valeur d'un vaisseau tel qu'est TOVP, suivant ce que nous avons fait voir dans la 8. Prop. & ce plus va à peu près pour la courbure du tonneau.



PROP. XIX.


Mesurer une certaine quantité de liqueur proposée.

IL faut avoir un Bacquet fait bien à l'Equiere, & la liqueur y estant versée, la mesurer comme on mesurerait un Parallelipede.

Exemple. Supposé que le Bacquet ait en dedans 8 pouces de long, 4 de large, & qu'estant bien de niveau la liqueur y soit haute de 2.

Multipliez la longueur par la largeur, 8 par 4,

& le produit 32, par la hauteur 2, le requis se trouvera de 64 pouces cubes.

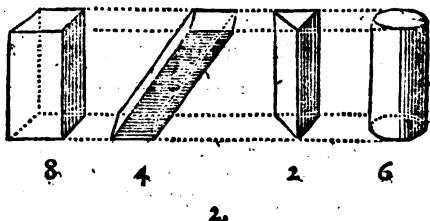


OBSERVATION I.

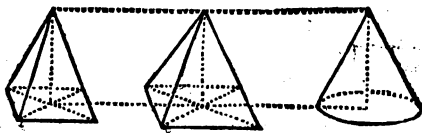
Les Parallelipipedes & les Prismes de même hauteur, sont entr'eux comme leurs bases.

Supposé que le premier Parallelipipede, le deuxieme & le Prisme suivant aient leurs bases doubles l'une de l'autre ; je veux dire, que la premiere base soit double de la deuxieme, & celle-cy double de la troisieme ; la premiere ayant 8 pouces quarez, la deuxieme en aura 4, & la troisieme 2 : Et si la hauteur de ces Corps est de 10 pouces, le premier Parallelipipede sera de 80 pouces cubes, le deuxieme de 40, moitié de 80, & le Prisme de 20, moitié de 40 (suivant la 1 & la 2.) Mais la base du Cilindre estant de 6 pouces quarez, le Cilindre aura 60 pouces cubes ; & comme la base du Cilindre sera à la base du Prisme, 6 à 2 ; le Cilindre sera au Prisme, 60 à 20.

Il s'enfuit aussi que



Les Pyramides de hauteurs égales ; sont en même raison que leurs bases.



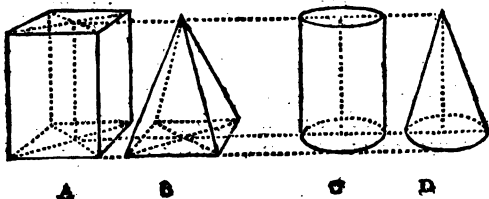
Q iij

2.

Un Prisme & une Pyramide de même hauteur & de bases égales, sont en raison de 3, à 1; c'est à dire, que le Prisme est triple de la Pyramide.

Supposé que le Prisme A & la Pyramide B, ayent 4 pieds de hauteur sur des bases de 9 pieds quarrés; le Prisme (suivant la 1) sera de 36 pieds cubes, & la Pyramide seulement de 12 (suivant la 6.)

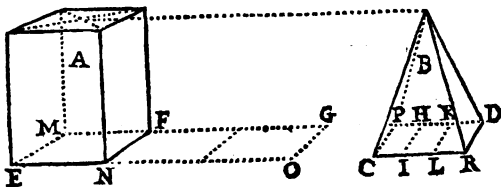
La même chose doit s'entendre du Cilindre C à l'égard du Cone D.



4.

Un Prisme & une Pyramide de même hauteur sont en même raison, que la base du Prisme est au tiers de la base de la Pyramide; ou que la base du Prisme prise trois fois, est à la base entière de la Pyramide.

Exemple. Que le Prisme A, & la Pyramide B soient de même hauteur; & que la base de la Pyramide soit divisée en trois parties égales, CH, IK, LD; le Prisme A, est à la Pyramide B; comme sa base EF, est à CH; troisième partie de la base CD.



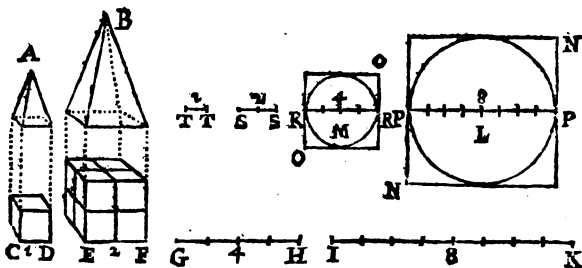
Ou bien. Supposé le plan EG trois fois aussi grand que la base EF; le Prisme est à la Pyramide, comme le plan EG est à la base CD: de sorte que si le plan EG est double ou triple du plan ou base CD, le Prisme est double ou triple de la Pyramide; ce qui est évident par la précédente.

5.

Les Corps semblables, par exemple, A & B, sont en raison triplée de leurs bases: ou ce qui est la même chose, ils sont entr'eux comme les cubes de leurs côtez homologues.

Que CD, EF, GH, IK, soient continuellement proportionnelles: la raison de CD à IK, est triplée de la raison de CD à EF (par la 66 du 1.) Or comme le côté CD d'un pied, à IK de huit; ou le cube CD d'un pied au cube EF de huit; aussi la Pyramide A est à la Pyramide B, comme un à huit.

De même, la Sphere L est à la Sphere M, comme le cube N, est au cube O: ou bien ce qui est la même chose, la Sphere L, est à la Sphere M, comme son diamètre PP, est à la quatrième proportionnelle TT.



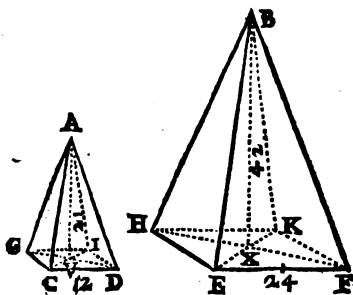
Que la Pyramide A, soit à la Pyramide B en raison d'un à huit, je le démontre.

Puisque les Pyramides A, B, sont semblables, & que CD est d'un pied ou de 12 pouces; & EF, de deux pieds ou de 24 pouces; la hauteur AV étant de 21 pouces, la hauteur BX, sera de 42; car comme EF est double de CD; BX doit aussi être double de AV. De plus, les bases CDGI, EFHK, étant des quarrés parfaits, la première sera de 144 pouces quarrés, & la deuxième de (376 suivant la 1 du 7) cela

O iiii

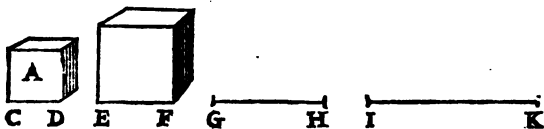
connu, si on multiplie la première base 144, par 7, tiers de la hauteur BX; le produit 1008, sera le contenu de la Pyramide A: & si on multiplie la deuxième base 576, par 14, tiers de la hauteur BX; le produit 8064, octuple du précédent 1008; sera le contenu de la Pyramide B. Donc la Pyramide A est à la Pyramide B, comme un à huit.

La même démonstration se fera des deux Spheres.



6.

Il s'en suit que pour faire un Corps semblable à un autre, mais plus grand ou plus petit; par exemple, un cube double ou triple du proposé A: il faut prendre une ligne IK double ou triple du côté CD; puis trouver entre ces deux longueurs CD, IK, deux moyennes proportionnelles EF, GH, (par la 54 du 3:) & la seconde EF sera le côté d'un cube double ou triple du proposé.



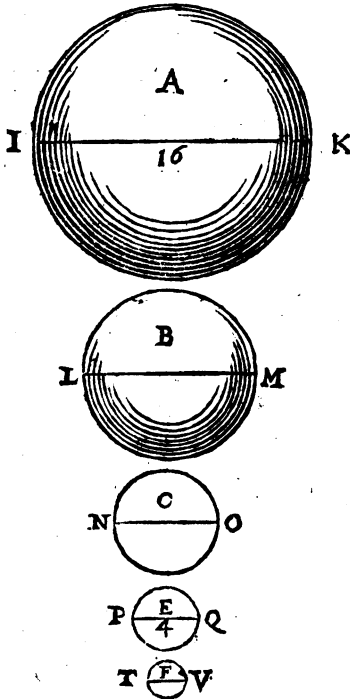
7.

Si on vouloit faire une suite de Corps semblables, de Boules, par exemple, qui fussent quadruples l'une de l'autre dans une proportion continuée; la première A étant donnée de 16 lignes de dia-

metre, il faudroit prendre le diametre PQ de quatre; puis trouver les deux diametres moyens LM, NO (par la 54 du 3,) & les boules A, B, C, E, seroient quadruples l'une de l'autre.

Pour en ajoûter une cinquième, il n'y auroit qu'à trouver son diametre TV proportionnel aux deux diametres PQ, NO, (suivant la 49 du 3,) & faire la même chose pour une sixième, une septième, &c.

Suivant la precedente, la boule A seroit quadruple de la boule B comme le diametre IK le seroit du diametre PQ: Et le diametre LM estant au diametre TV comme IK à PQ, par la raison d'égalité, la boule B seroit quadruple de la boule C, comme le diametre LM seroit quadruple du diametre TV. Et ainsi des autres boules.





CHAPITRE DIXIÈME.

PRATIQUE SUR LE TERRAIN,
Où l'on enseigne à lever des Plans, à en tracer, & à mesurer toutes sortes de dimensions inaccessibles.

ON travaille sur le Terrain avec divers Instrumens. Ceux dont on use le plus sont le Cordeau, le Demicercle, le Compas de proportion, & la Planchette.

USAGE DU CORDEAU.



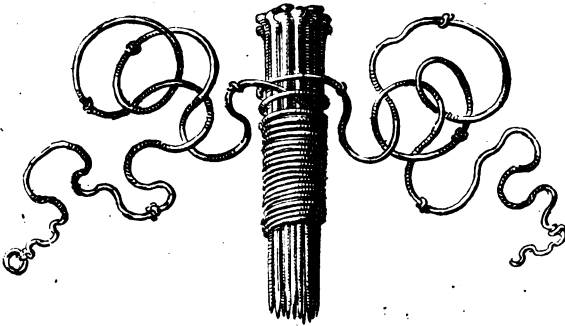
Le Cordeau peut estre simple & de telle longueur qu'on voudra, mais estant divisé, il est de dix Toises pour l'ordinaire, & les divisions y sont marquées par des nœuds faits de six pieds en six pieds, c'est à dire, de toises en toises.

PROPOSITION I.

Du Piquet C, conduire sur le Pré une ligne qui fasse des angles égaux avec le mur AB.

Fichez près du mur AB, deux Piquets E, F, également éloignez du Piquet C, à la distance d'environ deux ou trois toises.

Prenez le cordeau par le milieu D, & faites porter ses deux bouts, l'un au Piquet E, & l'autre au Piquet F, puis le tenant bandé de part & d'autre, fichez le Piquet D, par lequel vous conduirez la ligne demandée (*Voyez la 4 du 3.*)



PROP. II.

Tirer sur le Pré ou Terrain, & au Piquet B, une ligne qui fasse un angle droit avec le mur AB.

PLiez le Cordeau en deux, & le tenant par le milieu avec un Piquet C; faites porter un des bouts au Piquet B, & l'autre à quelque distance de là, *par exemple* au Piquet D, qu'on aura fiché à volonté contre le mur.

Plantez le Piquet C, tenant le Cordeau tendu de part & d'autre, de manière qu'il fasse un triangle isocèle BCD.

Levez le bout du Cordeau qui est au Piquet B & le portez en E, prenant garde que CE soit une ligne droite avec CD; puis menez BE qui fera un angle droit avec AB, (*suiwant la 5 du 3.*)

PROP. III.

Couper l'angle ABC en deux également.

PLantez deux Piquets G, H, en égale distance de la pointe de l'angle B.

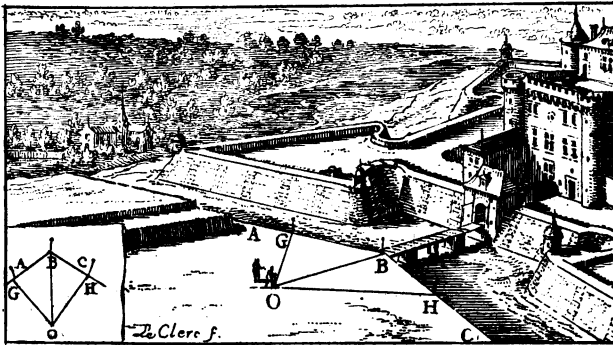
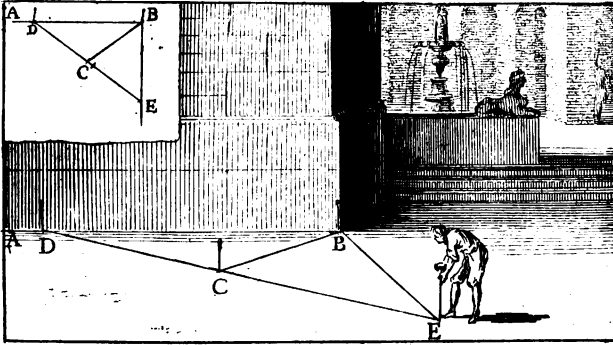
Prenez deux parties égales de Cordeau HO, GO, & BO, coupera l'angle en deux (*suiwant la 3 du 3.*)

PROP. IV.

Du Piquet C, mener un Cordeau parallèle au mur AB.

Prenez avec le Cordeau, la distance BD égale à la distance AC (*suiwant la 2 du 3.*)

221



PROP. V.

Lever le plan d'un mur AC bâti sur la descente d'une montagne, ou plutôt, mesurer ce mur pour en avoir le plan.

Mesurez sa longueur par la ligne de niveau AB, ou par les trois AD, EF, GB; lesquelles prises ensemble sont égales à la seule de niveau AO.

Il y a de la différence-entre mesurer un mur comme celui-cy pour le toisé de la Massonnerie; & le mesurer pour en lever le plan.

Dans le premier cas le mur doit estre mesuré par toute sa longueur AC; mais dans le second, il le faut mesurer seulement par la longueur qu'il auroit sur des fondemens pris sans aucune pente comme LM.

PROP. VI.

Lever le Plan de l'angle rentrant B, c'est à dire, décrire sur du papier, un angle égal à celui des deux murs ABC.

Plantez les Piquets D, E, à quatre ou cinq toises de la pointe de l'angle B.




Mesurez la distance qui est entre les Piquets D, E, puis faites sur du papier le triangle bde semblable au triangle BDE, (par la 30 du 3,) & vous aurez l'angle b, égal à l'angle B.

PROP. VII.

Lever le plan de l'angle saillant EFG.

Atachez le Cordeau par un bout à l'angle F, & le tendez vers H faisant une ligne droite avec EF.

Prenez FH de 5 ou 6 toises, & FI d'autant. Mesurez la distance des deux Piquets HI.



pa
 aut
 r des

 dire,
 wy
 ing vo-
 ues D,
 le sem-
 & vous

 F.G.
 angle F,
 ne droite

 autanc.
 Hl.

224 TRAITE' DE GEOMETRIE.

Faites un triangle $f i h$ semblable au triangle FIH (par la 30 du 3,) & l'angle extérieur $o f i$ sera le requis.

PROP. VIII.

Tracer sur le terrain un triangle semblable au proposé ABC .

Prenez trois parties de Cordeau D, E, F , chacune d'autant de toises qu'il y en a d'écrites sur les côtez du triangle ABC .

Les lignes se tracent sur le terrain avec une bêche ou quelque autre instrument propre à couper la terre.

PROP. IX.

Lever le plan d'un mur composé de plusieurs angles A, B, C, D .




Tendez le Cordeau AI , & dans son alignement, plantez les piquets G, H, L , &c. vis à vis des angles B, C, D , &c.

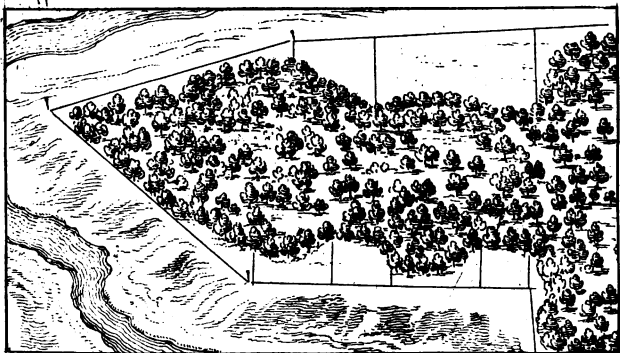
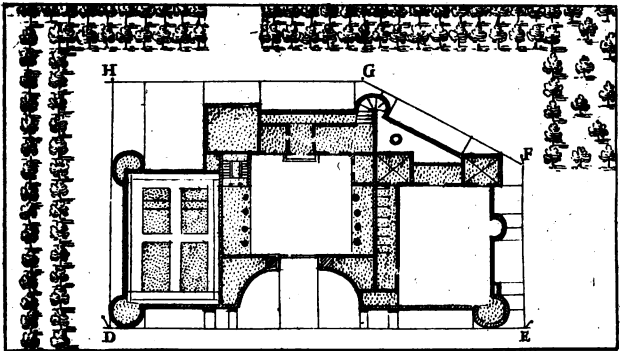
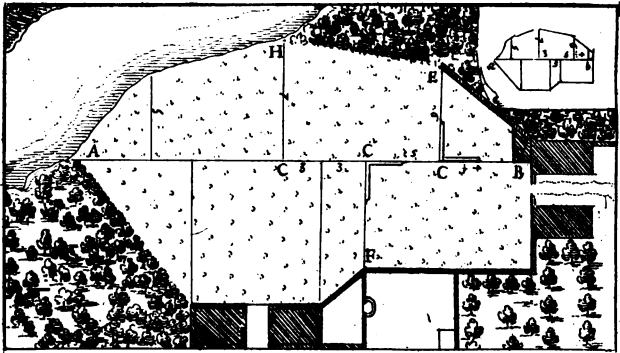
Mesurez les perpendiculaires GB, HC, LD , & toutes les parties du cordeau AI .

Tirez sur du papier une ligne ai , & la divisez par le moyen d'une petite échelle, aux points g, l, m, n ; comme le cordeau AI est divisé par les piquets G, L, M, N .

De tous ces points g, l, m, n , élevez des perpendiculaires gb, hc , &c. & les terminez entre elles suivant les mesures des perpendiculaires GB, HC , &c. puis par leurs extremitéz décrivez le plan demandé a, b, c, d, i .

Le serpentement d'une riviere se désignera de même, & le courant de l'eau peut estre marqué par une fleche AB , qu'on sçait aller toujours la pointe devant.





PROP. X.

Lever le plan d'un pré, ou de telle autre piece de terre qu'on voudra.

Tendez un cordeau tout au travers, par exemple de l'angle A à l'angle B.

De cette ligne, que nous appellons ordinairement ligne maîtresse, observez la situation de tous les angles du pré (*par la precedente.*)

Les lignes CE, CH, &c. peuvent estre conduites à angles égaux sur AB, par le moyen d'une grande Equiere, comme la figure le fait voir.

PROP. XI.

Lever le plan d'un Chasteau par le dehors.


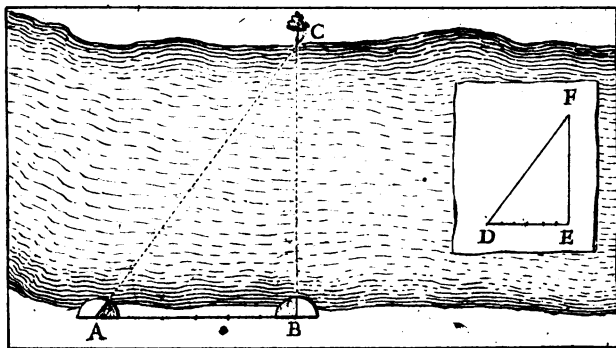

ENvironnez le Chasteau par de grandes lignes maîtresses DEFG, & mesurez exactement leurs longueurs, & l'ouverture des angles qu'elles feront entr'elles.

Ces grands alignemens DEFG, se feront ou de cordeau, ou seulement de rayons visuels; & pour les angles, outre qu'on en peut prendre les ouvertures par les manieres precedentes, ils se peuvent aussi mesurer par le Recipiangle, qui est un instrument composé de deux grandes regles de bois, qui s'ouvrent & se serrent à la maniere d'un compas.

De ces lignes maîtresses, observez tout le contour du Chasteau (*par la precedente*) tenant un memoire exact de la valeur de toutes les lignes & de tous les angles que vous mesurerez.

Un plan se commence sur les lieux par un simple brouillon qu'on fait à veüe, c'est à dire, sans regle & sans compas, mais qu'on charge par des chiffres, de la juste valeur des lignes & des angles qu'on me-

P



sure sur le terrain ; & sur ce broüillon on fait son plan ou deſſein au net lors qu'on eſt de retour à la maiſon.

USAGE DU DEMICERCLE.

Le Demicercle dont on uſe ſur le terrain a un alidade ou regle mobile avec des pinules, c'eſt à dire des viſieres, & un pied au deſſus duquel il ſe meut & ſe tourne à toutes ſortes de biais par le moyen d'une charniere ou machine qu'on nomme genouil.

PROPOSITION I.

Mesurer une largeur de Riviere par exemple *BC*.

Prenez ſur le rivage une baſe *AB*, de dix, vingt à trente toiſes, ou plus, ſi la riviere eſt d'une largeur conſiderable.

Poſez le Demicercle en *A*, & meſurez l'angle *BAC* en dirigeant les deux regles de l'Instrument l'une vers *B*, & l'autre vers *C*.

Meſurez de la même maniere l'angle *ABC*.

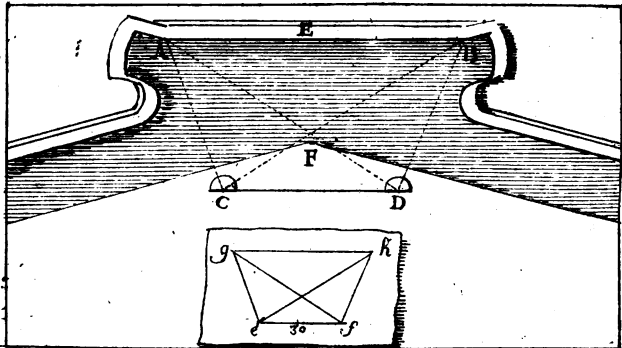
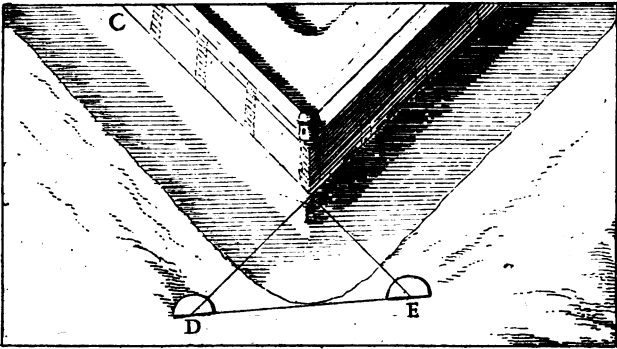

Tirez ſur voſtre papier une baſe *DE*, d'autant de petites parties que vous aurez donné de toiſes à la baſe *AB*, puis faites les angles *D, E*, égaux aux angles *A, B*, (par la 11 du 3.) & la ligne *EF* contiendra autant de petites parties de l'échelle *DE*, que la largeur *BC* contiendra de toiſes (ſuivant la 53 du 2.)

PROP. II.

Mesurer l'angle rentrant *ABC*, qu'un foſſé plein d'eau rend inaccessible.

Mettez-vous ſur le bord du foſſé à quelque endroit comme *D*, d'où le mur *AB* ſoit

P ij



enfilé , & y plantez un piquet.

Plantez aussi le piquet E dans l'enfilade B C E.

Mesurez avec le Demicercle les angles D, E qui *par exemple* font l'un de 62 degrez , & l'autre de 58.

Faites addition de ces deux angles , puis tirez leur somme 120 de 180 , le reste 60 sera la valeur de l'angle B (*suivant la 1 du 8.*)

PROP. III.

Mesurer l'angle saillant ABC , duquel on ne peut approcher.

Plantez les piquets D, E , en ligne droite avec les faces AB, BC.

Mesurez les angles D, E , & supposez que le premier se trouve de 40 degrez , le deuxième de 50 , le troisième B sera de 90 (*par la 1 du 8.*) & l'angle ABC d'autant (*suivant la 19 du 2.*)

PROP. IV.

Mesurer la courtine AB , ayant le fossé EF entre-deux.

Prenez sur le bord du fossé , une base à volonté *par exemple* , CD de 30 toises.

Des extremités de cette base CD , dirigez avec le Demicercle des rayons vers les points A & B en observant la valeur des angles BDA , BDC , comme aussi des angles ACB , ACD.

Décrivez la figure e f g h semblable à la figure ABCD (*par la 29 du 3.*) & la base e f , estant faite de 30 petites parties par rapport à la base CD qui est de 30 toises , vous connoistrez la longueur de la courtine AB par le nombre des petites parties qui se trouveront compris dans la ligne g h.

USAGE DU COMPAS DE PROPORTION.

Le Compas de Proportion a pour jambes deux regles de cuivre sur lesquelles il y a d'ordinaire quatre paires de lignes gravées, dont l'une qu'on nomme des cordes, & qui est destinée à la mesure des angles, est celle qui sert sur le terrain.

Les deux lignes AB , AC qui font cette paire, sont divisées chacune en 180 parties qui répondent par ordre aux 180 degrez de leurs demicercles, comme il paroist par la figure ABG .

Aux extrémités de ces deux lignes, sont des pinules qui servent à diriger les rayons visuels, & le Compas est monté sur un pied avec un genouil semblable à celui du Demicercle.

PROP. I.

Faire un angle de telle ouverture qu'on voudra. Par exemple soit proposé de faire un angle de 40 degrez au point L .

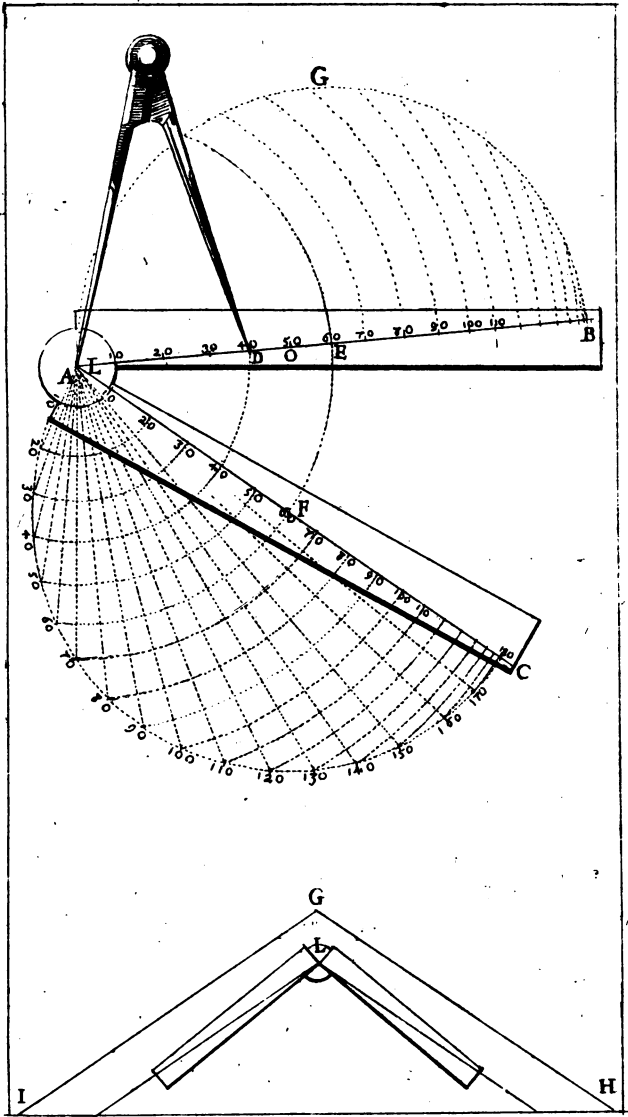
Prenez avec un Compas commun la corde AD de 40 degrez. Ouvrez le Compas de proportion tant que les cordes de 60 degrez AE , AF soient éloignées l'une de l'autre par leurs extrémités E , F , d'une ouverture égale à celle des pointes du Compas commun; c'est à dire, ouvrez le Compas de proportion jusqu'à ce que la corde de l'arc EF , se trouve égale à la corde AD , & l'angle EAF sera de 40 degrez.

Si on veut faire un angle de 50 ou 60 degrez, il faut ouvrir le Compas de proportion jusques à ce que EF , soit égal à la corde de 50 degrez AO , ou à celle de 60 AE , & ainsi de tous autres angles.

PROP. II.

Mesurer l'angle IGH .

Posez le Compas de proportion à trois ou quatre pieds de l'angle G , par exemple en L , puis



tendez des cordeaux LM, LN, paralleles aux deux murs GH, GI, afin d'avoir l'angle MLN, égal à l'angle IGH.

Accommodez les jambes du Compas de proportion, ou pour mieux dire, dirigez leurs lignes des cordes sur les cordeaux LM, LN; & le Compas estant ainsi ouvert, d'un angle égal au proposé, le nombre des degrez de son ouverture se trouvera comme s'ensuit.

Prenez avec un Compas commun, la distance EF, qui est entre les points de 60 degrez.

Portez cette ouverture de compas commun sur une des lignes des cordes, & trouvant qu'elle embrasse la corde AD de 140 degrez, concluez que l'angle est ouvert de 140 degrez.

USAGE DE LA PLANCHETTE.

La Planchette est un ais d'environ douze ou quinze pouces en quarré, montée sur un pied à trois branches.

On travaille sur cette Planchette comme sur une petite table, le papier y est arrêté avec un chassi qui s'emboite au bord, & les lignes qu'on tire dessus, se dirigent par des épingles qu'on fait servir de visières & de petits piquets.

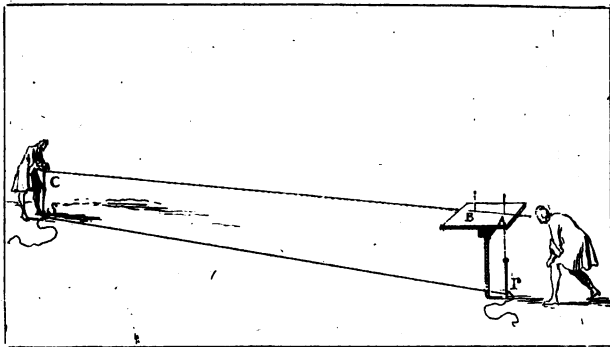

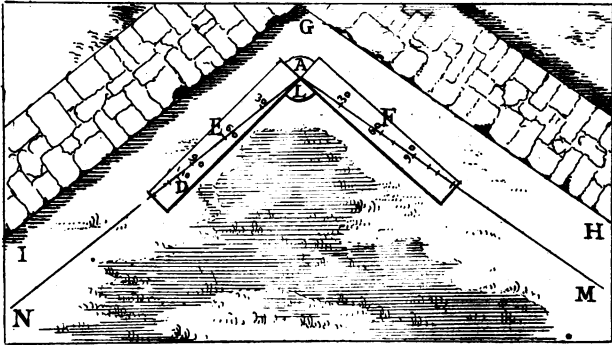
PROPOSITION I.




Tirer une ligne sur le terrain qui réponde à la ligne AB proposée sur la Planchette.

Fichez sur la ligne proposée AB, deux épingles, l'une à l'extrémité A, & l'autre à l'extrémité B.

Plantez dans le terrain un piquet P, directement au dessous de l'épingle A.

Attachez le cordeau par un bout à ce piquet P, & quelqu'un portant l'autre bout avec un piquet C, faites diriger le cordeau PS, sous la ligne AB, je





veux dire, faites planter le piquet C dans le rayon visuel ABC, & le cordeau estant bien tendu fera la ligne demandée.

PROP. II.

Un angle ABC estant proposé sur la planchette, en aligner un semblable sur le terrain.

Tendez sur le terrain, les cordeaux BD, BE, précisément sous les lignes BA, BC (par la précédente.)

PROP. III.

Du point O, donné sur la planchette, tirer une ligne vers quelque endroit proposé, par exemple vers le clocher F.

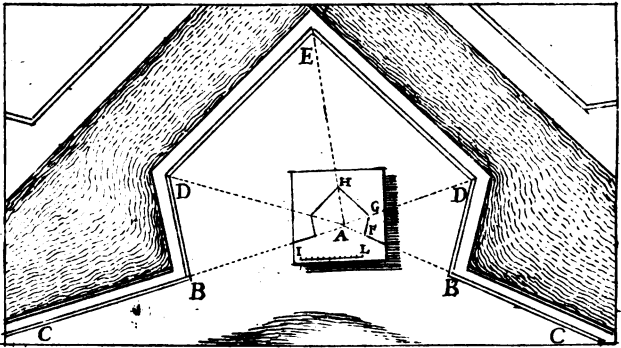
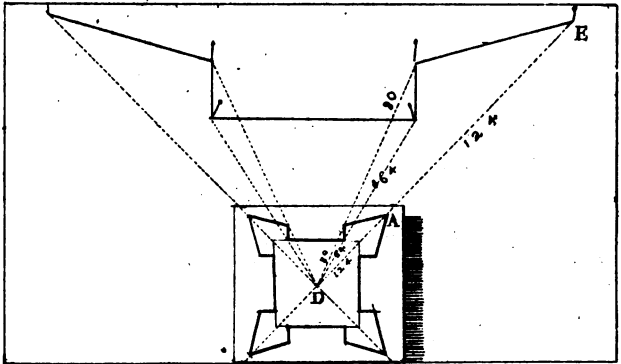
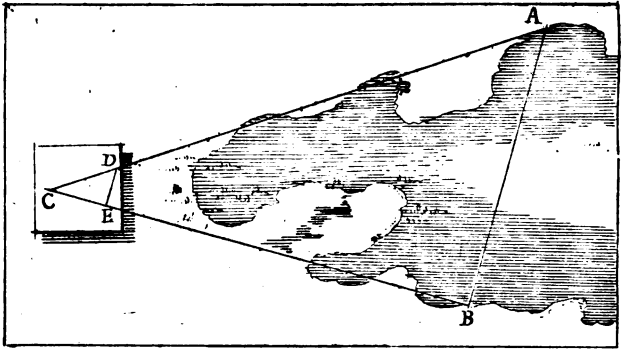
Fichez une épingle bien à plomb au point O, & regardant le clocher F, par le bas de cette épingle, plantez dans le rayon visuel OF, & vers le bord de la planchette, une autre épingle H, puis tirez la ligne demandée OH.

PROP. IV.

Mesurer une largeur inaccessible, par exemple, celle d'un marais AB.

Placez la planchette à quelque endroit comme C, d'où vous puissiez aller en lignes droites vers les buts A & B; & d'un point C pris sur la planchette, dirigez les rayons, sçavoir CD vers A, & CE vers B.

Mesurez les longueurs CA, CB, & les raccourcissez proportionnellement sur la planchette par le moyen d'une petite échelle: par exemple, si CA est de 36 toises & CB de 30; prenez sur l'échel-



le GH 36 petites parties pour CD, 30 pour CE; & le nombre des petites parties de la ligne DE vous fera connoître combien il y aura de toises du point A au point B (*suivant la 58 du 2.*)

PROP. V.

Estant donné un plan sur la planchette, en tracer un semblable sur le terrain.

Posez la planchette dans le milieu du terrain où vous avez à exécuter le plan proposé, qui par exemple est d'un petit Fort, dont la longueur de chaque rayon est connuë par les chiffres qui sont écrits dessus.

Dirigez avec le cordeau, des rayons sur le terrain qui répondent à ceux du plan donné sur la planchette, (*par la 1*) par exemple, le rayon OA est chiffré de 124 toises, prenez le cordeau DE de 124 toises, & ainsi du reste. (*Voyez la 6 du 6.*)

PROP. VI.

Lever le plan d'une place, & premierement du bastion D E D.

Posez la planchette dans la gorge du Bastion, à l'endroit A, d'où vous pourrez enfilez les deux courtines BC, BC.

Du point A pris sur la planchette, dirigez des rayons vers tous les angles du Bastion.

Mesurez les rayons AB, AD, AE, &c.

Racourcissez ces rayons proportionnellement sur la planchette, par le moyen d'une échelle IL.

Menez FG, GH, HG, &c. & vous aurez le plan du Bastion proposé.

Mettez une autre feuille de papier sur la planchette, puis faites le plan du Bastion suivant, &

passiez ainsi de Bastion en Bastion jusqu'au dernier, en observant la longueur des courtines.

Tous les Bastions de la Place estant tracez avec leurs courtines sur autant de morceaux de papier, vous les assemblerez sur une table, & si la closture du Plan ne se trouve pas juste, je veux dire, si assemblant ces parties, la premiere ne se rapporte pas tout-à-fait avec la derniere, il faudra regagner ce deffaut en ouvrant ou reserrant tant soit peu chaque angle de la figure.

PROP. VII.

Lever la situation de plusieurs Villages en même temps; par exemple, des trois Villages A, B, C.

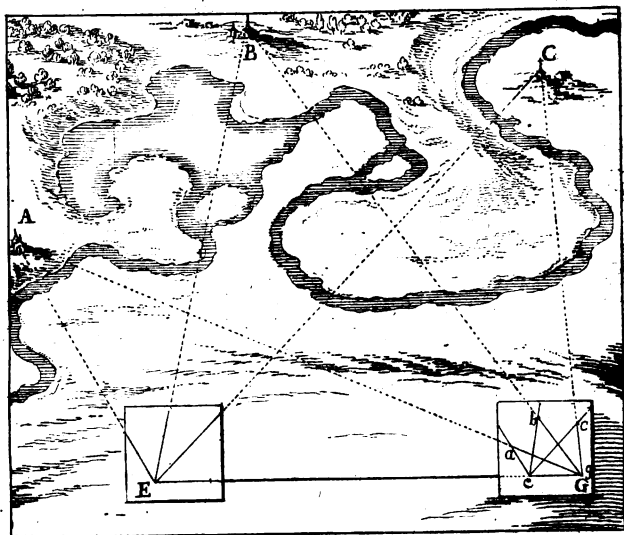
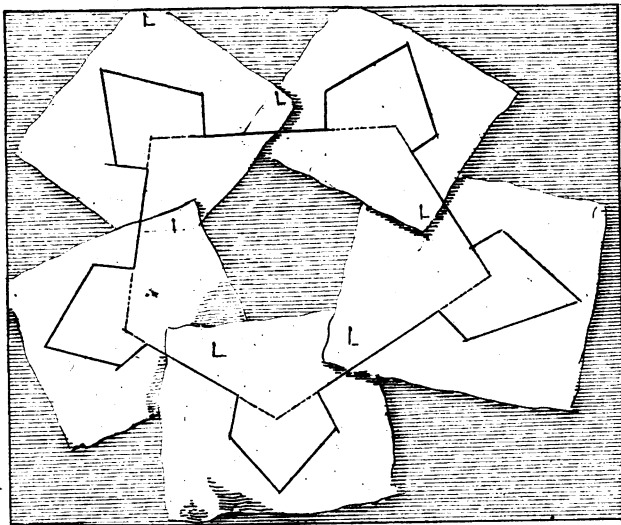
Choisissez un terrain où vous puissiez avoir une base de cinq ou six cent toises, & plus s'il est possible, & que de ses extrémités E, G, on découvre les Villages proposez.

A l'une des extrémités de cette base comme E, & du point E, pris sur la planchette, dirigez des rayons vers les clochers ou lieux plus apparens de ces Villages; & un autre rayon vers le piquet G, (*suivant la 3.*)

De ce dernier rayon, faites une base sur la Planchette, qui réponde à celle que vous avez prise sur le terrain, & écrivez sur chaque rayon le nom du Village où il est dirigé.

Transportez la planchette en G, & la tournez de sorte que la base e g que vous avez tiré dessus, se trouve au dessus de celle du terrain E G. *Puis*

Du point G pris sur la planchette, dirigez aussi des rayons vers les Villages, A, B, C, & les points a, b, c, où ils couperont les rayons de la premiere station, seront en distance avec leur base e g, comme les trois Villages A, B, C, avec leur base E G.



En dirigeant les rayons visuels, il faut avoir soin que la Planchette soit toujours de niveau, & jamais inclinée; cette circonstance est absolument nécessaire pour bien reussir.

PROP. VIII.

Conduire du point A, une ligne parallele à la muraille CD, de laquelle on ne peut approcher.

PLantez la Planchette B, à quelque endroit assez éloigné du point A.

Du point B, dirigez sur la Planchette des rayons vers les points A, C, D.

Transportez la Planchette en A, & la posez de telle sorte que le rayon AI, fasse partie du rayon AB.

Du point A, dirigez les rayons AC, AD, & par les points où ils couperont ceux de la première station, menez EF, laquelle sera parallele à CD.

Menez sur la Planchette, la ligne AO parallele à EF, & sous cette ligne, tirez sur le terrain la demandée AL (par la 1.)

PROP. IX.

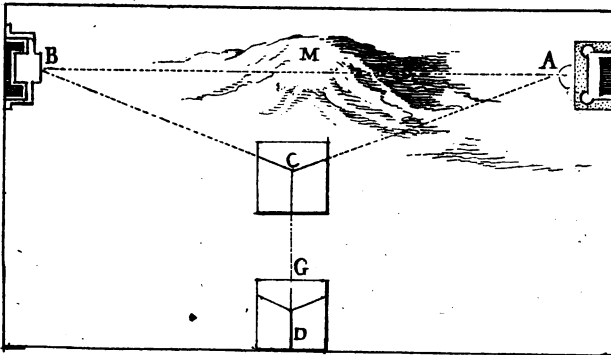
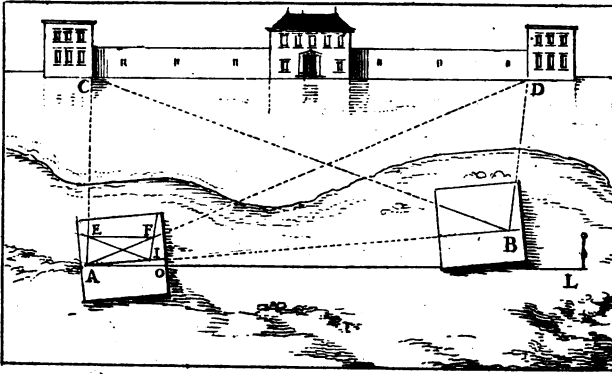

Tirer une ligne vers un lieu qu'on ne voit pas.

Supposé que la montagne M, empêche qu'on voye du point B, le lieu A vers lequel on doit tirer une ligne.

Avancez en quelque endroit C, d'où vous puissiez découvrir les deux points A & B.

En ce lieu, & du point C pris sur la Planchette, dirigez des rayons vers A & B, & un troisième vers un autre point comme D, d'où l'on pourra aussi découvrir les mêmes points A & B.

Transportez la Planchette en D, & la plantez de maniere que le rayon DG pris sur la Planchette, se



244 TRAITÉ DE GEOMETRIE.
trouve sur le rayon DC ; puis du point D , dirigez les seconds rayons DA , DB .

Des points E , F , où ces rayons couperont les premiers, menez la ligne EF , & enfin faites (par la 2) l'angle HBI égal à l'angle DEF , & BI fera dirigée vers le lieu proposé A .

PROP. X.

Diviser le Pré BF en deux parties égales par une ligne droite menée du point G .

L Evez un plan du Pré proposé.
Divisez ce plan HI en deux également par la ligne LM (suivant la 12 du 5.)

Mesurez exactement OM , MI , puis coupez RF en S , comme OI l'est en M , & la ligne GS fera le partage demandé.

PROP. XI.

Mesurer la hauteur d'un Bastiment AB , qui est à plomb sur un pavé bien de niveau AG .

P Osez la Planchette bien à plomb en quelque lieu commode ; par exemple en C .

Tirez sur cette Planchette la parallèle DH .

Du point D tirez le rayon DF vers l'extrémité du Bastiment B .

Prolongez ce rayon jusques sur le pavé en G .

Voyez le nombre de pieds qu'il y a entre A & G , & coupez DH , d'autant de petites parties.

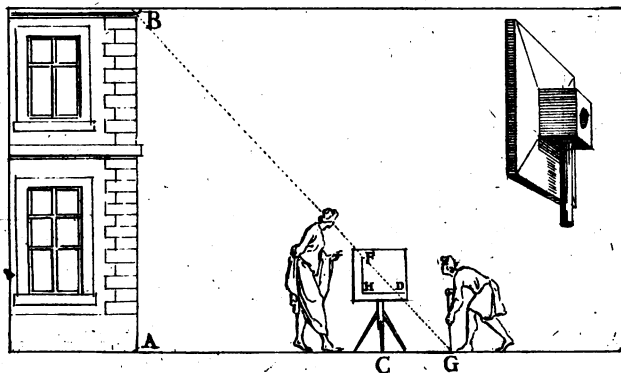
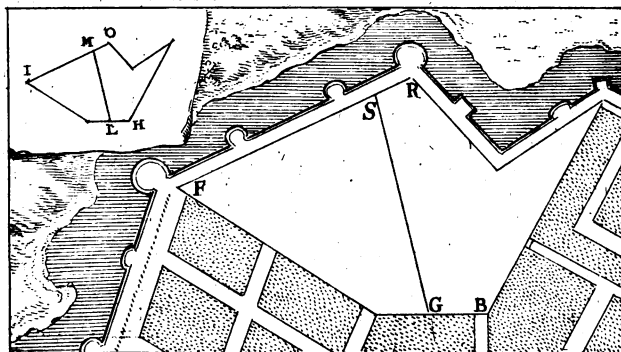
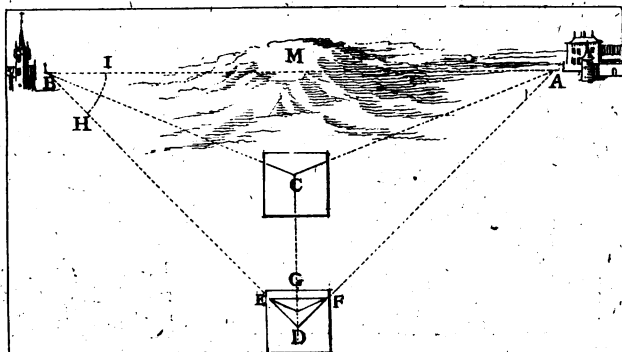
Elevez la perpendiculaire HF , elle contiendra autant de petites parties de la ligne DH , que la hauteur AB contiendra de pieds (suivant la 53 du 2.)


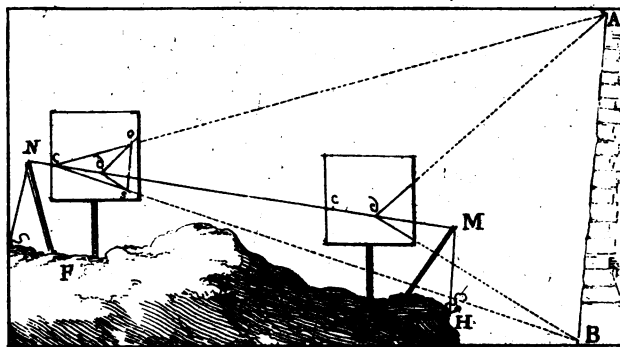
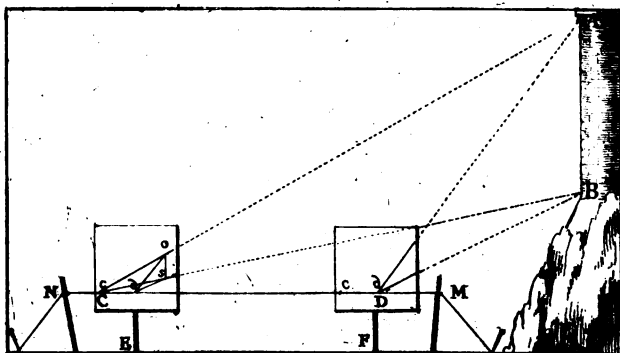
PROP. XII.

Mesurer la hauteur AB , de laquelle on ne sçauroit approcher.

T irez sur la Planchette, une base cd .

A la hauteur de cette base, tendez un fil NM





CHAPITRE X.

247

par le moyen de deux bâtons comme il paroît par cette figure.

Sur ce fil marquez une longueur CD de sept ou huit pieds ou plus, laquelle servira de base pour le terrain.

Du point d , dirigez sur la Planchette deux rayons, l'un vers A , & l'autre vers B .

Transportez la Planchette en E , & l'ajustez de maniere que le point c se trouve sur le point C , de même que la base cd sur la base CD .

Tirez du point c deux autres rayons vers les points A & B , & les points où ils couperont les premiers rayons, donneront la hauteur os qui sera à la petite base cd , comme AB est à la grande base CD .

PROP. XIII.

Mesurer sur le terrain inégal & penchant FH , une hauteur inaccessible AB .

LA pratique de cette Proposition est semblable à la précédente, & la différence de terrain ne change rien dans l'operation.

PROP. XIV.

Mesurer la hauteur de la montagne AB .

POsez la Planchette bien à plomb au pied de la montagne.



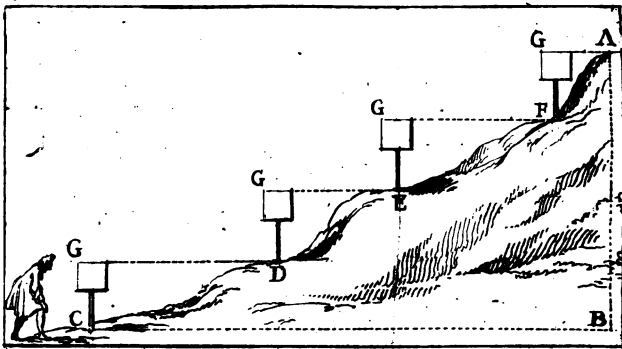
Dirigez un rayon GD par le costé supérieur de la planchette.

Transportez la planchette en D , & là, dirigez un autre rayon de niveau GE .

Continuez la même chose jusqu'au sommet A , & le nombre des stations donnera la hauteur AB , car supposé dix stations, la planchette ayant 4. pieds de haut, ce sera 40 pieds pour la hauteur de la montagne.

Par la même pratique on connoistra la descente

Q



AC & la distance BC, en mesurant les rayons GD, GE, GA, &c.

PROP. XV.

Mesurer le talu du rampart AB.

Prenez une pique, & attachez au bout un plomb qui descende au bas du fossé.

Tenez cette pique couchée sur le haut du rampart, & l'avancez jusqu'à ce que le plomb tombe sur le deffaut du talu B, sa saillie AD dans le fossé, sera égale à la mesure demandée CB (*suivant la 38 du 2.*)

PROP. XVI.

Mesurer la hauteur des étages, fenestres, portes, & autres parties de la face d'une maison.

Placez-vous à quelque distance de la maison, par exemple en A, & vous tenant arrêté, ferme, & sans mouvoir la teste; marquez sur une regle ou cane OG qu'on tiendra droite devant vous, le passage des rayons visuels par lesquels vous verrez les hauteurs à mesurer; & les parties BFIKG seront entr'elles comme les parties DEHLC.

Mesurez ensuite avec un pied ou une toise, la partie inferieure du Bastiment DE, qui vous est accessible, & supposé qu'elle se trouve estre de 8 pieds, divisez BF en 8 parties égales, cette division sera une échelle pour mesurer les parties FIKG.

FIN.

11A

11

Bibliothek des Deutschen Museums



057002463475

